



太原市 2016~2017 学年第一学期七年级期末考试

地理试卷

(考试时间:下午 2:30—4:00)

说明:本试卷为闭卷笔答,答题时间 90 分钟,满分 100 分。

题号	一	二	三	四	总分
得分					

一、选择题(每小题 2 分,共 30 分。下列各题的选项中,只有一项符合题目要求,请将正确选项的字母填入下表相应位置)

题号	1	2	3	4	5	6	7	8	9	10	11	12	13	14	15
答案															

1. 下列大洲的轮廓图中,表示亚洲的是



A



B



C



D

2. 本初子午线(0°经线)的地面标志位于

A. 中国北京天文台

B. 美国华盛顿天文台

C. 法国巴黎天文台

D. 英国伦敦格林尼治天文台原址

3. 从南极到北极,纬度的变化规律是

A. 由大变小再增大

B. 逐渐增大

C. 由小变大再减小

D. 逐渐减小

4. 有指向标的地图上,指向标的箭头一般指示

A. 东方

B. 南方

C. 西方

D. 北方

5. 一般情况下,太原市一天当中最高气温出现在

A. 上午 10 点左右

B. 日出前后

C. 午后 2 点左右

D. 中午 12 点

6. 下列叙述气候的是

A. 太原冬季寒冷干燥,夏季高温多雨

B. 柴门闻犬吠,风雪夜归人

C. 东边日出西边雨,道是无晴却有晴

D. 夜来风雨声,花落知多少

7. 位于非洲,被称为“赤道雪山”的是

A. 喜马拉雅山

B. 乞力马扎罗山

C. 阿尔卑斯山

D. 安第斯山

8. 下列地区中,主要分布着黄色人种的是

A. 非洲北部和西部

B. 北美洲中部和东部

C. 亚洲东部和东南部

D. 大洋洲西部和北部



9. 世界上使用人数最多和使用范围最广的语言分别是

- A. 英语和汉语 B. 汉语和英语 C. 日语和法语 D. 法语和德语

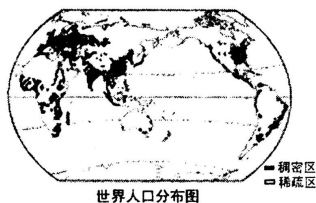
读右图, 完成 10~11 题。

10. 下列地区中, 属于世界人口稠密区的是

- A. 亚洲东部和南部 B. 亚洲北部
C. 非洲北部和南部 D. 北美洲北部

11. 从纬度位置看, 世界人口稠密区主要分布在

- A. 中、高纬度地区 B. 低纬度地区
C. 中、低纬度地区 D. 高纬度地区



12. 目前世界上信仰人数最多的宗教是

- A. 佛教 B. 天主教 C. 基督教 D. 伊斯兰教

13. 下列国家中, 属于发达国家且位于北美洲的是

- A. 日本 B. 澳大利亚 C. 巴西 D. 加拿大

14. 下列组织中, 目前属于全球最大的区域经济合作组织之一的是

- A. “世界贸易组织” B. “亚太经济合作组织”
C. “东南亚国家联盟” D. “石油输出国组织”

15. 2017 年 1 月 28 日是农历春节, 这一天太原市的昼夜长短状况是

- A. 昼长夜短 B. 昼夜长短相等
C. 昼短夜长 D. 昼最短夜最长

二、连线题(共 10 分)

16. (4 分) 将下列地理现象与相对应的影响因素用直线连接起来。

- | | |
|-----------------------|--------|
| A. 赤道地区阳光灼热, 两极地区冰天雪地 | ① 人类活动 |
| B. 五台山是我国华北地区著名的避暑胜地 | ② 纬度位置 |
| C. 亚欧大陆沿海地区比内陆地区降水丰富 | ③ 地形因素 |
| D. 冬季, 我国北方塑料大棚里可生长蔬菜 | ④ 海陆分布 |

17. (6 分) 将下列宗教建筑与相对应的宗教及建筑名称分别用直线连接起来。

A. 佛教


a.



① 清真寺

B. 伊斯兰教


b.



② 寺庙

C. 基督教

c.

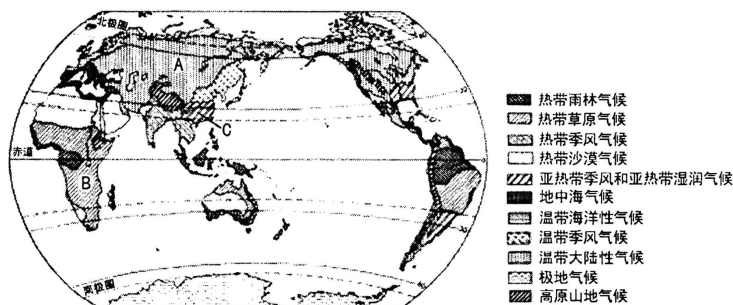


③ 教堂



三、读图分析题(共 45 分)

18. (15 分)读“世界气候类型分布图”,完成下列各题。

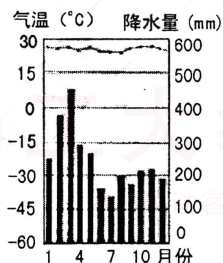


(1)在图中用 2B 铅笔或碳素笔分别描出南、北回归线。(2 分)

(2)写出图中字母所代表的气候类型。(3 分)

A. _____ B. _____ C. _____

(3)世界气候类型的分布有一定的规律性,其中主要分布在低纬度地带的有热带雨林气候、
_____ 气候、_____ 气候和 _____ 气候。(3 分)



(4)上图某地气温曲线和降水量柱状图,该地年均温在 20°C 以上,位于 _____ 带,年降水量在 2000mm 以上,属于 _____ 气候。七大洲中,此种气候类型分布最广的是 _____ 洲。(3 分)

(5)下列现象中,能引起全球气候变暖的是() (2 分)

- A. 沙漠面积扩大
- B. 二氧化碳气体增多
- C. 城市规模扩大
- D. 水土流失更加严重

(6)人类有哪些行为会对气候或天气产生不利影响?(2 分)