



## 2016~2017 学年第一学期七年级阶段性测评

## 地理试卷

(考试时间:上午 10:00—11:30)

说明:本试卷为闭卷笔答,答题时间 90 分钟,满分 100 分。

题号	一	二	三	四	总分
得分					

一、选择题(下列各题的选项中,只有一项正确,请将正确选项的字母填入下表相应位置。每小题 2 分,共 30 分)

题号	1	2	3	4	5	6	7	8	9	10	11	12	13	14	15
答案															

1. 人类认识地球形状的过程依次是



①地球卫星照片



②天圆地方



③麦哲伦环球航行

A. ①②③

B. ①③②

C. ②①③

D. ②③①

2. 地球上,地轴与地球表面的交点称为两极,其中北极总是指向

A. 月球

B. 北极星附近

C. 太阳

D. 北斗七星附近

3. 地球上最大的纬线圈是

A. 北回归线

B. 北极圈

C. 赤道

D. 南极圈

4. 下列地理现象中,由地球公转产生的是

A. 日月星辰东升西落

B. 我国大多数地区四季分明

C. 日出而作,日落而息

D. 我国观众半夜看巴西奥运比赛

5. 马里亚纳海沟是地球上最深的地方,其位于

A. 太平洋

B. 大西洋

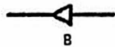
C. 印度洋

D. 北冰洋


6. “不到长城非好汉……”出自毛泽东的《清平乐·六盘山》。今年国庆期间北京八达岭长城的游客络绎不绝,下列图例表示长城的是



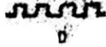
A



B



C



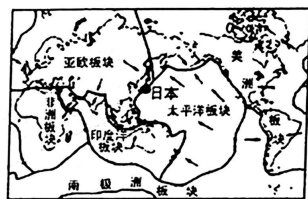
D



7. 小明爸爸一行人要去非洲五国考察, 他们想了解五国具体位置, 应该查阅的地图是
- A. 非洲政区图 B. 非洲河流分布图  
C. 非洲旅游图 D. 非洲人口分布图
8. 地图的基本要素是
- A. 指向标, 图例, 注记 B. 方向, 比例尺, 图例和注记  
C. 指向标, 颜色, 图例 D. 方向, 比例尺, 等高线
9. 七大洲中纬度最高的是
- A. 南美洲 B. 亚洲 C. 南极洲 D. 非洲
10. 苏伊士运河两侧的大洲是
- A. 欧洲和非洲 B. 南美洲和北美洲  
C. 亚洲和非洲 D. 亚洲和欧洲

右图为“六大板块示意图”。读图完成 11~13 题。

11. 2016 年 9 月 23 日, 日本东部海域发生 6.5 级地震。日本被称为“地震之邦”, 主要原因是该国位于
- A. 亚欧板块和印度洋板块交界地带  
B. 亚欧板块和太平洋板块交界地带  
C. 印度洋板块和太平洋板块交界地带  
D. 太平洋板块和美洲板块交界地带



12. 图中箭头“→”的含义是
- A. 板块很稳定 B. 板块相互靠拢  
C. 板块的边界 D. 板块运动方向
13. 依据板块构造理论, 下列地区属于世界著名火山、地震带的是
- A. 亚欧大陆内部 B. 南极大陆内部  
C. 地中海—喜马拉雅山地区 D. 太平洋中心地区
14. 下面是科学家研究地壳运动时搜集的一些资料, 其中能证明海陆变迁的是
- A. 1907 年, 在台湾海峡的海底发现了河道和水井的遗迹  
B. 1992 年, 印度发生百年一遇的洪水, 淹没了万顷良田  
C. 1993 年, 大兴安岭发生森林火灾, 大片林海变成了荒野  
D. 2008 年, 四川汶川发生 8.0 级地震, 导致大量房屋倒塌

15. 太原市一年中昼最短、夜最长的节气是
- A. 春分 B. 夏至 C. 秋分 D. 冬至

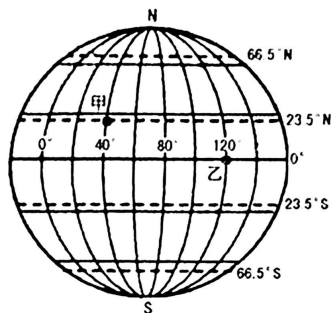
## 二、连线题(共 8 分)

16. (8 分) 将下列节气与对应的日期及太阳光直射点的位置分别用直线连接起来。
- |       |               |         |
|-------|---------------|---------|
| A. 春分 | ① 9 月 23 日前后  | a. 赤道   |
| B. 夏至 | ② 3 月 21 日前后  | b. 南回归线 |
| C. 秋分 | ③ 6 月 22 日前后  | c. 北回归线 |
| D. 冬至 | ④ 12 月 22 日前后 |         |



### 三、读图分析题(共 47 分)

17. (17 分)读“经纬网图”,完成下列各题。



(1)在图中适当位置用阴影表示北寒带。(1 分)

(2)写出甲、乙两地的经纬度位置。(4 分)

甲: \_\_\_\_\_, \_\_\_\_\_ 乙: \_\_\_\_\_, \_\_\_\_\_

(3)下列温度带在一年中太阳光直射两次的是( ) (2 分)

- A. 北寒带 B. 北温带  
C. 热带 D. 南温带

(4)地球仪上,纬度的变化规律是( ) (2 分)

- A. 从北向南逐渐增大 B. 从两极向赤道逐渐增大  
C. 从南向北逐渐增大 D. 从赤道向两极逐渐增大

(5)按要求完成下表。(5 分)

	经 线	纬 线
形 状	半圆弧	
长 度		
指示方向		

(6)假如你是陆海空总司令,某日部下报告:位于经度 40°,纬度 20°的地方发现敌情。你能迅速做出援军的决策吗?为什么? (3 分)