



2016~2017 学年第一学期七年级阶段性测评

历史试卷

(考试时间:下午 2:30—4:00)

说明:本试卷为闭卷笔答,做题时间 90 分钟,满分 100 分。

题号	一	二	三	四	总分
得分					

一、单项选择题(本大题共 15 小题,每小题 2 分,共 30 分)

题号	1	2	3	4	5	6	7	8	9	10	11	12	13	14	15
选项															

- 我国是世界上发现远古人类遗址最多的国家之一,其中某处的远古人类遗址是迄今所知世界上内涵最丰富、材料最齐全的直立人遗址。这一远古人类是
A. 元谋人 B. 北京人 C. 山顶洞人 D. 河姆渡人
- 中国原始农业兴起于黄河、长江和淮河等流域,原始农业为古代文明社会的形成奠定了重要的物质基础。下列哪些现象是原始农业出现的重要标志
①农作物的出现 ②家禽、家畜的饲养 ③城市的出现 ④磨制工具 ⑤聚落
A. ①②③④ B. ②③④⑤ C. ①②④⑤ D. ①③④⑤
- 后人尊崇炎帝和黄帝为中华民族的人文始祖,海内外的华人也自称为“炎黄子孙”。这主要是因为
A. 炎黄在阪泉大战后结成部落联盟 B. 炎帝教民开垦耕种,制作生产工具
C. 炎黄战蚩尤后,华夏族逐渐形成 D. 黄帝时期创造文字,教民缁丝纺织
- 下列关于传说和史实的说法,不正确的是
A. 传说是没有文字以前,人们口耳相传的历史记录
B. 传说是先民们对上古时代历史的夸大,毫无依据
C. 史实大多是客观存在的较为真实的历史记载
D. 史实和传说不是截然对立的,是有一定联系的
- 下面是张华同学复习中国古代夏商周时期政权更迭制作的年代尺。其中①处应该是
约公元前2070年 约公元前1600年 公元前1046年 公元前770年
① ② ③ ④
A. 夏朝 B. 商朝 C. 西周 D. 东周
- 据《史记·殷本纪》记载,商纣创制“炮烙之刑”,“以酒为池,悬肉为林”,作长夜之饮。从这段材料中可以得到的信息是
A. 商朝社会经济繁荣 B. 商纣与民同乐
C. 商朝酒肉供应充足 D. 商纣荒淫无道



7. 2011年3月底,中国国家博物馆新馆开馆。世界现存最大的青铜器——“中华第一鼎”正式移驻该馆。“中华第一鼎”指的是

- A. 司母戊鼎 B. 毛公鼎 C. 大盂铜鼎 D. 四羊方尊

8. 《礼记·礼运》记载:“大道之行也,天下为公,选贤与能……是谓大同。今大道既隐,天下为家……是谓小康。”这段材料反映了

- A. 禅让制取代了世袭制 B. “公”天下变成了“家”天下
C. 公有制变成了等级制 D. 富裕的生活取代了贫穷

9. 甲骨文是中国已发现的古代文字中年代最早、体系较为完整的文字,其使用多种造字方法,对中国文字的形成与发展有深远的影响。其中用图形、线条把物体的外形特征勾画出来的最原始的造字方法是

- A. 指事字 B. 象形字 C. 会意字 D. 形声字

10. 齐桓公采纳管仲的建议,改革内政,发展生产,训练军队;还打着“尊天子,攘四夷”的旗号,号令诸侯,故成为春秋时期的第一个霸主。这段话叙述了齐桓公称霸的

- A. 原因 B. 经过 C. 结果 D. 影响

11. 成语是中国传统文化的一大特色,它往往代表了一个故事或典故。下列来自于春秋战国时期的成语典故有

- ①围魏救赵 ②纸上谈兵 ③退避三舍 ④破釜沉舟 ⑤卧薪尝胆

- A. ①②③④ B. ①③④⑤ C. ②③④⑤ D. ①②③⑤

12. 中国银行行徽(图1)的外观设计灵感源自于我国古代的一种钱币(图2)。这种形状的钱币最早在全国统一使用是在

- A. 西周
B. 战国
C. 秦朝
D. 汉朝



图1



图2

13. 秦朝对农民征收沉重的赋税,迫使农民将2/3的收获物上缴国家,又连年在全国大规模地征调民力服徭役和兵役,如修建骊山墓和阿房宫役使70多万人,征伐南方调发了50万士卒,修筑长城征派了40万人;当时的刑罚极为残酷,有各种残害肢体的肉刑,单是死刑就有车裂、腰斩、活埋等10多种。下列能反映材料所述现象的有

- ①沉重的赋税 ②残酷的刑罚 ③焚书坑儒 ④繁重的徭役

- A. ①②③ B. ①②④ C. ①③④ D. ②③④

14. 对右图这场起义的说法,不正确的是

- A. 起义的领导者是陈胜和吴广
B. 是我国历史上第一次农民大起义
C. 推翻了秦朝统治,打击了地主阶级
D. 揭竿而起的革命首创精神永载史册



大泽乡起义

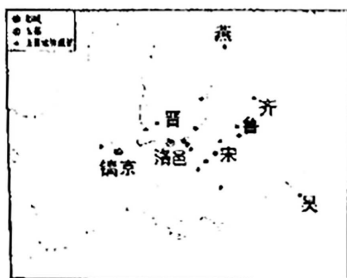
15. 中国象棋中“楚河汉界”的来历与历史上的“楚汉之争”(公元前206年~公元前202年)相关。这场战争发生于

- A. 公元前2世纪早期 B. 公元前2世纪晚期
C. 公元前3世纪早期 D. 公元前3世纪晚期



二、简答题(本题共 16 分)

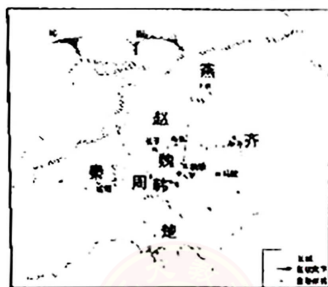
16. 释读地图是历史学习的基本技能之一,它能帮我们发展历史时空观念。读图,回答下列问题。



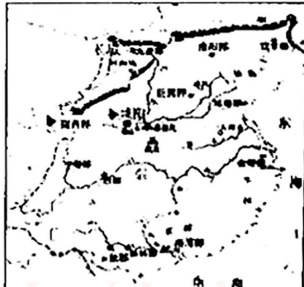
图一 周初分封诸侯国分布图



圖二 春秋爭霸形勢圖



图三 战局形势图



图四 秦朝形势图

- (1)图一中的诸侯国建立与哪一制度有关?这一制度建立的目的是什么?(4分)

- (2)对比图二、三形势图,指出从图二到图三发生的变化。(4分)

- (3)根据图四信息,在下面横线上填写正确答案。(6分)

秦朝都城_____ 秦管理地方的制度_____ 秦朝疆域南达_____

- (4)根据右图提示,概括从图一到图四历史发展的趋势。(2分)

