



2016~2017 学年第二学期七年级阶段性测评

地理试卷

(考试时间:上午 10:00——11:30)

说明:本试卷为闭卷笔答,答题时间 90 分钟,满分 100 分。

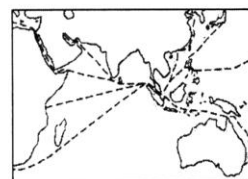
题号	一	二	三	四	总分
得分					

一、选择题(下列各题的选项中,只有一项正确,请将正确选项的字母填入下表相应位置。每小题 2 分,共 30 分。)

题号	1	2	3	4	5	6	7	8	9	10	11	12	13	14	15
答案															

右图为“东南亚某海峡海上航线示意图”。读图完成 1、2 题。

- 位于东南亚的世界著名海峡是
 - 土耳其海峡
 - 直布罗陀海峡
 - 麦哲伦海峡
 - 马六甲海峡
- 东南亚的地理位置非常重要,因其地处
 - 非洲和大洋洲、印度洋和太平洋的“十字路口”
 - 亚洲东部,太平洋东岸
 - 亚洲和大洋洲、印度洋和太平洋的“十字路口”
 - 大洋洲东部,印度洋西岸
- 一般根据体质特征可将人类分为黄、白、黑三大人种,亚洲是
 - 白色人种的故乡
 - 黄色人种的故乡
 - 黑色人种的故乡
 - 混血人的故乡
- 深居亚欧大陆内部,降水稀少,气温日较差和年较差都大的气候类型是
 - 温带海洋性气候
 - 地中海气候
 - 温带大陆性气候
 - 温带季风气候
- 亚洲各国经济发展水平不同,多属于发展中国家,唯一的发达国家是
 - 日本
 - 韩国
 - 老挝
 - 新加坡
- 西亚一些国家的居民,常把床铺放在屋顶上睡觉,这是因为
 - 能欣赏美丽的夜空
 - 当地气候温暖湿润
 - 能呼吸新鲜的空气
 - 当地气候炎热少雨
- 阿拉伯人是西亚分布最广泛的居民,他们主要信仰
 - 佛教
 - 犹太教
 - 基督教
 - 伊斯兰教

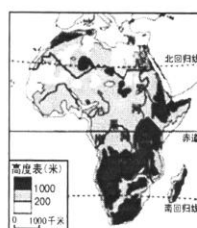




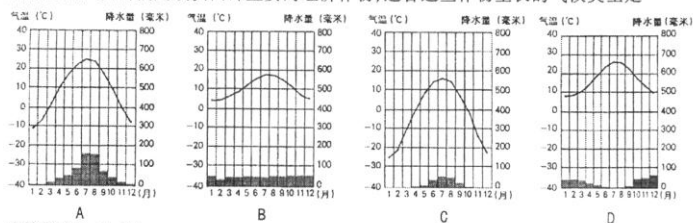
8. 世界上平均海拔最高的大洲是
- A. 南美洲 B. 欧洲
- C. 南极洲 D. 亚洲
9. 下列关于南极地区的叙述, 正确的是
- A. 以大陆为主体 B. 全部被冰层所覆盖
- C. 以海洋为主体 D. 全部位于南极圈以北

右图为“撒哈拉以南非洲示意图”。读图完成 10、11 题。

10. 下列关于撒哈拉以南非洲自然环境的叙述, 正确的是
- A. 介于太平洋和大西洋之间
- B. 全部位于南半球, 被称为“热带大陆”
- C. 地形以高原为主, 地势由东南向西北倾斜
- D. 世界上海岸线最曲折的地区, 多海湾和半岛
11. 撒哈拉以南非洲分布最广的植被类型是
- A. 热带雨林 B. 温带草原
- C. 热带草原 D. 温带森林



12. 欧洲西部河流众多, 其中流经国家最多的国际河流是
- A. 莱茵河 B. 多瑙河 C. 易北河 D. 罗讷河
13. 欧洲西部温带海洋性气候分布广泛, 大面积种植多汁牧草, 适宜发展
- A. 畜牧业和养殖业 B. 林业和养殖业
- C. 种植业和花卉业 D. 交通业和加工业
14. 下列关于欧洲西部经济高度发达的叙述, 正确的是
- A. 工业中心众多, 分布均衡 B. 工业以制造业为主
- C. 资本主义经济发展时间短 D. 农业在经济中所占比重大
15. 橄榄、葡萄、柑橘是欧洲西部重要的经济作物, 适合这些作物生长的气候类型是



二、连线题(共 10 分)

16. (5 分) 将下列地理现象与其所属地区用直线连接起来。

- | | |
|-------------------------|----------|
| A. 白色长袍是当地人的传统服饰 | ①撒哈拉以南非洲 |
| B. 成群的角马、羚羊往水草茂盛的地方迁徙 | ②西亚 |
| C. 曲折幽深的挪威峡湾景色宜人 | ③极地地区 |
| D. 巨厚的冰层覆盖在大地上、漂浮在洋面上 | ④东南亚 |
| E. 世界上橡胶、油棕等热带经济作物的最大产区 | ⑤欧洲西部 |

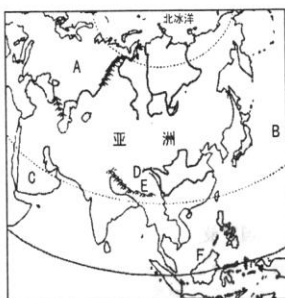


17. (5分)将下列旅游景点与其所属国家用直线连接起来。

- | | |
|----------|--------|
| A. 艾菲尔铁塔 | ①意大利 |
| B. 帕台农神庙 | ②印度尼西亚 |
| C. 仰光佛塔 | ③法国 |
| D. 古斗兽场 | ④希腊 |
| E. 婆罗浮屠 | ⑤缅甸 |

三、读图分析题(共45分)

18. (15分)读“亚洲示意图”,完成下列各题。



(1)在图中用2B铅笔或碳素笔描出赤道。(1分)

(2)写出图中字母所代表的地理事物的名称。(6分)

大洲:A _____ 大洋:B _____ 半岛:C _____
高原:D _____ 山脉:E _____ 群岛:F _____

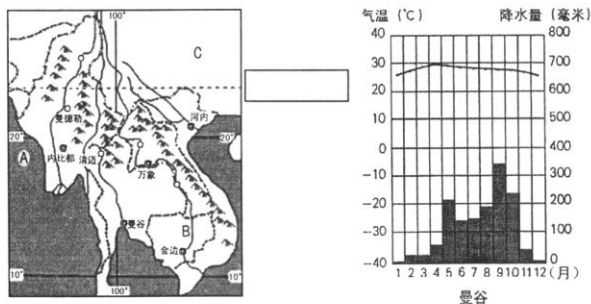
(3)亚洲河流众多,大多发源于中部且呈 _____ 状分布,说明亚洲的地势 _____ 高, _____ 低。(3分)

(4)亚洲的东部和南部是世界上季风气候最典型的地区。冬季,风从亚欧大陆内部的 _____ 和蒙古一带吹来,带来寒冷干燥的天气;夏季,风来自湿热的 _____ 和印度洋,带来高温多雨的天气。(2分)

(5)探究地区(或大洲)的自然环境,一般从哪些方面入手?(3分)



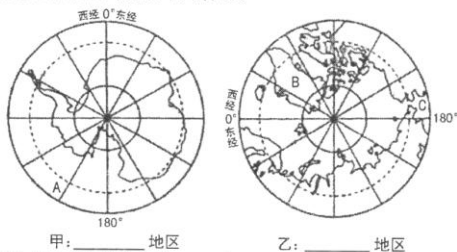
19. (15分) 读“中南半岛地形、河流与城市分布示意图”，完成下列各题。



- (1) 在图右侧的方格内标出重要纬线的名称。(1分)
- (2) 写出图中字母所代表的地理事物的名称。(3分)
- 海湾:A _____ 河流:B _____ 国家:C _____
- (3) 东南亚地处 _____ 带(温度带), 中南半岛大部分地区为右图所示的 _____ 气候, 该气候一年中有旱季和雨季之分, 农作物一般在 _____ 季播种, _____ 季收获, 本地区最主要的粮食作物是 _____。(5分)
- (4) 华人和华侨为东南亚的经济发展做出了巨大贡献, 他们主要来自我国的() (2分)
- A. 台湾、福建 B. 广东、福建
C. 广东、广西 D. 台湾、河南
- (5) 描述中南半岛的地形特征。(2分)
- (6) 沿河设城是中南半岛城市分布的普遍规律, 请说明河流对城市分布的影响。(2分)



20. (15 分)读“两极地区示意图”,完成下列各题。



甲: _____ 地区

乙: _____ 地区

(1)在图下方横线上填出地区的名称。(2分)

(2)写出图中字母所代表的地理事物的名称。(3分)

大洋:A _____ 岛屿:B _____ 海峡:C _____

(3)南极大陆大部分地区的年平均降水量仅 55 毫米,被称为地球上的“_____”,南极大陆的主要气候特征是_____、_____和_____。(4分)

(4)我国在北极地区建立的第一个科学考察站是() (2分)

A. 长城站 B. 中山站 C. 昆仑站 D. 黄河站

(5)下列图片中的动物被称为“冰上霸王”的是() (2分)



A



B



C



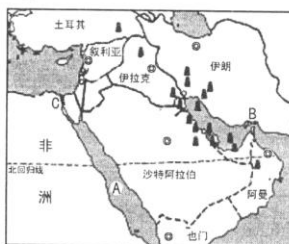
D

(6)赴南极地区开展科考活动的最佳时间是每年 11 月至次年 3 月,简析其主要原因。(2分)

四、材料分析题(共 15 分)

21. (15 分)阅读图文资料,完成下列各题。

材料一 “西亚地区示意图”



七年级地理 第 5 页 (共 6 页)



材料二 2017年3月15日至18日,沙特阿拉伯国王萨勒曼对中国进行了国事访问,访问期间,双方签署了产能、贸易、航天、新能源、教育等多个领域的一系列合作项目,两国的进一步交往将向中东国家和国际社会传递加强战略合作,深化发展对接,促进地区和平,打造人类命运共同体的积极信号。沙特阿拉伯是西亚重要的产油国,也是中国“一带一路”的重要站点,近年来,该国提出推动国内经济转型、摆脱对石油依赖的“愿景”,中国的“一带一路”和沙特的“愿景”深度对接,将有利于促进沙特经济多样化发展,调整过去单一的生产结构。

(1)在图中适当位置标出地中海。(1分)

(2)写出图中字母所代表的地理事物的名称。(3分)

海域:A _____ 海峡:B _____ 运河:C _____

(3)西亚地处亚、_____、_____三大洲的交界地带,目前是世界上最丰富的地区,被称为“_____”,其中沙特阿拉伯石油储量居世界第一位,以“_____”著称。(4分)

(4)沙特国王此次访华期间,双方签署了_____、贸易、_____、新能源、_____等多个领域的一系列合作项目。(3分)

(5)描述西亚地理位置的重要性。(2分)

(6)中国的“一带一路”与沙特的“愿景”深度对接,将会给沙特带来哪些影响?(2分)

附:奖励题(要自信,你能行!)(3分)(加入总分不再另计,高出满分者也按100分计)

22.(3分)读“欧洲西部气候类型分布图”,完成下列各题。

(1)位于同纬度的A、B、C三地,气温年较差从大到小的排序是_____,年降水量从大到小的排序是_____。(2分)

(2)高山气候主要分布在_____山脉。(1分)

