



太原市外国语学校高一年级 10 月考试卷（政治）

一、选择题（在每小题列出的四个选项中，只有一项是最符合题目要求的。共 30 题，每题 2 分，共 60 分）

1. 2016 年，某国生产商品 8000 亿件，价格水平 15 元，货币流通次数平均 3 次，假定发行 50000 亿元，则 100 元的购买力为

A . 125 元 B . 100 元 C . 80 元 D . 75 元

2. 受英国“脱欧”的影响，美元指数及美元兑人民币汇率延续涨势，2016 年 6 月 28 日，境内银行间外汇市场人民币对美元汇率中间价设于 6.6528 元，较上一日再下调 153 基点，为连续第三日下调，近三日已累计下调 870 基点。该中间价同时也刷新了 2010 年底以来的新低。受此影响，不考虑其他因素，我国可能出现

国际资本外流，市场流动性紧张

国际资本涌入，市场流动性增加

人民币升值，进口增加

人民币贬值，出口增加

A . B . C . D .

3. 美元对人民币走势

	100 美元兑换人民币
2016 年 1 月 28 日	653.59 元
2016 年 1 月 29 日	655.16 元
2016 年 1 月 30 日	657.89 元

上述美元对人民币汇率保持下去将对中国经济产生的积极影响有

增加中国对外投资规模

扩大中国商品对美国的出口

刺激加大对美国商品的进口

利于吸引外国游客，促进旅游业的发展

A . B . C . D .

4. 目前最方便的车票分销方式莫过于网络直销即电子车票。火车票网络服务可以解决老百姓买火车票不方便问题，同时也为老百姓购票节省了交通成本与时间成本，特别为商务人士出行提供了较大的便利性。这种火车票网络服务

使货币的职能发生了变化

没有改变货币本身固有的职能



使用的是虚拟货币

使得商品交换的方式发生了变化。

A. B. C. D.

5. 近年来，人们越来越多地看到：一个企业日子好过不好过，关键是看，它的产品是
否符合社会需要，有没有销路。一个产品救活一个企业的事例屡见不鲜，一些企业因产品而
陷入半停产、停产困境、亏损严重。这说明（ ）

- A. 商品的价值是由使用价值决定的
- B. 商品的使用价值是商品价值实现的基础
- C. 商品是使用价值和价值的统一体
- D. 价值是商品的自然属性

6. 2015 年全年，我国国内居民消费价格指数（CPI）持续低迷，同比上涨 1.4%，创 6
年新低，存在通货紧缩风险。对通货紧缩可能带来的影响，下列说法正确的是：

- A. 企业产品积压，利润下降
- B. 居民收入增加，消费水平提高
- C. 社会总需求提高，经济过热
- D. 投资收益提升，投资热情提高

7. 如今，“互联网 +”已经渗透到生活的方方面面，逐步改变着人们“穷家富路，多带现
金”的传统观念。一部手机就能搞定微信、支付宝收付款，网上购物更便捷。使用移动支付

创新了交换形式，方便购物消费

拓宽了交易渠道，只需要虚拟的货币

降低了通胀风险，节省流通中所需货币量

满足了支付需求，货币仍执行流通手段的职能

A. B. C. D.

8. 2015 年政府工作报告指出：“人的生命最为宝贵，要采取更坚决措施，全方位强化
安全生产，全过程保障食品药品安全。”保障食品药品安全的生活依据是

- A. 商品是使用价值和价值的统一体
- B. 使用价值是商品价值的重要表现
- C. 食品安全会影响人们的消费结构
- D. 食品安全关乎企业的信誉和形象

9. 巴西发行全套 36 枚纪念币，包括 4 枚金币、16 枚银币和 16 枚用于市面流通的普通



钱币。下列对该金银纪念币认识正确的是



本质是一般等价物

有收藏价值，但不可以流通

对我国来说是外币，不是外汇

能执行贮藏手段、世界货币等职能

A、 B、 C、 D、

10. 2016年里约奥运会北京时间 8月6日 07:00 开幕，口号——“一个新世界”，寓意将创造一个更美好的世界，以影响和改变下一代。徽内三个连在一起的抽象人形手腿相连，组成里约面包山形象，吉祥物分别代表了巴西的动物和植物，体现出桑巴国度的热情与奔放。作为商标的奥运会吉祥物标识



A、是商品，因为是用于交换的劳动产品

B、不是商品，因为它只有使用价值没有价值

C、是商品，因为它既有价值又有价格

D、不是商品，因为它虽是劳动产品但不用于交换

11. 目前，在 5G 技术研发等方面中国已开始布局。相比 4G 每秒 100MB 的峰值速度，5G 理论值将达到每秒 10GB。大众希望的技术进步，既要方便也要实惠。“好用不贵”才应该是信息服务的关键词。上述材料表明

消费可以引导生产的调整和升级

消费意愿是物质生产的前提基础



商品是使用价值和价值的统一体

科技含量高低决定商品价值大小

A . B . C . D .

12 . 央视纪录片《货币》的片头词这样写道： “ 她在今天人们的心中，仿佛是空气，是水，是阳光，是陪伴人一生的东西 ，，人们知道她从哪里来， 但不知道她到哪里去，她——就是熟悉而又陌生的货币。 ” 货币之所以如此重要，最根本的原因是

- A . 货币的本质是一般等价物，是社会财富的代表
- B . 货币具有神奇的魔力，能买到人们需要的一切
- C . 货币是特殊商品，有满足人们一切需要的属性
- D . 货币是国家强制使用的，代表着人们的经济利益

13 . 微信支付是以手机绑定银行卡为基础，向用户提供安全、快捷、高效的支付服务，目前微信支付已实现刷卡、扫描、公众号、 APP 等支付方式，并提供企业红包、代金券、立减优惠等营销新手段。与传统的线下支付相比，微信支付

- A . 改变货币本质，实现直接交换
- B . 依托科学技术，提高运营效益
- C . 创新服务模式，方便购物消费
- D . 减少现金使用，防止通货膨胀

14 . 王某正在美国留学， 拟购买一台手提电脑， 用美元现金或国内银行发行的信用卡结算。如王某使用信用卡， 国内银行按消费时的汇率自动将美元折算为人民币结算。 现预期人民币持续升值。假设价格和其他因素不变。王某的理性决策是

- A. 延期购买，用信用卡结算
- B. 即期购买，用美元现金结算
- C. 即期购买，用信用卡结算
- D. 延期购买，用美元现金结算

15 . 2015 年 8 月 20 日，中国人民抗日战争暨世界反法西斯战争胜利 70 周年纪念币一套正式发行。该套纪念币共 4 枚，其中金币 4 枚，银币 2 枚，镍包钢纪念币 1 枚，均为中华人民共和国法定货币。该货币本质是

- A. 一般等价物 B. 纸币 C. 铸币 D. 商品

16 . 来自中国外汇交易中心的数据显示， 2016 年 5 月 30 日人民币兑美元汇率中间价报 6.5784，为 2011 年 2 月以来最低。这对 来说是个好消息。



- A . 来中国旅游美国人
- B . 在中国生产销售的跨国公司
- C . 持人民币的美国投资者
- D . 去美元区购买配件的中国企业

17 . 假如一年内某国待售商品的价格总额为 10000 亿元 , 货币流通速度一年为 4 次 , 同期中央银行发行纸币 5000 亿元 . 若其他条件不变 , 此种情况会引起该国商品

- A . 价值量降低
- B . 价值量提高
- C . 价格下跌
- D . 价格上涨

18 . 摄影交换英语、美容交换弹钢琴、厨艺交换服装设计 , 目前 “ 技能交换 ” 正在都市白领圈悄然流行 , 许多白领出于职业需要或兴趣爱好 , 纷纷加入技能交换网 , 成为 “ 技客一族 ” . 下列关于 “ 技能交换 ” 的说法正确的是

- “ 技能交换 ” 是商品流通的一种形式
- “ 技能交换 ” 可以使商品的价值最大化
- 交换的 “ 技能 ” 凝结了无差别的人类劳动
- “ 技能交换 ” 需要遵循等价交换的原则

- A .
- B .
- C .
- D .

19 . 蝗虫毁农 , 蝗虫也可入食 . 一次偶然机会 , 某青年农民从中看到了商机 , 返乡创业 , 从事蝗虫养殖并收到了可观的经济效益 . 从商品的基本属性的角度分析 , 蝗虫之所以能够让农民致富 , 是因为

- 蝗虫的价格与价值相符
- 蝗虫养殖改变了其自身属性
- 蝗虫养殖耗费了人类劳动
- 蝗虫能满足人们的饮食需求

- A .
- B .
- C .
- D .

20 . 某国去年商品价格总额为 20 万亿元 , 流通中所需要的货币量 4 万亿元 . 假如货币流通速度不变 , 今年商品价格总额 30 万亿元 , 不考虑其他因素 , 理论上今年流通中所需的货币量为

- A . 5 万亿元
- B . 6 万亿元
- C . 7.5 万亿元
- D . 10 万亿元

21 . “ 我想租块地 , 自己种菜种粮食 ” . 在食品安全事件频发的当下 , 一些网友发出这样的呼声 . 人们自种自食的农产品



不是商品，因为它没有用于交换

是商品，因为它耗费了人类的劳动

不是商品，因为它只有使用价值

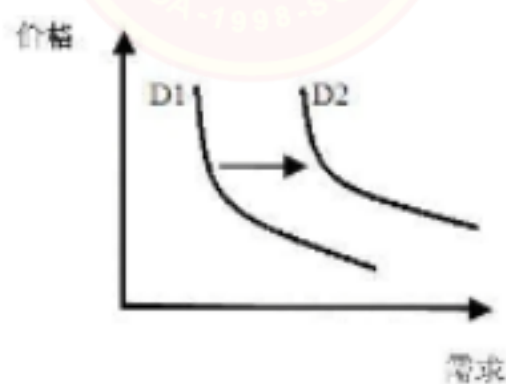
是商品，因为它能满足人们的需要

A . B . C . D .

22 . 马克思说：“假如用不多的劳动能把煤变成金刚石，金刚石的价值就会低于砖块的价值。”这是因为（ ）

- A. 科技进步使金刚石的使用价值功能日趋完善
- B. 科技进步可以提高金刚子的社会必要劳动时间
- C. 提高劳动生产率 . 可以降低金刚石的个别劳动时间
- D. 提高社会劳动生产率，能减少金刚石的社会必要劳动时间

23 . M 商品的价格与需求量之间的关系如下图所示。在不考虑其他因素的情况下，下列情形中，可能导致需求曲线由 D1 向 D2 平移的是



M 商品是苹果，鸭梨价格下降

M 商品是羊肉，牛肉价格提高

M 商品是汽车，汽车购置税下降

M 商品是烟草，烟草消费税税率提高

A . B . C . D .

24 . 生产某产品的 M 企业每月使用的原材料为 10 吨，现有甲乙两种原材料可以选择。甲原材料每吨价格为 1200 元，乙原材料价格便宜 10%，但需要另外支出 8 万元加配一台辅助性设备（使用期 10 年）。在销售价格、劳动力成本等其他因素不变的情况下， M 企业最终选择了乙原材料，这一选择的理由主要是

- A . 甲乙是替代品，乙原材料的消耗量比甲原材料低
- B . 甲乙是互补品，乙原材料的消耗成本比甲原材料低
- C . 甲乙是替代品，使用乙原材料会降低生产总成本



D. 甲乙是互补品，使用乙原材料会增加产品数量

25. 近年来，国内各景点游客激增，尤其是节假日，各大热门景区普遍“超载”。为缓解景区拥挤带来的安全、管理等问题，广大网民为景区各支高招，以下比较实际的是

通过提高价格，减少游览景区人数

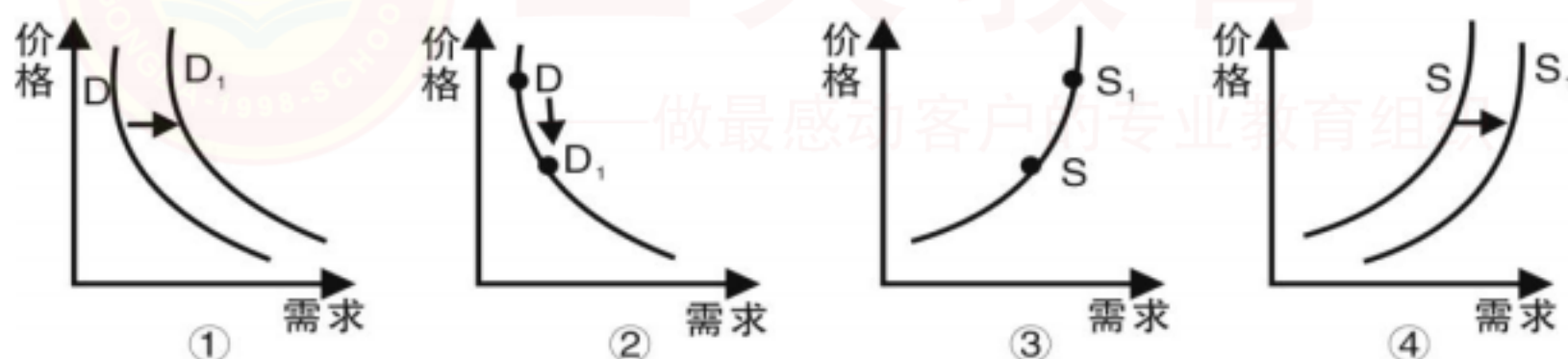
旅游旺季景区可以临时限制参观人数

完善节假日安排，分散长假为多个小长假

推出错峰参观的游览方案，增加景区的承载能力

A. B. C. D.

26. 2015 年 10 月 29 日党的十八届五中全会允许实行普遍二孩政策。实施全面二孩政策,对月嫂的消费需求产生了一定刺激。有些地区月嫂薪水飙升,进一步催热了眼下的月嫂服务行业。不考虑其他因素,能正确反映这种变动传导效应的是(注: D、S 为变动前, DI、SI 为变动后)



A. B. C. D.

27. 假定当 A 商品的互补品价格上升 10% 时，A 商品需求变动量为 20 单位；当 A 商品的替代品价格下降 10% 时，A 商品需求变动量为 30 单位。如果其他条件不变，当 A 商品的互补品价格上升 10%、替代品价格下降 10% 同时出现时，那么，A 商品的需求数量（ ）

- A. 增加 50 单位 B. 减少 50 单位
C. 增加 10 单位 D. 减少 10 单位

28. 价值规律是商品经济的基本规律，它对商品经济的作用可集中为一点，就是（ ）

- A. 促使社会资源不断优化和经济效益的提高
B. 形成以市场价格为主体的价格机制，调节生产和供求
C. 刺激商品生产者不断提高劳动生产率
D. 在国家的宏观调控下，通过竞争实现优胜劣汰

29. 某公司因扩大生产规模，需要购进部分大型载重 T 程车。其中甲品牌工程车属于新上市产品，载重量为 15 吨，耗油低，保养周期长，价格为 40 万 / 台。乙品牌工程车上市



时间相对较长，载重量为 6 吨，价格也相对较低，为 20 万元 / 台。最终该公司采购了 10 台甲品牌的工程车。如果不考虑其他因素，这一选择的理由是

乙品牌车与所耗油品都是生产要素，乙品牌的油耗成本比甲品牌低

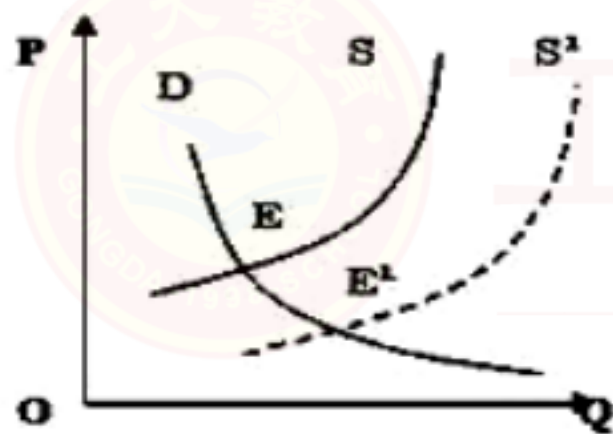
甲、乙是互为替代生产要素，甲品牌的长期运营收益高于乙品牌的运营收益

甲品牌载重车与所耗油品为互补品，甲品牌的油耗成本比乙品牌高

甲、乙互为替代生产要素，甲品牌的购置总成本低于乙品牌的购置总成本

A . B . C . D .

30 . 下图反映的是一定时期内某商品的供求量 (Q) 随价格 (P) 变化的情况。曲线 D 为需求曲线， S 和 S1 为供给曲线。在其他条件不变的情况下，下列选项中可能会引起 E 点向 E1 点变动的是



纺织行业全面推进 “ 机器换人 ”

国家对新能源汽车免征购置税

智能手机市场竞争愈演愈烈

中央银行降低存款准备金率

A . B . C . D .

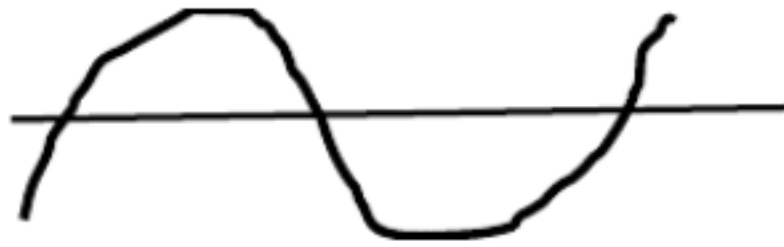
二、非选择题 (40 分)

31 . 看图回答下列问题：

(图一)



(图二)



(1) 图一和图二分别反映了什么经济现象? (10 分)

(2) 两图表明商品生产和商品交换受什么规律支配? 简述这一规律的基本内容和表现形式。(15 分)

32. 小明于 2015 年考上了大学。在开学前, 她打算买一部手机, 以备以后交流、联系、学习之需。以下是她购买手机的全过程, 请你参与其中, 感受她的心路历程。

[准备] 小明在网上搜索了一下相关信息, 发现手机的品牌众多, 不同品牌、不同网点间的价格有一定的差异。不过有一个相同点, 那就是比起前几年, 手机的功能普遍提高了, 而价格则普遍降低了。运用《多变的价格》知识:

[体验] 一来到手机店, 就有服务员向小明热情介绍自己所经销的品牌, 弄得小明都有点招架不住了。他发现, 所有手机品牌都在搞暑期促销活动, 而降价是普遍运用的促销手段。

结合材料分析手机价格普遍降低的原因。(15 分)