



山西大学附中
2017~2018 学年第一学期初三（9 月调研考试）
历史试题
初三年级

一、选择题（每小题 2 分，共 30 分）

1 近几十年来，在我国新疆地区发现了许多汉代丝织品，在马来西亚发掘出与汉代陶片纹饰相似的陶片，在印度尼西亚出土了汉代的钱币和陶瓷。这些实物的发现证实了（ ）

- A. 张赛曾两次出使西域 B.班超曾最远到达大秦
C.陆海丝绸之路的存在 D.中亚与东南亚都是中国版图

2.中国古代的统治总是在治乱兴衰的循环中更替，请你对下列历史事件进行排序（ ）

- ①康乾盛世 ②安史之乱 ③开元盛世 ④文景之治
A.①③②④ B.③④②① C.④②③① D.④③②①

3.下列选项中与“古代对外友好交往”这一主题不符的是（ ）

- A. 张赛——出使西域，开辟丝绸之路
B.鉴真——东渡日本，传播大唐文化
C. 郑和——七下西洋，促进亚非交流
D.郑成功——收复台湾，抗击外来侵略

4.为如表中的历史人物找到准确的对应项，空白处对应填写的是（ ）

历史事件	太平天国运动		戊戌变法	东北抗日
历史人物	洪秀全	李鸿章	康有为	杨靖宇

- A.虎门销烟 B.洋务运动 C.武昌起义 D.北伐战争

5.1919 年 5 月 4 日，有三千多学生在北京的大街上整队游行，烧毁了交通总长曹汝霖的官邸，促成了全国罢工罢市的风潮，这场运动的目标是（ ）

- A.自强，求富 B.实业救国 C.民主、科学 D.外争国权、内惩国贼

6.右图反应的是“创建人民军队的开始”、“军旗升起的地方”这一历史事件，根据这些信息，判断这是（ ）

- A.南昌起义 B.金刚山会师 C.遵义会议
D.红军会宁会师





7.山西是著名的革命老区,早在1921年,中国早期的马克思主义者高君宇,就在太原组建社会主义青年团,开展革命活动,红军长征到达陵北后,毛泽东亲自率领红军主力渡河东征,在晋西,晋中、晋南各地遍散革命火种。全国抗战爆发后,八路军三大主力推进山西,创建了敌后抗日根据地。八年抗战中,山西是华北抗战乃至全国抗战的重要战略支点。解放战争期间,山西成为支援全国解放的战略基地,广大民众积极支援前线,大批地方干部南下或东进、西进奔赴新区,为中国革命做出了重大贡献。关于山西近代史,以下说法不能从材料中得出的是()

- A.山西是马克思主义在中国最早得到的地方之一
- B.十年内战期间,山西的中共力量越来越壮大
- C.抗日战争中,山西是敌后抗日根据地的集中地
- D.解放战争中,山西人民大力支援,成为最早解放的省份

8.中华民族在近百年艰苦卓越的伟大复兴历程中,关键是“中国新生”和“为大转折”,实现了国家独立与富强,“中国新生”和“为大转折”分别是指()

- A.中国共产党成立,抗战胜利
- B.新中国诞生,十一届三中全会
- C.抗战胜利,新中国诞生
- D.中国共产党成立,新中国诞生

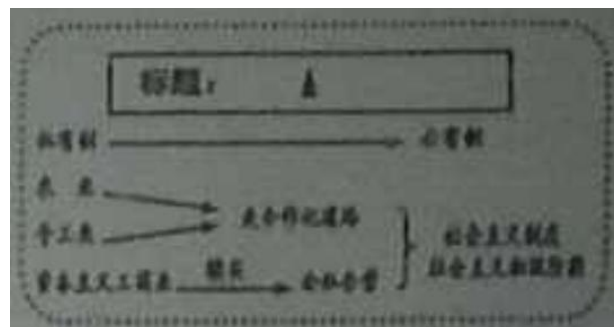
9.“一五”计划中,国家对轻工业和重工业的投资比例为1:7:9,由此可见,“一五”计划的基本任务是()

- A.优先发展轻工业
- B.轻工业均衡发展
- C.优先发展重工业
- D.农轻重三页均衡发展

10.新中国成立后,党和政府不断推进我国的民主政治建设,1954年9月,第一届全国人民代表大会制定了()

- A.《中国人民政治协商会议共同纲领》
- B.《中华人民共和国土地改革法》
- C.《中华人民共和国宪法》
- D.《中华人民共和国刑法》

11.下边是张老师上课时的板书设计,请你根据内容为其拟定一个最适当的标题()





A.土地改造 B.三大改造 C.人民公社化运动 D.家庭联产承包责任制

12. 1958 年，中共中央提出“工业以国为纲”，号召一切部门都要为钢铁生产“停车让路”，支援大炼钢铁，为了炼钢，人们砸铁锅，收废铁，甚至拆下窗户铁门作原料，这一现象反应的是（ ）

A.三大改造的基本完成 B.第一个五年计划的事实

C.“大跃进”运动的开展 D.人民公社化运动的进行

13. 周恩来在会见美国总统尼克松时说“由于大家都知道的原因，两国人民之间的来往中断了二十多年，现在经过中美双方的努力，友好往来的大门终于打开了。”

这里“友好往来的大门终于打开”的原因是（ ）

①中国国际地位的提高 ②中苏两国关系的破裂 ③中美两国共同的需求

④和平共处五项原则的提出

A.①②③

B.①②④

C.①③④

D.②③④

14. 早期的人类社会经历了一个长期的发展历程，下列对于早期社会的不同说法不正确的是（ ）

A. 制造和使用工具是人类和动物的根本区别

B. 在母系氏族中，人们只知其母，不知其父

C. 氏族公社阶段父权逐渐取代母权的主要原因是生产力发展的结果

D. 在原始社会末，出现阶级压迫是人类社会的倒退

15. 古代埃及、巴比伦、印度、中国被称为文明古国，是因为（ ）

A.最早出现了人类 B.对世界文化贡献最大 C. 拥有建筑奇迹 D.最早进入了

阶级社会

二、简答题（本题共 12 分）



16. 文字和书写工具的发展与演变, 从不同侧面见证了文化艺术领域的成就。见下图, 回答下列问题



(1) 根据下列我国古代文字演变示意图, 在括号内填写正确的答案。(4 分)

甲骨文——金文——大篆——()——隶书——()——草书、行书

(2) 上述图片反映出我国古代的书写材料发生了怎样的变化?(4 分)

(3) 东汉末年, 书法演变成一种艺术。列举图三作者在我国书法艺术领域的成就。(2 分)

(4) 根据以上图片并结合所学知识, 书法艺术在东汉魏晋以来得以发展的原因是什么?)(2 分)

三、材料解析题(本大题含两小题, 第 17 题 26 分, 第 18 题 16 分, 共 42 分)

17. 材料一: 中国经济重心由北向南转移是一个漫长的历史过程。东汉末年到东晋初期, 唐代中叶到五代十国, 北宋末年到南宋初期, 北方民众多次大规模地向南迁徙, 既给南方带来一定的人口压力, 也为南方社会经济的开发与进步创造了条件和机遇。南宋初期, 经济重心的南移已告完成。

材料二: 经过三十年和平发展的自强运动, 到 1900 年庚子国变前夕, 大清朝的国民生产总值占世界的 6.8%, 先辈们用短短三十年的时间走完资本主义国家一百多年才能走完的路。这是一个令世人感叹、世界瞩目的成就。

材料三: 材料二从农村到城市、从经济领域到各个领域, 全国改革的进程势不可挡地展开了; 从沿海到沿江沿边, 从东部到中西部, 对外开放的大门毅然地打开



了，——胡锦涛在党的十七大上的报告。

根据材料，结合所学知识回答问题：

(1) 材料一中，中国经济重心的南移经历了哪几个阶段？根据材料指出其南移的原。(8分)

(2) 材料二中“十三年和平发展的自强运动”指的是什么？为什么大清朝取得了令世人感叹的成就，却还是走向了覆灭的道路？(4分)

(3) 简述我国改革和开放的过程。(具体写出改革的措施以及开放的过程，8分) 归纳我国改革开放的特点。(2分)

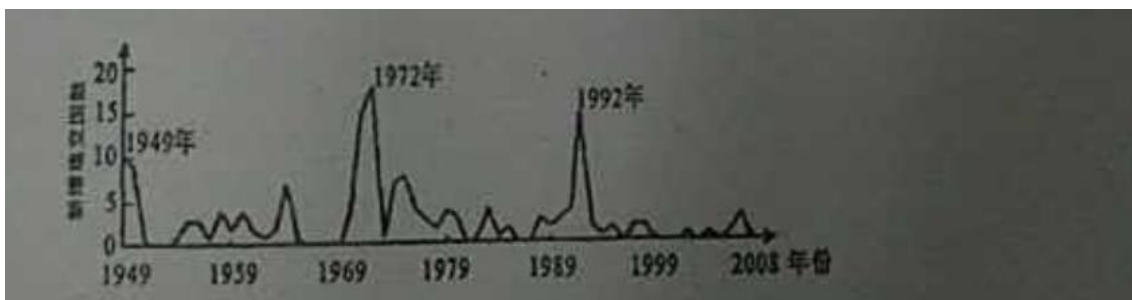
(4) 请根据以上材料总结促进经济发展的因素有哪些？(4分)

18. 新中国的成立揭开了中国对外关系的新篇章，阅读材料，完成下列要求。(本题16分)

材料一：这是周恩来的创造，它和旧的国际关系中“弱肉强食”的行径相对立，如今已成为世界公认的指导国际关系的准则。——《周恩来外交风云》

材料二：我们并不要求各人放弃自己的见解，因为这是实际存在的反映。但是不应该是它妨碍我们在主要问题上达成共同的协议。我们还应在共同的基础上来相互了解和重视彼此不同的见解。16万万亚非人民期待着我们的会议成功。——周恩来。

材料三：下图是1949~2008年中国与外国建交状况曲线图；



(1) 材料一中的“周恩来的创造”指的是什么？该“创造”的提出有什么意义？(4分)

(2) 材料二中的“会议”是哪一次会议？周恩来促成“会议成功”的“金钥匙”是什么？它的提出有什么意义？(6分)

(3) 材料二中20世纪70年代中国外交出现了新局面，迎来了建国后建交的第二次高峰，出现新局面的关键因素是什么？除此之外70年代还有哪些重大的外交成



就? (6分)

四. 探究题 (本大题共 16 分)

19. 历史学习需要掌握的学习方法, 培养相关的历史素养。

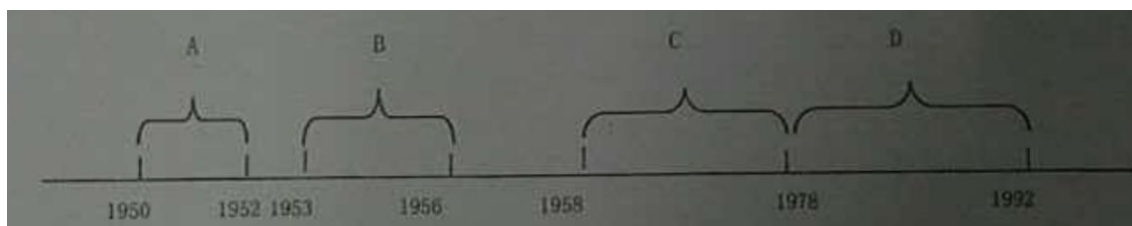
任务一【地图——培养时空观念】观察下列中国历史上不同时期的区域图, 回答以下问题。



(1) 观察以上三幅疆域图, 任选两个历史时期, 说说分别有哪些地区成为中国的一部分? (4分)

任务二【时间轴——梳理时间线索】

(2) 请根据下面中国经济发展历程年代尺提示的信息, 挑选其中一个时间段, 写出其所对应的国家政策, 并写出 D 处中国经济体制发生的变化。(3分)



任务三【对比事件——感悟②】

(3) 完成如表中①处内容的填写, 通过比较后, 请你为本栏目提炼一个恰当的主题词。(填写在②处) (2分)

历史事件	背景	结果	结果的落实
西安事变	中日民族矛盾上升为主要矛盾	和平解决	①_____
重庆谈判	抗战胜利后全国人民渴望和平	签订《双十协定》	国民党撕毁《双十协定》挑起内战



② _____

任务四 【表格——学会归纳整理】

(4) 请根据所学知识, 填写一下表格的空缺部分。(6 分)

文明古国	发源地	文明成就
古代埃及	尼罗河区域	
古代巴比伦		《汉摩拉比法典》
古代印度	印度河流域	
古代中国	黄河流域	分封制

任务五 【联系现实——解决现实问题】

(5) “一带一路”是“丝绸之路经济带”和“21 世纪海上丝绸之路”的简称, 2015 年 3 月 28 日, 国家发展改革委、外交部、商务部联合发布了《推动共建丝绸之路经济带和 21 世纪海上丝绸之路的愿景与行动》, 请你对国家实施“一带一路”的战略构想提出可行性建议。(1 分)

