



# 2015~2016 学年九年级第一学期阶段性测评(一)

## 历史试卷

(考试时间:上午 10:50—12:20)

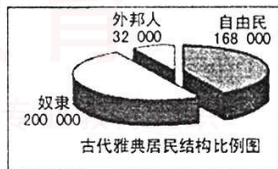
说明:本试卷为闭卷笔答,答题时间 90 分钟,满分 100 分。

题号	一	二	三	四	总分
得分					

### 一、单项选择题(本大题含 15 小题,每小题 2 分,共 30 分)

题号	1	2	3	4	5	6	7	8	9	10	11	12	13	14	15
选项															

- 恩格斯曾经说过:“人能够用他的手把第一块岩石做成石刀,终于完成了从猿到人转变的决定性一步。”这句话说明人和动物的根本区别是
  - 人会直立行走
  - 人会使用工具
  - 人会制造工具
  - 人会用岩石作工具
- 下列远古人类位于黄河流域并且属于早期智人阶段的是
  - 元谋人
  - 山西丁村人
  - 北京人
  - 山顶洞人
- 下列对右图数据的分析,与史实相符的是
  - 外邦人同样享有参与国家政治生活的权利
  - 真正享有民主权利的人数不足雅典居民的一半
  - 全体自由民可以参加国家最高权力机构公民大会
  - 占据人口半数的奴隶可以担任政府公职
- 下列有关罗马共和国的相关叙述,不符合史实的是
  - 公元前 509 年建立了共和国
  - 同迦太基进行了三次布匿战争后,成为地中海霸主
  - 公元前 27 年,罗马共和国被罗马帝国所取代
  - 罗马共和国最强大时疆域地跨欧亚非三大洲
- 美国科学家迈克尔·哈特著有《人类史上最影响的百位人物排名》一书,穆罕默德排名居百位人物之首。你认为他能位居榜首的主要原因是
  - 他是伊斯兰教的创始人
  - 他建立了历史上第一个伊斯兰教国家
  - 他建立起地跨欧、亚、非三大洲的阿拉伯帝国
  - 他完成了创立宗教和建立统一国家的双重历史使命

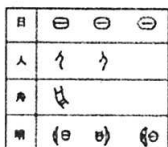




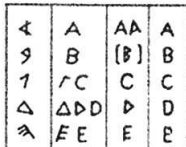
6. “他废除了无条件分赠土地的制度,推行采邑制。他把从叛乱贵族那里没收来的土地和一些教会的土地分赠给贵族,但他们必须要为国王服兵役,要履行臣民的义务,宣誓效忠;同时,采邑的赐予者也有义务保护忠心效力的受领者,使其不受他人的侵害。”材料涉及的历史事件是
- A. 土地分封制 B. 实行中央集权  
C. 贵族世袭制 D. 查理·马特改革
7. 某班开展了一次探讨“拜占廷帝国衰落原因”的研究性学习活动,下面分别是四个小组确定的研究主题,其中最准确的是
- A. 保守狭隘导致帝国的衰落 B. 民族融合导致帝国衰落  
C. 信仰差异导致帝国的衰落 D. 种族矛盾导致帝国衰落
8. 阿拉伯人对世界文化的传播与交流做出了重大贡献。下列能反映其发展和传播的是



A



B



C



D

9. “生命必然是充满忧愁与痛苦的,忧愁与痛苦是来自我们的欲望烦恼,只有通过涅槃才能得到解脱……彻底消除和根绝欲望后,生老病死、悲伤、哀痛、苦难、罪行和绝望就一扫而光。”这则材料反映的宗教是
- A. 佛教 B. 基督教 C. 伊斯兰教 D. 犹太教
10. 有这样一本书,相传它是在民间口头创作的基础上,由一位盲诗人加工整理而成。它是一部不朽的世界文学名作,再现了古代希腊社会的图景。这本书是
- A. 《马可·波罗行纪》 B. 《荷马史诗》  
C. 《俄底浦斯王》 D. 《天方夜谭》
11. 四百多年前,莎士比亚曾是伦敦环球剧院的股东、演员和剧作人。他的经典剧作,现在依然在此上演经久不衰。下列可以选择在此上演的莎士比亚戏剧是
- ①《最后的晚餐》 ②《哈姆雷特》 ③《罗密欧与朱丽叶》 ④《蒙娜丽莎》
- A. ①② B. ③④ C. ②③ D. ②④
12. 英国资产阶级革命开始的标志是
- A. 苏格兰人民起义 B. 查理一世召集议会,筹集军费  
C. 查理一世挑起内战 D. 查理一世被处死,成立共和国
13. 下列关于《权利法案》与《人权宣言》共同点的说法,正确的是
- ①都反对封建专制统治 ②都宣布了国家的独立 ③都具有历史的进步性 ④都有利于资本主义民主与法制的发展
- A. ①②③ B. ①②④ C. ①③④ D. ②③④



14. 按时间顺序排列下列历史事件, 正确的是

- ①来克星顿枪声 ②巴黎人民攻占巴士底狱 ③罗伯斯庇尔等人掌握政权 ④美国颁布 1787 年宪法

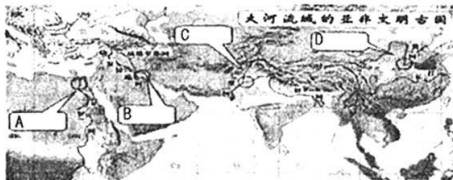
- A. ①②③④ B. ②①③④ C. ①④②③ D. ②③①④

15. 如果你给玻利瓦尔画像, 可以选择的历史情景是

- A. 他率领议会军击溃查理一世王军 B. 他在萨拉托加战役中打败英军  
C. 他在南美大陆上横扫西班牙军队 D. 他率领军队远征俄罗斯

二、简答题(本题共 16 分)

16. 伴随着世界各地不同文明的交流和碰撞, 各国各地区的文明开始相互影响, 独具特色的地域文化逐渐形成。结合下面图文材料, 回答问题。



“我们环绕着大海而居, 如同青蛙环绕着池塘。”

——古希腊思想家柏拉图

(1) 分别写出地图中四个字母代表的东方亚非文明古国名称, 并举出位于非洲和西亚的文明成果各一例。(6 分)

(2) 结合柏拉图的话, 比较东西方文明的不同点。(4 分)

(3) 列举古代人类文明交往的不同方式并各举一例。(4 分)

(4) 如何看待世界不同地区的文明?(2 分)



### 三、材料解析题(本大题含两小题,17题14分,18题18分,共32分)

17. 材料一 六七世纪时,日本的社会矛盾十分尖锐,地方贵族反抗中央贵族,中央贵族之间争权夺势。中国唐朝的统一和兴盛,朝鲜半岛上新罗国家的崛起,强烈刺激了大和统治者。天皇和一些曾留学中国的士大夫决心参照隋唐制度,实行改革。7世纪中期,改革派发动宫廷政变成功,新上台执政的孝德天皇颁布改新诏书,大化改新开始了。大化改新之后,日本确立了以唐朝三省六部制和郡县制为蓝本的中央官制和国、郡、县三级地方行政体系,以均田制为蓝本的“班田收授法”等,形成了以天皇为核心的中央集权的封建国家体制。

——《大国崛起》

材料二 10世纪西欧城市做为经济中心开始出现了。西欧城市是在教会和封建主的领地上产生的,城市多兴起于交通便利、相对安全、容易获得廉价原料和销售产品的地方。在西欧城市重新兴起和工商业发展的过程中,市民阶级形成了。它进一步分化出手工业者和商人、银行家等,他们发展成早期的资产阶级。同一时期,中国宋代的城市经济也相当繁荣,宋代的市民阶层不断壮大,特别是在一些统治中心,商业发展特别繁荣,如北宋的都城东京就有“每一交易,动辄千万”的贸易现象。

——改编自教师教学用书

阅读材料,结合所学知识,回答问题。

- (1) 依据材料一,概括日本大化改新的背景。(4分)

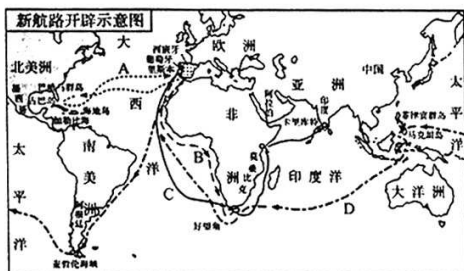
- (2) 结合大化改新的内容说明日本参照中国隋唐制度进行改革的具体做法。(4分)

- (3) 材料二中西欧城市是怎样重新兴起的?(2分)

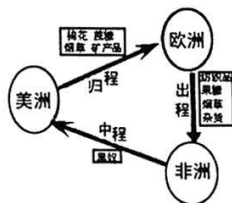
- (4) 对比10~12世纪中国城市与西欧城市异同点。(4分)



# 18. 材料一



图一



图二

材料二 《独立宣言》宣布一切人生而平等,人们有生存自由和追求幸福的不可转让的权利。宣言同时宣告北美 13 个殖民地脱离英国独立。

材料三 当代印度史学家中博士曾说:“章西女王的功绩即使在 100 多年后的今天,印度人民仍在赞颂着。英国侵略者管她叫‘恶魔的化身’,然而在印度人民的心目中,她是一个永不消逝的巨人。”

阅读材料,结合所学知识,回答问题。

- (1)图一中哥伦布的航行路线是\_\_\_\_\_ (填字母),图二贸易路线的名称是\_\_\_\_\_。简述图二贸易路线对非洲和美洲的影响。(8 分)

- (2)图一、图二两个历史事件有何关系?(4 分)

- (3)材料二表达了北美人民怎样的精神诉求?(2 分)

- (4)概括材料三章西女王的事迹。(2 分)

- (5)综合上述史实,归纳本题反映的主题。(2 分)



**探究题(本题共 22 分)**

14~19 世纪中期是近代资本主义制度酝酿、产生与发展的时期。九年级某班历史研究性学习小组围绕这条线索,以“步入近代”为主题进行了以下探究,请你参与完成。

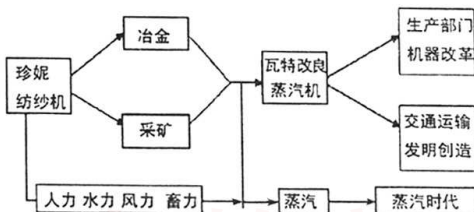
**任务一 【梳理线索】(6 分)**

(1)下表是张明梳理的“步入近代”的主干知识,请在横线上填写正确答案。

时期及特征	重大历史事件	影响
酝酿①_____	文艺复兴和新航路开辟	促进了欧洲资本主义产生和发展。
产生(17~18 世纪)	英法美早期资产阶级革命	②_____
发展(18 世纪 60 年代~19 世纪上半期)	③_____	资本主义战胜了封建主义;西方先进东方落后的世界面貌形成等。

**任务二 【构建联系】(4 分)**

(2)右边是李华绘制的工业革命动力演进示意图,请你根据图示,简述蒸汽机在这一进程中的作用。

**任务三 【史论结合】(6 分)**

(3)小组同学提出了下面两个问题,请任选其中之一,结合史实加以论证。

观点一:文艺复兴不是复古而是创新。

观点二:拿破仑是一个专横跋扈的暴君也是旧的封建社会的摧毁人。

**任务四 【归纳总结】(6 分)**

(4)王丽同学在进行总结时,提出了以下问题,请你来解答。

①资本主义制度产生的根本原因是:

②推动资本主义发展的重要因素有:

③资产阶级革命的重要成果有: