



2016~2017 学年第二学期八年级阶段性测评

地理试卷

(考试时间:下午 4:30——6:00)

说明:本试卷为闭卷笔答,答题时间 90 分钟,满分 100 分。

题号	一	二	三	四	总分
得分					

一、选择题(下列各题的选项中,只有一项正确,请将正确选项的字母填入下表相应位置。每小题 2 分,共 30 分。)

题号	1	2	3	4	5	6	7	8	9	10	11	12	13	14	15
答案															

1. 下列邮票中的传统民居,属于南方地区的是



A. 陕北民居



B. 江苏民居



C. 内蒙民居



D. 西藏民居

2. 有“聚宝盆”之称的盆地是

- A. 塔里木盆地
B. 四川盆地
C. 柴达木盆地
D. 准噶尔盆地

3. 横断山区形成了“三江并流”的独特景观,“三江”是指

- A. 黑龙江、松花江、乌苏里江
B. 怒江、澜沧江、金沙江
C. 岷江、雅砻江、雅鲁藏布江
D. 乌江、赣江、湘江

4. 位于青藏高原,被称为“中华水塔”的地区是

- A. 可可西里地区
B. 长白山地区
C. 神农架地区
D. 三江源地区

5. 我国第二大高原是

- A. 内蒙古高原
B. 云贵高原
C. 青藏高原
D. 黄土高原

6. 我国纬度最高的省际区域是

- A. 东北三省
B. 黄土高原地区
C. 成渝地区
D. 长江三角洲地区



7. 东北三省的地表形态特征是

- A. 千沟万壑 B. 一望无际的原野
C. 山环水绕 D. 喀斯特地貌典型

8. 右图为东北地区传统的冬季服饰,反映了该地区冬季气候的特点是

- A. 干燥 B. 冷湿
C. 炎热 D. 高寒



9. 下列治理黄土高原水土流失的措施中,属于生物措施的是

- A. 修建水库、灌渠 B. 打坝淤地
C. 改变耕作方式 D. 植树种草

10. 我国最大的河口三角洲是

- A. 黄河三角洲 B. 珠江三角洲
C. 长江三角洲 D. 湄公河三角洲

11. 位于我国西部的直辖市是

- A. 重庆 B. 北京 C. 上海 D. 天津

12. 下列自然灾害最容易发生在成渝地区的有

- A. 寒潮、霜冻、地震 B. 地震、滑坡、泥石流
C. 台风、崩塌、春旱 D. 海啸、台风、泥石流

13. 具有“盐之都”、“龙之乡”、“灯之城”之称的城市是

- A. 重庆 B. 成都 C. 绵阳 D. 自贡

14. “蜀道难,难于上青天”是指成渝地区的

- A. 位置偏僻 B. 地形复杂 C. 气候恶劣 D. 河流众多

15. 成渝地区“双核”城市群的核心城市是

- A. 绵阳、宜宾 B. 南充、泸州 C. 成都、重庆 D. 乐山、自贡

二、填表题(共 10 分)

16. (7 分)按要求完成下列表格。

地理要素	北方地区	南方地区
主要干湿状况	_____地区	_____地区
气候类型	_____气候	热带季风气候, _____气候
主要植被类型	落叶阔叶林	_____林
主要耕地类型	_____	_____

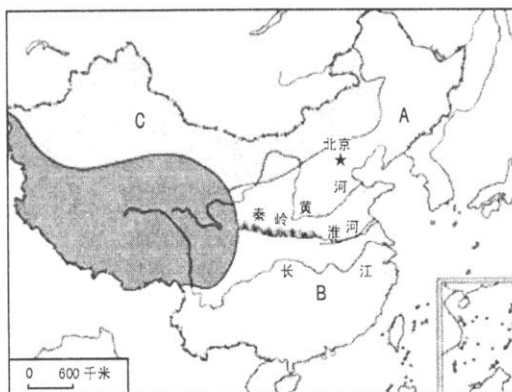
17. (3 分)按要求完成下列表格。

地理要素	西北地区	青藏地区	北方地区	南方地区
主要高原		青藏高原		



三、读图分析题(共 45 分)

18. (15 分)读“中国四大地理区域示意图”,完成下列各题。



(1)在图中用 2B 铅笔或碳素笔描出青藏地区的轮廓。(1 分)

(2)写出图中字母所代表的四大地理区域的名称。(3 分)


A. _____ B. _____ C. _____

(3)我国四大地理区域是依据各地区地理位置、_____和经济发展的差异划分的,图中 A 和 B 两地区的分界线是_____—_____一线,该线与我国 1 月份 _____℃等温线及我国 _____毫米年等降水量线的分布大致接近。(5 分)

(4)下列语句描写北方地区的是() (2 分)

- A. 黄梅时节家家雨,青草池塘处处蛙
B. 羌笛何须怨杨柳,春风不度玉门关
C. 万里金黄翻麦浪,秋到苹果桃李香
D. 远看是山近是川,青稞糌粑酥油香

(5)下图为西北地区地表植被由西向东的变化情况,其中描述正确的是() (2 分)

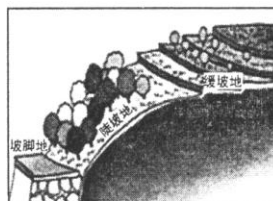
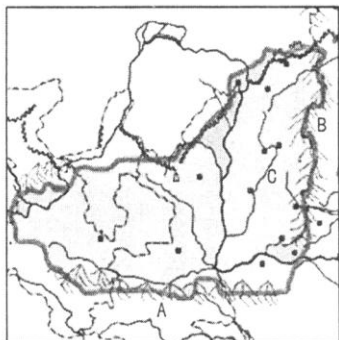


- A. 荒漠地带→半荒漠、荒漠地带→草原地带→森林草原地带
B. 森林草原地带→草原地带→半荒漠、荒漠地带→荒漠地带
C. 荒漠地带→半荒漠、荒漠地带→草原地带→常绿阔叶林带
D. 热带雨林带→草原地带→半荒漠、荒漠地带→荒漠地带

(6)青藏地区是亚洲许多著名江河的发源地,请写出你熟悉的江河名称。(2 分)



19. (15分)读“黄土高原示意图”,完成下列各题。



黄土高原生态建设示意图

(1)在图中用 2B 铅笔或碳素笔描出黄河干流。(1分)

(2)写出图中字母所代表的地理事物的名称。(3分)

山脉:A _____ B _____ 河流:C _____

(3)黄土高原蕴藏着极为丰富的能源资源,被称为“_____高原”,其中位于山西、_____和_____三省区接壤的地区又被称为“乌金三角”,分布着我国和世界上罕见的特大煤田。(3分)

(4)在黄土高原生态建设示意图中,开发利用合理的是() (2分)

- A. 缓坡地打坝淤地 B. 坡脚地开垦梯田
C. 全部都开荒种地 D. 陡坡地植树造林

(5)简析黄土高原水土流失严重的主要的自然原因。(3分)

(6)为保护煤炭等能源资源和黄土高原的生存环境,请你献计献策。(3分)



20. (15 分)读“长江三角洲地区示意图”,完成下列各题。



(1)在图中用 2B 铅笔或碳素笔描出长江干流。(1 分)

(2)写出图中字母所代表的地理事物的名称。(3 分)

城市:A _____ 群岛:B _____ 海湾:C _____


(3)长江三角洲地区是全国城镇密度最 _____ 的城市群,其中 _____ 是我国第一大工业城市,也是我国第 _____ 大港。(3 分)

(4)长江三角洲地区河湖密布,我国第三大淡水湖 _____ 湖就分布在此,这里水资源条件优越,是驰名中外的 _____ 之乡和 _____ 之府。(3 分)

(5)下列地理事物属于长江三角洲地区的是() (2 分)




A. 冰雕



B. 秦陵兵马俑



C. 三星堆博物馆



D. 世博会中国馆

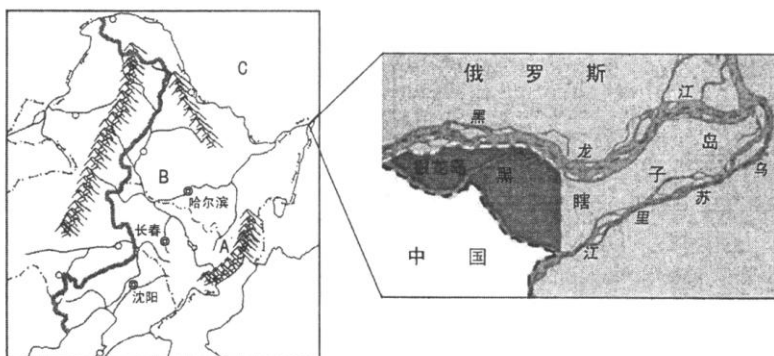
(6)简析长江三角洲地区经济发展的有利条件。(3 分)



四、材料分析题(共 15 分)

21. (15 分) 阅读图文资料, 完成下列各题。

材料一 “东北三省示意图”



材料二 黑瞎子岛, 又称熊瞎子岛、抚远三角洲, 位于乌苏里江和黑龙江的汇合处, 总面积约 335 平方公里, 西半部隶属于中国黑龙江省, 东半部隶属于俄罗斯哈巴罗夫斯克边疆区。黑瞎子岛平均海拔约 40 米, 地势平坦, 以沼泽湿地为主, 是全球重要的湿地生态系统之一, 因早年常有黑熊出没而得名, 是冲积而成的三角洲。黑瞎子岛地处东北亚的中心地带, 属于东北亚经济圈, 是中、日、韩、东南亚各国与俄远东地区进行外经贸合作的“桥头堡”。

(1) 写出图中字母所代表的地理事物的名称。(3 分)

山脉: A _____ 平原: B _____ 邻国: C _____

(2) 东北三省是指黑龙江省、_____ 和 _____ 三个省份, 地理位置具有临江、_____ 和近海的特点。(3 分)

(3) 黑瞎子岛属于 _____ 经济圈, 是中、日、韩、东南亚各国与俄远东地区进行外经贸合作的“_____”, 其西半部隶属于我国的 _____ 省。(3 分)

(4) 被誉为“地球之肾”的是() (2 分)

A. 海洋 B. 湿地 C. 沙漠 D. 森林

(5) 说出东北三省地理位置的优越性。(2 分)

(6) 简析东北三省农业发展的有利的自然条件。(2 分)