



测评编号

姓名

班级

学校

题
答
不
内
线
封
弥

2016~2017 学年第二学期八年级阶段性测评

历史试卷

(考试时间:下午 4:30——6:00)

说明:本试卷为闭卷笔答,做题时间 90 分钟,满分 100 分。

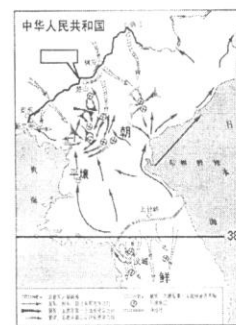
题号	一	二	三	四	总分
得分					

一、单项选择题(本大题含 15 个小题,每小题 2 分,共 30 分)

题号	1	2	3	4	5	6	7	8	9	10	11	12	13	14	15
答案															

- 列宁说:“爱国主义就是千百年来形成的对自己祖国最崇敬的心情”。升国旗、唱国歌是爱国主义教育的重要内容,1949 年召开的中国人民政治协商会议决定中华人民共和国的代国歌是
A.《马赛曲》 B.《黄河大合唱》 C.《毕业歌》 D.《义勇军进行曲》
- 1949 年 10 月 3 日的英国《泰晤士报》刊登了来自香港记者的北京报道:“这是亚洲一个划时代的历史时刻,虽然不是所有的中国都在共产党的手中,但毫无疑问,无论好坏,这是拥有近 5 亿人民、目前世界上最大的单一同质种族群体的政府。”该报道反映的史实包含
①中华人民共和国中央人民政府成立 ②当时祖国大陆还没有全部解放 ③推翻南京国民政府的统治,彻底消灭了剥削制度 ④中国共产党领导的新民主主义革命取得了胜利
A. ①②③ B. ②③④ C. ①②④ D. ①③④
- 右图的内容反映了西藏解放的
A. 背景和人物 B. 人物和方式
C. 方式和背景 D. 时间和意义
- 不同的时代总有一些英雄人物被赋予了时代精神的称谓。在 20 世纪 50 年代初,中国涌现出一批“最可爱的人”,他们是
①黄继光 ②邱少云 ③焦裕禄 ④雷锋
A. ①② B. ③④
C. ②③ D. ②④
- 对右图反映历史事件的解读,不正确的是
A. 图中方框内应填写的河流名称是鸭绿江
B. 朝鲜半岛的军事分界线是“三八线”
C. 指挥抗美援朝战争的司令员是朱德
D. 美国最终被迫在《朝鲜停战协定》上签字

1951 年,西藏获得解放,至此,祖国大陆获得了统一,各族人民实现了大团结。



中国人民志愿军第 1—3 次战役示意图



6. 原广东省监察厅厅长李学先曾在 1983 年《与青年同志的座谈》一文中指出:“土地改革,是落后农业国向工业国快速转变的必由之路”。下列对此说法理解正确的是
- A. 农民获得解放,有利于农业生产的发展 B. 农业迅速发展,为工业化建设准备了条件
C. 消灭了地主阶级,农民成为土地的主人 D. 建立了土地公有制,向社会主义道路迈进
7. 为了便于记忆历史知识,我们常用简洁的词语来总结某一时期的主要建设成就。“一桥”“二铁”“三路”“四厂”总结的是我国哪一时期的建设成就
- A. 1953~1957 年 B. 1956~1966 年 C. 1966~1976 年 D. 1978~2010 年
8. 第一届全国人民代表大会期间,全国有 1.5 亿人参加宪法草案修改讨论,提出 118 万条修改和补充意见。宪法学者们先后两次召开全国性的学术讨论会,就 1954 年宪法的历史特点、基本内容及其实践等重要问题作了探讨。这充分说明了第一部宪法
- A. 是第一届全国人民代表大会通过的 B. 表达了党的意志
C. 是在第一个五年计划期间颁布的 D. 代表了人民的意志
9. 这种政策实现了和平过渡。既发挥了民族资本家有利于国计民生的一面,又消灭了资本主义私有制,创造了从资本主义私有制向社会主义公有制经济过渡的新途径。该政策是
- A. 成立生产合作社 B. 调整国民经济 C. 赎买政策 D. 兼并政策
10. “脚踏黄河水倒流,搬来泰山做枕头。决心苦战十五年,(钢产量)赶上英国不发愁。”与这首歌谣相关的历史事件是
- A. 三大改造 B. 国有企业改革 C. “大跃进”运动 D. “一五”计划
11. “文化大革命”开始以后,党内老一辈革命家和广大干部群众的抵制和抗争始终没有停止过。下列事件中不属于“抵制和抗争”的是
- A. “二月逆流” B. 停课停工闹革命
C. 四五运动 D. 全面整顿各方面工作
12. 通过流行语的变化,我们能够感受时代的变迁。下表所示流行语出现在“文化大革命”时期的有

建国初期	“人大”“政协”“三大改造”
探索时期	“人民公社”“放卫星”“原子弹”
“文革”时期	
改革开放时期	“大包干”“经济特区”“下海”

- ①“红卫兵” ②“走资派” ③“上山下乡” ④“两个凡是”
- A. ①②③ B. ①③④ C. ①②④ D. ②③④
13. 正确分析了当时国内社会的主要矛盾,标志着探索建设社会主义道路良好开端的会议是
- A. 中共十五大 B. 中共十三大 C. 中共十二大 D. 中共八大
14. 小明对家乡太原的六味斋企业进行社会调查,活动报告中他写到:解放前六味斋仅店员 4 人,店面 20 平方米;1956 年发展为前店后厂、自产自销,产品大幅提升;“文革”期间,老店招牌被当做“四旧”横扫;十一届三中全会后,六味斋的老字号得以恢复,规模不断扩大;后实现了股份制改造,企业从此踏上快速发展之路。据此判断,下列有关六味斋发展之路历程的政策,按先后顺序排列正确的是



- A. 私营经济—改革开放—公私合营—社会主义市场经济体制
B. 私营经济—公私合营—社会主义市场经济体制—改革开放
C. 私营经济—公私合营—改革开放—社会主义市场经济体制
D. 公私合营—私营经济—社会主义市场经济体制—改革开放
15. 新中国成立以来,我国少数民族地区经济实现跨越式发展,城乡面貌日新月异,人民生活蒸蒸日上。该现象出现的主要原因是
- A. 民族隔阂消除、关系融洽
B. 大杂居、小聚居的分布特点
C. 实行民族区域自治制度
D. 少数民族地区自然资源丰富

二、简答题(本大题含 2 个小题,16 小题 12 分,17 小题 8 分,共 20 分)

16. 运用示意图呈现历史发展的时序性是历史学科独特的学习方式之一。观察下面两个示意图,回答相关问题。(12 分)

【示意图一】“建国以来土地政策和生产关系变化”示意图



- (1) A 阶段农民的土地问题得到根本解决的措施是什么?(2 分)

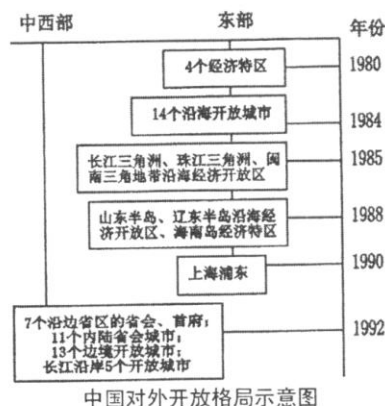
- (2) B 阶段采取的哪一举措实现了农村生产资料私有制向公有制的转变?(2 分)

- (3) C 阶段我国农业生产遭到了极大破坏的原因是什么?(2 分)

【示意图二】“我国对外开放格局”示意图

- (4) 写出 1980 年开放的四个经济特区名称。(2 分)

- (5) 根据右图信息,归纳对外开放格局形成的步骤及特点。(4 分)





17. “我们唱着东方红,当家作主站起来;我们唱着春天的故事,改革开放富起来。”歌曲唱出了下面图片中历史人物的贡献。据此,回答相关问题。(8分)



图一 开国大典



图二 邓小平南巡讲话

- (1) 结合图一反映的史实,你如何理解歌词中“当家作主站起来”的含义?(2分)

- (2) 简述图二邓小平南巡讲话的背景及历史意义。(4分)

- (3) 对比两位伟人事迹,概括他们对中国革命和建设做出重大贡献的相似之处。(2分)

三、材料解析题(本大题含2个小题,18小题16分,19小题14分,共30分)

18. 围绕工业化和城市经济体制改革,阅读下列材料,结合所学知识,回答问题。(16分)

材料一 “工业化——这是我国人民百年来梦寐以求的理想,这是我国人民不再受帝国主义欺负不再过穷困生活的基本保证,因为这是全国人民的最高利益。全国人民必须同心同德,为这个最高利益而积极奋斗。” ——1953年1月1日社论

材料二 “用最高的速度来发展我国的社会生产力,实现国家的工业化和农业现代化,是总路线的基本精神……速度是总路线的灵魂。” ——1958年6月21日社论

“人有多大胆,地有多大产”,“地的产是由人的胆决定的。” ——1958年8月3日社论

材料三 在过去计划经济体制下,政府过多的干预着国有企业的生产经营活动,导致企业活力不够,效率不高,缺乏竞争力。因此“松绑”成为了二十世纪80年代中期,中国国有企业改革的最强音。1984年,国务院颁发了《关于进一步扩大国营工业企业自主权的暂行办法》,提出国企可以拥有生产经营计划权等10项自主权。城市国有企业改革迈开了步伐。

- (1) 根据材料一,指出全国人民的“最高利益”是什么? 为此而编制的发展规划是什么? 这一发展规划取得了哪些成果?(8分)

- (2) 根据材料二,指出经济建设中存在的主要问题是什? (2分)



- (3)根据材料三,指出制约国有企业发展的原因是什么?结合所学知识,说明为国有企业“松绑”的具体举措。(6分)

19. 民主法治是历史发展的趋势,并随着时代进步不断完善。阅读下列材料,结合所学知识,回答问题。(14分)

材料一 在“文化大革命”开始后的8年时间里,全国人大及其常务委员会没有举行过一次会议,地方各级人民代表大会也被迫停止了活动。……各民主党派中央和地方组织的许多负责人受到无情批判和斗争,各级政协相继停止了一切活动。

材料二 1978年5月10日,中央党校内部刊物《理论动态》发表了《实践是检验真理的唯一标准》一文。一石激起千层浪,这篇文章很快引发了一场全国范围的_____的大讨论,对中国社会发展产生了深远影响。

——节选自2016.8.《理论动态》

材料三 经过“文化大革命”人们更加认识到民主和法制的重要性。我国民主与法制建设不断完善。(如下表)

民主法制大事记

1979年	五届人大二次会议通过了《中华人民共和国刑法》。
1980年	中共中央决定撤销“文化大革命”中强加给刘少奇的种种罪名。
1982年	五届人大五次会议通过了经过全面修改的《中华人民共和国宪法》。
1986年	六届人大四次会议通过了《中华人民共和国民法通则》,此后相继通过了《义务教育法》《劳动和社会保障法》《环境保护法》等一系列法律。
1999年	九届人大二次会议通过宪法修正案,把“中华人民共和国实行依法治国,建设社会主义法治国家”写入宪法第五条第一款。

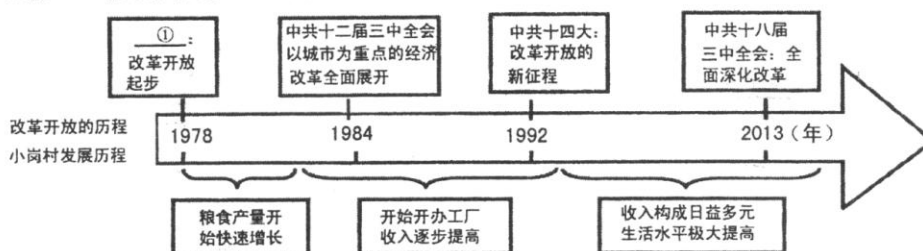
- (1)根据材料一,概括“文化大革命”期间,我国有哪些民主政治制度遭到破坏?(4分)
- (2)在材料二中的横线处填写适当内容,并说明这次讨论对中国社会发展产生了什么深远影响?(4分)
- (3)根据材料三,概括“文革”结束后,党和国家是如何加强民主与法制建设的?加强与完善民主法制建设有何重要意义?(6分)



四、探究题(本大题共 20 分)

20. 我国的改革开放顺应了时代发展的潮流,是强国之路,是富民之策。下面是张老师运用历史学习的基本方法设计的学案,请你完成。

任务一 【运用年代尺——探究改革历程】(10 分)



(1) 写出年代尺上①处应填写的会议名称,并简述这一会议的重要意义。(4 分)

(2) 根据年代尺上的信息,以小岗村的发展变化为例,简述我国改革发展的历程。(6 分)

任务二 【运用表格数据——解读经济现象】(4 分)

(3) 观察表一、表二,分别概括我国经济领域发生的重大变化。

表一 中国经济发展状况简表

年份	公有制经济		非公有制经济 (%)
	国有经济 (%)	集体经济 (%)	
1978	56.2	42.9	0.9
1997	41.9	33.9	24.2
2005	31.0	8.0	61.0

表一:

表二 中国经济总量排名

年份	在世界排名	在发展中国家排名
1990 年	10	6
2001 年	2	1
2006 年	4	1

表二:

任务三【结合相关史事——总结历史经验】(4 分)

(4) 总结我国三十多年来的改革取得成功的基本经验。

任务四【联系生活实际——建设美丽家乡】(2 分)

(5) 随着改革开放的不断深化,家乡的经济也在不断发展,请你为家乡太原的经济建设提一些合理化建议。