



工大教育

——做最感动客户的专业教育组织

查考试成绩、答案 | 查备课笔记
下载学习资料 | 及时获取最新教育信息

太原工大教育 官方微信: tygdedu
官方网址: www.tygdedu.cn



工大教育

——做最感动客户的专业教育组织

查考试成绩、答案 | 查备课笔记
下载学习资料 | 及时获取最新教育信息

太原工大教育 官方微信: tygdedu
官方网址: www.tygdedu.cn



2016~2017 学年第一学期七年级阶段性测评

地理试卷

(考试时间:上午 10:00—11:30)

说明:本试卷为闭卷笔答,答题时间 90 分钟,满分 100 分。

题号	一	二	三	四	总分
得分					

一、选择题(下列各题的选项中,只有一项正确,请将正确选项的字母填入下表相应位置。每小题 2 分,共 30 分)

题号	1	2	3	4	5	6	7	8	9	10	11	12	13	14	15
答案															

1. 人类认识地球形状的过程依次是



①地球卫星照片



②天圆地方



③麦哲伦环球航行

A. ①②③ B. ①③② C. ②①③ D. ②③①

2. 地球仪上,地轴与地球表面的交点称为两极,其中北极总是指向

A. 月球 B. 北极星附近
C. 太阳 D. 北斗七星附近

3. 地球上最大的纬线圈是

A. 北回归线 B. 北极圈
C. 赤道 D. 南极圈


4. 下列地理现象中,由地球公转产生的是

A. 日月星辰东升西落 B. 我国大多数地区四季分明
C. 日出而作,日落而息 D. 我国观众半夜看巴西奥运比赛

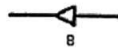
5. 马里亚纳海沟是地球上最深的地方,其位于

A. 太平洋 B. 大西洋 C. 印度洋 D. 北冰洋

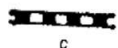
6. “不到长城非好汉……”出自毛泽东的《清平乐·六盘山》。今年国庆期间北京八达岭长城的游客络绎不绝,下列图例表示长城的是



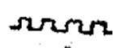
A



B



C



D

七年级地理试卷 第 1 页 (共 6 页)

7. 小明爸爸一行人要去做非洲五国考察,他们想了解五国具体位置,应该查阅的地图是

A. 非洲政区图 B. 非洲河流分布图
C. 非洲旅游图 D. 非洲人口分布图

8. 地图的基本要素是

A. 指向标,图例,注记 B. 方向,比例尺,图例和注记
C. 指向标,颜色,图例 D. 方向,比例尺,等高线

9. 七大洲中纬度最高的是

A. 南美洲 B. 亚洲 C. 南极洲 D. 非洲

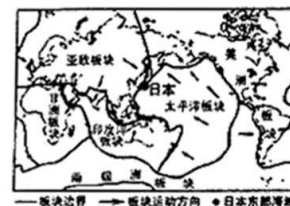
10. 苏伊士运河两侧的大洲是

A. 欧洲和非洲 B. 南美洲和北美洲
C. 亚洲和非洲 D. 亚洲和欧洲

右图为“六大板块示意图”。读图完成 11~13 题。

11. 2016 年 9 月 23 日,日本东部海域发生 6.5 级地震。日本被称为“地震之邦”,主要原因是该国位于

A. 亚欧板块和印度洋板块交界地带
B. 亚欧板块和太平洋板块交界地带
C. 印度洋板块和太平洋板块交界地带
D. 太平洋板块和美洲板块交界地带



12. 图中箭头“→”的含义是

A. 板块很稳定 B. 板块相互靠拢
C. 板块的边界 D. 板块运动方向

13. 依据板块构造理论,下列地区属于世界著名火山、地震带的是

A. 亚欧大陆内部 B. 南极大陆内部
C. 地中海—喜马拉雅山地区 D. 太平洋中心地区

14. 下面是科学家研究地壳运动时搜集的一些资料,其中能证明海陆变迁的是

A. 1907 年,在台湾海峡的海底发现了河道和水井的遗迹
B. 1992 年,印度发生百年一遇的洪水,淹没了万顷良田
C. 1993 年,大兴安岭发生森林火灾,大片林海变成了荒野
D. 2008 年,四川汶川发生 8.0 级地震,导致大量房屋倒塌

15. 太原市一年中昼最短、夜最长的节气是

A. 春分 B. 夏至 C. 秋分 D. 冬至

二、连线题(共 8 分)

16. (8 分)将下列节气与对应的日期及太阳光直射点的位置分别用直线连接起来。

A. 春分	① 9 月 23 日前后	a. 赤道
B. 夏至	② 3 月 21 日前后	b. 南回归线
C. 秋分	③ 6 月 22 日前后	c. 北回归线
D. 冬至	④ 12 月 22 日前后	

七年级地理试卷 第 2 页 (共 6 页)



工大教育

——做最感动客户的专业教育组织

查考试成绩、答案 | 查备课笔记
下载学习资料 | 及时获取最新教育信息

太原工大教育 官方微信: tygdedu
官方网址: www.tygdedu.cn



工大教育

——做最感动客户的专业教育组织

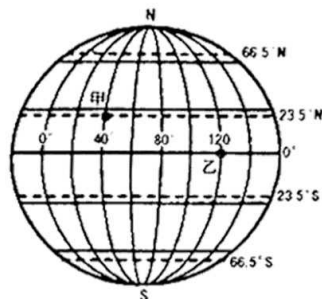
查考试成绩、答案 | 查备课笔记
下载学习资料 | 及时获取最新教育信息

太原工大教育 官方微信: tygdedu
官方网址: www.tygdedu.cn



三、读图分析题(共 47 分)

17. (17 分)读“经纬网图”,完成下列各题。



(1)在图中适当位置用阴影表示北寒带。(1 分)

(2)写出甲、乙两地的经纬度位置。(4 分)

甲: _____, _____ 乙: _____, _____

(3)下列温度带在一年中太阳光直射两次的是() (2 分)

- A. 北寒带 B. 北温带
C. 热带 D. 南温带

(4)地球上,纬度的变化规律是() (2 分)

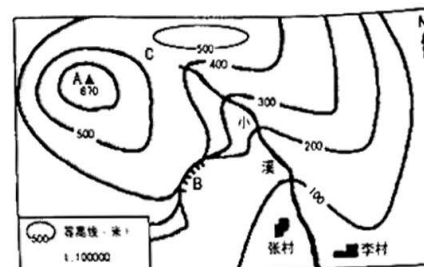
- A. 从北向南逐渐增大 B. 从两极向赤道逐渐增大
C. 从南向北逐渐增大 D. 从赤道向两极逐渐增大

(5)按要求完成下表。(5 分)

	经 线	纬 线
形 状	半圆弧	
长 度		
指示方向		

(6)假如你是陆海空总司令,某日部下报告:位于经度 40°,纬度 20°的地方发现敌情。你能迅速做出援军的决策吗?为什么? (3 分)

18. (15 分)读“某地等高线地形图”,完成下列各题。



(1)写出图中字母所代表的地形部位的名称。(3 分)

A. _____ B. _____ C. _____

(2)比例尺有三种表示形式,图中所示的是 _____ 形式,还有 _____ 和 _____ 形式。(3 分)

(3)图中最高峰的海拔为 _____ 米,李村位于最高峰的 _____ 方向,小溪的流向大致是 _____。(3 分)

(4)下列关于等高线特点的叙述,正确的是() (2 分)

- A. 同一幅地图的等高距不同 B. 等高线密集处坡陡,等高线稀疏处坡缓
C. 同一条等高线的海拔不同 D. 等高线密集处坡缓,等高线稀疏处坡陡

(5)分层设色地形图上,一般用绿色表示的是() (2 分)

- A. 高原 B. 雪山
C. 平原 D. 海洋

(6)请绘制一幅你所在学校的简易平面图。(2 分)



工大教育

——做最感动客户的专业教育组织

查考试成绩、答案 | 查备课笔记
下载学习资料 | 及时获取最新教育信息

太原工大教育 官方微信: tygdedu
官方网址: www.tygdedu.cn



工大教育

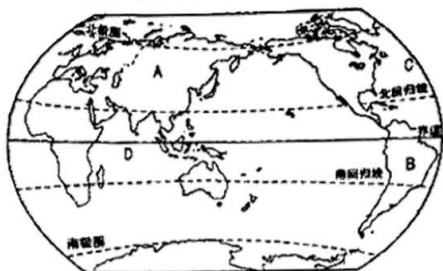
——做最感动客户的专业教育组织

查考试成绩、答案 | 查备课笔记
下载学习资料 | 及时获取最新教育信息

太原工大教育 官方微信: tygdedu
官方网址: www.tygdedu.cn



19. (15分)读“世界海陆分布示意图”，完成下列各题。



- (1)在图中适当位置标出南极洲。(1分)
- (2)写出图中字母所代表的地理事物的名称。(4分)
大洲:A _____ B _____ 大洋:C _____ D _____
- (3)地球表面的海洋面积约占71%，陆地面积约占29%，人们常将其概括为“_____分海洋，_____分陆地”。七大洲中面积最大的是_____洲，四大洋中面积最大的是_____洋。(4分)
- (4)七大洲中全部位于北半球的是() (2分)
A. 亚洲和欧洲 B. 欧洲和北美洲
C. 北美洲和南美洲 D. 南美洲和大洋洲
- (5)南、北美洲之间的分界线是() (2分)
A. 土耳其海峡 B. 苏伊士运河 C. 巴拿马运河 D. 台湾海峡
- (6)非洲全称“阿非利加洲”，意思是“阳光灼热的大陆”。为什么？(2分)

四、材料分析题(共15分)

20. (15分)阅读图文材料，完成下列各题。

材料一 “中国、巴西在世界的位置示意图”



地球自转的演示

材料二 北京时间2016年8月21日09:15(里约时间2016年8月20日22:15)，巴西里约的奥运会女排决赛拉开帷幕。中国女排仅以小组赛5战3负排名第4出线，但在后期的淘汰赛中两次“复仇”小组赛球队，一路战胜巴西、荷兰等世界强队，在金牌争夺战中，以3:1战胜塞尔维亚队，最终时隔12年重夺奥运冠军。团结协作、顽强拼搏、永不言弃的“女排精神”又一次响彻神州大地，举国欢腾。

- (1)在图中用2B铅笔或碳素笔描出赤道。(1分)
- (2)从南、北半球看，中国位于_____半球，巴西主要位于_____半球；从温度带看，中国大部分位于_____带，巴西大部分位于_____带。(4分)
- (3)北京时间8月21日09:15的时候，里约时间是8月_____日22:15，说明北京时间比里约时间_____ (早或晚)。地球自转的演示图中甲地随着地球不断自转，接下来的时段将进入_____ (白昼或黑夜)。(3分)
- (4)“女排精神”主要彰显的是() (2分)
A. 团结协作、顽强拼搏、永不言弃 B. 唯利是图、单打独斗、永不言弃
C. 团结协作、顺其自然、贵在参与 D. 唯利是图、胜败随缘、贵在参与
- (5)同学们在演示地球自转时，拨动地球仪的方向应该是() (2分)
A. 自北向南 B. 自东向西
C. 自南向北 D. 自西向东
- (6)说出地球自转的周期及产生的地理现象。(3分)

奖励题:(要自信,你能行)(3分)(加入总分不再另计,高出满分者也按100分计)

21. (3分)右图为“太原市冬、夏两季房屋里正午太阳光照状况”。读图完成下列各题。

- (1)图中a、b太阳光线，表示冬季的是_____。(1分)
- (2)分别说出太原市冬、夏两季昼夜长短的状况。(2分)

