



工大教育

——做最感动客户的专业教育组织

查考试成绩、答案 | 查备课笔记  
下载学习资料 | 及时获取最新教育信息

太原工大教育 官方微信信号: tygdedu  
官方网址: www.tygdedu.cn



2017~2018 学年第一学期九年级阶段性测评

## 历史试卷

(考试时间:上午 10:50—12:20)

说明:本试卷为闭卷笔答,答题时间 90 分钟,满分 100 分。

题号	一	二	三	四	总分
得分					

一、单项选择题(本大题含 15 个小题,每小题 2 分,共 30 分)

题号	1	2	3	4	5	6	7	8	9	10	11	12	13	14	15
选项															

1. 对下面《古代亚非欧区域文明示意图》解读正确的是



- 历史名胜古迹金字塔位于 A 处
  - 与马拉松赛有关的战争发生在 B 处
  - 文明从未间断,一直延续至今的区域是 C 处
  - 世界现存的古代第一部比较完备的成文法典诞生于 D 处
2. 社会制度深刻影响着人们的生活。古印度种姓制度中,符合当时农民身份的是
- 婆罗门
  - 刹帝利
  - 吠舍
  - 首陀罗
3. 伯利克里时期,根据雅典民主制度,下列四位人物中有资格参加公民大会的是



性别: 男  
年龄: 30 岁  
身份: 公民

A



性别: 女  
年龄: 25 岁  
身份: 公民

B



性别: 男  
年龄: 55 岁  
身份: 奴隶

C



性别: 男  
年龄: 12 岁  
身份: 外邦人

D

4. 从“征服意大利半岛”“布匿战争”“称霸地中海地区”“凯撒夺取政权”这些关键词中提炼出的学习主题是

- 希腊文明的繁荣
- 罗马共和国的扩张
- 罗马帝国的兴衰
- 罗马文化的传播



5. “一个拥有几个封臣的封君本人也许就是更高一级封君的封臣,而更高一级封君又是一个大关系网络中的封君手下的一名封臣。”与材料描述相关的历史事件是
- A. 商鞅变法 B. 伯利克里改革  
C. 大化改新 D. 查理·马特改革
6. 中世纪初期,当罗马帝国的西半部在日耳曼人的入侵下成为支离破碎的众多王国时,东半部却顶住了冲击继续存在了一千年,直到 1453 年被奥斯曼土耳其攻破。此材料描述的国家是
- A. 波斯帝国 B. 亚历山大帝国  
C. 罗马帝国 D. 拜占庭帝国
7. 有学者在描述中世纪时说:城市兴起的过程中,我们第一次在欧洲历史上写了“平民的传记,一个新社会集团出现了。”这个“新社会集团”指的是
- A. 农民阶级 B. 封建贵族阶层  
C. 市民阶级 D. 工业无产阶级
8. 有专家在研究欧洲中世纪大学的历史地位时说:“大学的形成对中世纪城市发展起了极大的推动作用,一方面它刺激了城市的贸易,另一方面大学使所在城市的影响不断扩大,这样就能进一步吸收新的居民,而在当时居民人数的多少是衡量城市是否繁荣的标志之一。”下面对此叙述的理解有误的是
- A. 大学的形成促成了城市自治  
B. 大学的形成刺激了城市的贸易  
C. 大学的形成促使城市更加繁荣  
D. 大学的形成使城市的影响力扩大
9. 文艺复兴时期的《神曲》、《蒙娜丽莎》、《哈姆雷特》等作品体现的核心精神是
- A. 人文主义 B. 理性主义 C. 神权主义 D. 民族主义
10. 著名经济学家亚当·斯密认为:“美洲的发现和经由好望角抵达东印度航线的开辟,是人类历史上最伟大、最重要的两件事。”完成这两件事的历史人物分别是
- A. 迪亚士、达·伽马 B. 迪亚士、哥伦布  
C. 哥伦布、达·伽马 D. 哥伦布、麦哲伦
11. 《全球通史》一书中说:“英国资产阶级革命的根源可以在国会和斯图亚特王朝之间的冲突中找到。”其“根源”指的是
- A. 封建专制统治阻碍资本主义发展 B. 苏格兰人民起义  
C. 议会议员猛烈抨击国王独断专权 D. 议会重新召开
12. 一位史学家认为,美国独立战争原本不是一场民主运动,但它在结果上却是一场民主运动。这里的结果主要指
- A. 推翻了封建君主专制 B. 确立了资产阶级政体  
C. 走上了军国主义道路 D. 废除了黑人奴隶制度
13. 拿破仑对俄国的入侵曾让俄国诗人普希金非常憎恨,拿破仑去世后,普希金却将他视为对抗专制的救世主。普希金态度的转变,是因为他认识到拿破仑的对外战争
- A. 稳定了法国政局 B. 在客观上打击了欧洲封建势力  
C. 促进了商业发展 D. 扩大法国疆域,法国达到极盛



14. “1500 年左右,大西洋的开放,对欧洲人是有利的,但对其他地方的人则意味着灾难。”下列史实能说明这一观点的是  
①欧洲增加了资本积累 ②欧洲人获得了市场 ③非洲丧失了大量精壮劳动力 ④美洲大片土地沦为殖民地 ⑤美洲土著居民惨遭杀戮  
A. ②③④ B. ②③④⑤ C. ①②③④⑤ D. ①②③④
15. 下面是张明同学围绕日本明治维新和中国戊戌变法,运用事件要素分析法进行研究性学习所列出的表格。你认为空白处依次应该填写的要素分别是

历史叙述	要素
两国都面临内忧外患的局面,肩负民族和民主革命的双重任务。	背景
两国都通过政府命令自上而下推行涉及政治、经济、军事、文化教育的一系列法令。	
明治维新成功,戊戌变法失败。	
明治维新是日本近代化的开端,是日本历史上的重要转折点;戊戌变法虽然失败,但促进了思想解放,对中国近代社会进步起了重要推动作用。	影响

- A. 影响、结果 B. 过程、结果 C. 原因、结果 D. 作用、影响

## 二、简答题(共 14 分)

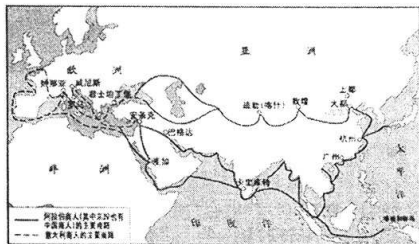
16. 和平交往和暴力冲突是人类文明交往的主要方式。据此完成下列相关问题。

- (1) 在下面时间轴上的序号处填写宗教名称或时间。(6 分)

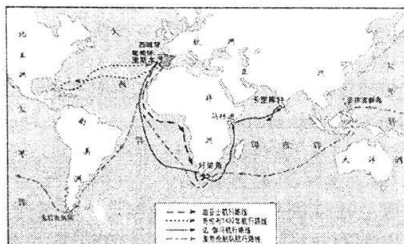


- (2) 分别简述①③两大宗教对当时社会产生的影响。(4 分)

- (3) 观察下面两幅地图,从图一到图二世界贸易发生了怎样的变化?(4 分)



图一 14 世纪前后欧亚的主要商路



图二 新航路开辟





### 三、材料解析题(本题含两小题,17 小题 18 分,18 小题 18 分,共 36 分)

17. 世界历史的发展是不平衡的,步入近代的西方走在世界的前列。阅读下列材料,结合所学知识,回答问题。

材料一 14~17 世纪,地中海和大西洋沿岸地区出现了资本主义手工工场和租地农场。手工工场是指经营者将生产者集中在一个场地内进行生产,他们提供生产工具和原材料,生产者成为完全出卖劳动力的雇佣工人。最早的租地农场则出现于 14 世纪下半叶的英国,这是一种具有资本主义性质的农场,它存在的目的就是要谋取利润,以市场为生产的基本目的,主要依靠雇佣自由的工资劳动者。

——摘编自《历史学习新视野新知识》

材料二 17~18 世纪,英美法资产阶级革命相继爆发,出现了众多资产阶级性质的法律文件。

<p>不经议会的批准,国王不能征税,也不能在和平时期维持常备军;同时,还规定国王既不能随意废除法律,也不能停止法律的执行。</p> <p>—— ①</p>	<p>人人生而平等,造物者赋予他们若干不可剥夺的权利,其中包括生命权、自由权和追求幸福的权利。</p> <p>——《独立宣言》</p>	<p>人们生来而且始终是自由的,在权利上是平等的;这些权利就是自由、财产、安全和反抗压迫;财产是神圣不可侵犯的权利;法律面前人人平等……</p> <p>——《人权宣言》</p>
-------------------------------------------------------------------------------	---------------------------------------------------------------------	------------------------------------------------------------------------------------------

材料三 英国工业革命被誉为“被解放了的普罗米修斯”,在人类历史上首次创造了一副烟囱多于教堂尖顶的图景。它在不过三代人的时间里,改变了整个英格兰的面貌:从家庭手工业过渡到大工厂生产,从手工劳动过渡到机器劳动,从乡村社会过渡到都市化的社会。

——马克垚《世界文明史》

(1) 根据材料一,概括手工工场和租地农场的共同之处。它们的出现对欧洲经济产生了什么影响?(4 分)

(2) 材料二表格中①处需填写的法律文献是什么?《独立宣言》与《人权宣言》在内容上有何共同之处?(4 分)

(3) 根据材料三,结合具体史实,分析“烟囱多于教堂尖顶”对英国社会产生的影响。(6 分)

(4) 综上所述,从政治、经济两方面归纳 14~19 世纪世界历史的发展趋势。(4 分)



工大教育

——做最感动客户的专业教育组织

查考试成绩、答案 | 查备课笔记

下载学习资料 | 及时获取最新教育信息

太原工大教育 官方微信号: tygdedu

官方网址: www.tygdedu.cn



测评编号

姓名

班级

学校

题 答 要 不 内 线 封 弥

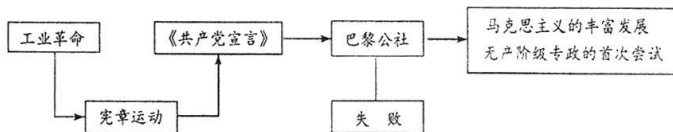
18. 工业革命后,人类历史发生了翻天覆地的变化。阅读下列材料,结合所学知识,回答问题。

材料一 资本主义制度在世界范围内的确立是 19 世纪六七十年代的一个主要进步趋势,而在这之前,俄日两国都面临严重的社会危机。为此,两国都实行了自上而下的改革,走上了发展资本主义的道路。

材料二 当欧洲各主要国家的资本主义生产关系迅速发展的时候,亚洲几乎所有的国家都处于封建的和封闭的社会阶段,社会经济长期停滞不前,政治制度腐朽落后,给欧洲列强的入侵造成了可乘之机。欧洲殖民主义开始侵入亚洲,最初以通商为名,接着是武力占领和签订不平等条约,大肆侵吞领土和搜刮财富。拉丁美洲同样成为欧美列强角逐的场所,兴起了争取独立的运动。

——《世界近代后期政治史》

材料三



(1) 根据材料一,结合两国改革的具体措施,分别说明两国是如何摆脱危机的?(4分)

(2) 根据材料二,分别概括亚洲国家遭受欧洲列强入侵的原因和欧洲早期殖民活动的主要手段。并列举亚洲、拉丁美洲争取民族独立的具体事例。(6分)

(3) 依据材料三的示意图,简述 19 世纪三四十年代到七十年代,国际工人运动的发展历程。(4分)

(4) 综合上述材料,工业革命后,世界历史的进步潮流是什么?(4分)

四、探究题(共 20 分)

19. 某班同学以“近代大国崛起之路”为主题进行研究性学习,并提出了如下问题,请你和他们一起完成学习任务。

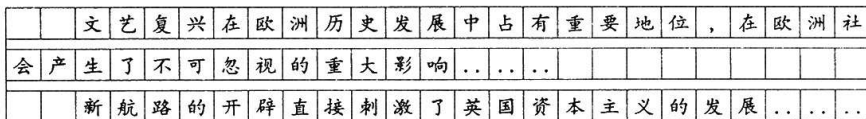
任务一 【交流习作——阐述观点】(4分)

(1) 下面是李华同学在笔记中写下的感悟,请结合有关英国的史实,说明他为何会有这样的看法?



下载学习资料 | 及时获取最新教育信息

官方网址: [www.tvgdedu.cn](http://www.tvgdedu.cn)



(2)阅读下面两幅漫画,请你结合相关史实,说明英、美两国政治体制的异同。



(3)聚焦 18~19 世纪,探寻美国历史在这一时期的发展,填写下表中①、②处的内容。

斗争目标	时间	历史意义
争取民族独立	1775~1783 年	摆脱了英国的殖民统治,实现了国家的独立,为美国资本主义的发展扫清道路,确立了比较民主的资产阶级政治体制。
维护国家统一	1861~1865 年	①_____。 _____。
国家发展的重要因素:②_____。		

(4) 阅读下面有关近代法国的大事年表, 从其革命历程中, 能总结出哪些特点?

- 1789 年 7 月 14 日, 法国资产阶级革命开始
- 1789 年 8 月 26 日, 制宪会议颁布《人权宣言》
- 1792 年 9 月, 法兰西第一共和国建立
- 1793 年 6 月, 雅各宾派上台, 法国大革命达到高潮
- 1799 年 11 月, 拿破仑发动政变, 夺取政权
- 1804 年 3 月, 颁布《法典》
- 1804 年 11 月, 法兰西第一帝国建立
- 1815 年 6 月, 法兰西第一帝国覆亡

(5)完成上述探究任务后,你认为近代大国的崛起,对我国实现中华民族的伟大复兴有何借鉴意义?