



太原市 2015-2016 学年第一学期七年级期末考试

地理试卷





一、选择题（下列各题的选项中，只有一项符合题目要求，请将正确选项的字母填入下表相应的位置。每题 2 分，共 30 分）

本卷共 35 小题，每小题 4 分，共 140 分。在每小题列出的四个选项中，只有一项符合题目要求。

1. 右图中的城市环境遭受的污染属于

- A. 大气污染 B. 光污染
C. 噪声污染 D. 水污染

2. 下列天气符号与生产生活搭配正确的是

- A.  - 出海捕鱼 B.  - 春游踏青
C.  - 室外锻炼 D.  - 树下站立



3. 下列被列入世界文化遗产的聚落，属于意大利的是

- A. 威尼斯城 B. 丽江古城 C. 巴西利亚 D. 平遥古城

4. 下列人类活动有利于保护文化遗产的是

- A. 在天龙山石窟上刻“某某到此一游” B. 商贩在晋祠设置烧烤摊点
C. 在平遥古城修建高大的现代建筑物 D. 蒙山景区倡导游客垃圾入箱

5. 划分世界三大人种的主要依据是

- A. 宗教信仰 B. 居住环境 C. 体质特征 D. 语言文字

6. 生活在北极圈附近的因纽特人属于

- A. 黄色人种 B. 白色人种 C. 混血人种 D. 黑色人种

7. “早穿皮袄午穿纱，围着火炉吃西瓜”反映了该地

- A. 气温日较差大 B. 气温日较差小
C. 气温年较差大 D. 气温年较差小

8. 某气象站在一天的 2 时、8 时、14 时、20 时，测得的气温依次是 18 、24 、35 、27 ，该地当日平均气温是

- A. 24 B. 25 C. 26 D. 27

9. 下列地理现象与主要影响因素搭配正确的是

- A. 五台山是出名的避暑胜地 距海近
B. 黑龙江省冬季漫长而寒冷 纬度低
C. 乞拉朋齐被称为地球“雨极” 纬度高
D. 乞力马扎罗山形成“赤道雪山” 海拔高

10. 世界上使用人数最多的语言是

- A. 英语 B. 汉语 C. 俄语 D. 阿拉伯语

11. 下列地理现象能说明地球自转的是

- A. 寒来暑往 B. 日出日落
C. 阴晴变化 D. 登高望远

12. 0° 经线又叫本初子午线，它是

- A. 东、西半球的界限 B. 东经与西经的界限
C. 南、北半球的界限 D. 北纬与南纬的界限



13. 南、北美洲之间的分界线是

- A. 苏伊士运河 B. 土耳其海峡
C. 巴拿马运河 D. 马六甲海峡

14. 20 世纪 60 年代, 随着科学技术的发展, 科学家发现

- A. 板块交界地带比较活跃 B. 地球表层是由七大板块组成
C. 板块内部比较活跃 D. 地球表层是完整的一个圈层

15. “元旦”期间, 太阳直射点的位置是

- A. 位于北回归线 B. 由北向南运动
C. 位于南回归线 D. 由南向北运动

二. 连线题 (共 10 分)

16. 将世界三大宗教预期叙述及代表性建筑分别用直线连接起来 (6 分)

- A. 世界上信仰人数最多的宗教 a. 寺庙
B. 教徒称为“穆斯林”的宗教 b. 清真寺
C. 伊斯兰教 c. 教堂

17. 将下列叙述与对应的时间用直线连接起来 (4 分)

- A. 一天中, 气温最高的时间 B. 一天中, 气温最低的时间 C. 一年中, 北半球陆地气温最高的月份 D. 一年中, 北半球陆地气温最低的月份

① 1 月

② 午后 2 点左右

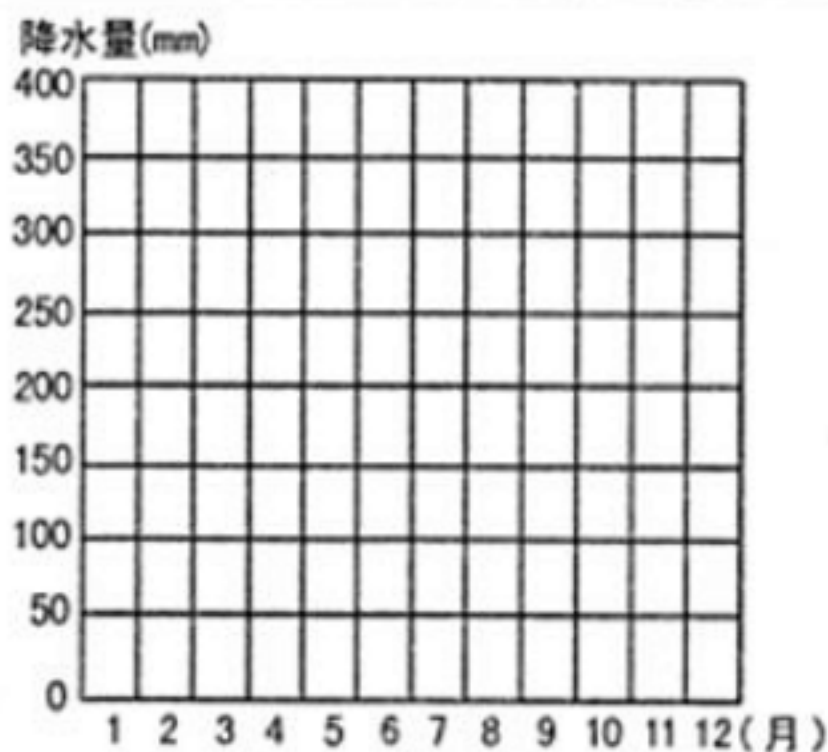
③ 日出前后

④ 7 月

三、读图分析题 (共 45 分)

18. 根据太原市年降水量资料, 完成下列各题。 (15 分)

月份	1	2	3	4	5	6	7	8	9	10	11	12
降水量(mm)	2.8	5.2	9.5	21.5	26.5	60.7	113.7	125.4	57.5	26.4	11.1	2.2



(1) 根据表格资料, 绘制太原市降水量柱状图。 (2 分)

(2) 太原市年降水量约 _____ 毫米。其中降水量最多的是 _____ 月, 约为 _____ 毫米;
降水量最少的是 _____



____月, 约为 ____毫米。

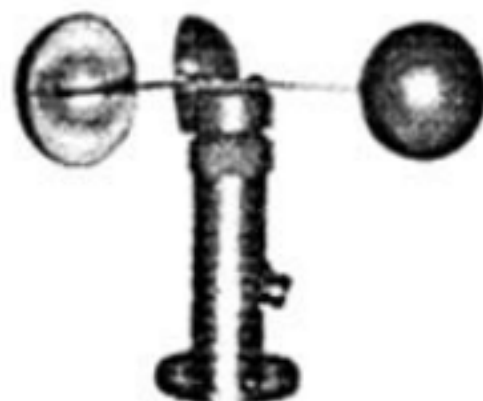
(3) 降水量的测量装置是 () (2 分)



A. 百叶箱



B. 雨量器与量杯



C. 风速风向仪



D. 气压计

(4) 一个地方降水量的多少, 通常是指该地的 () (2 分)

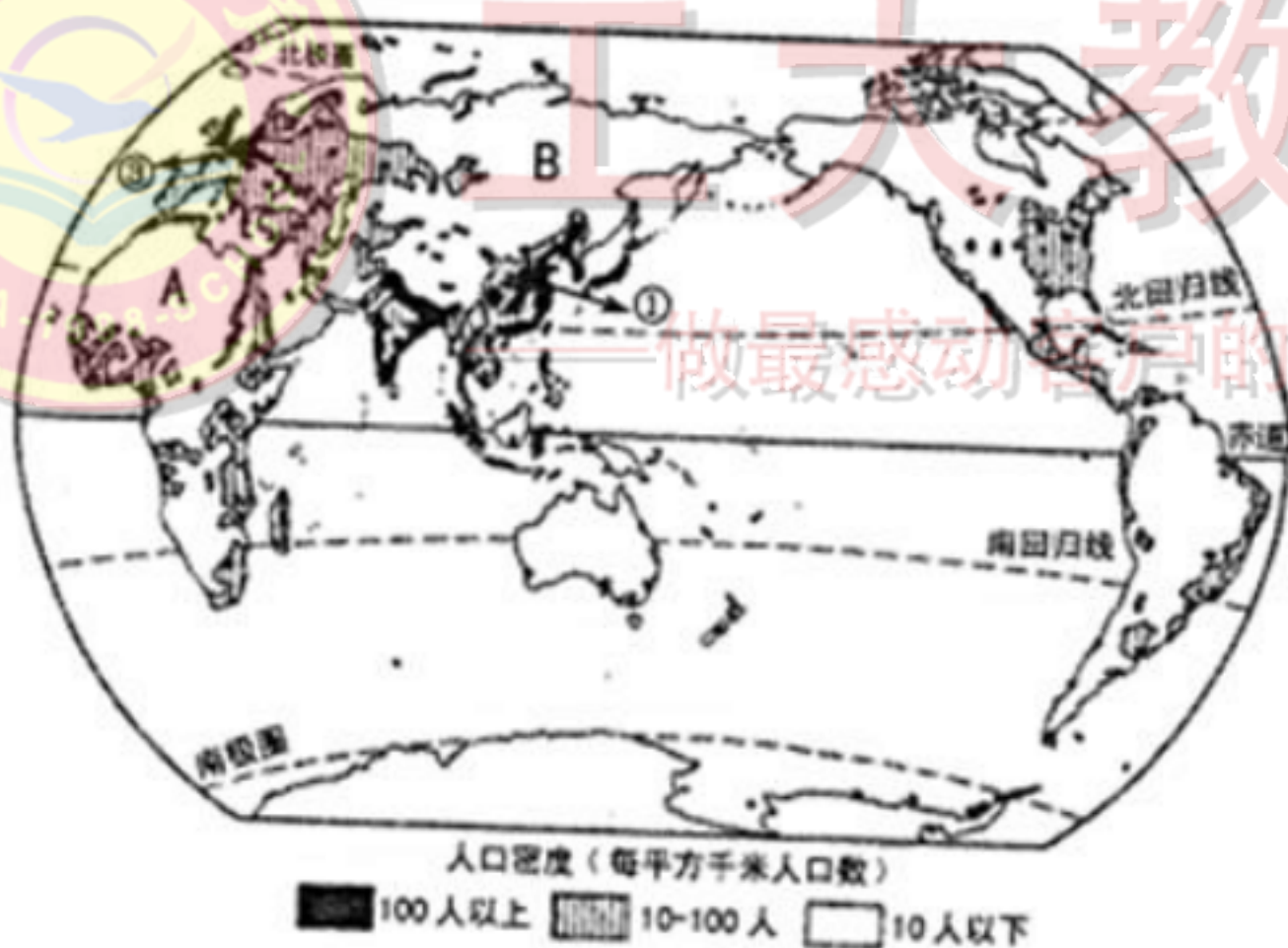
- A. 日降水量 B. 当年的年降水量
C. 月降水量 D. 多年平均降水量

(5) 太原市降水季节变得特点是 () (2 分)

- A. 夏秋多, 冬春少 B. 全年多雨
C. 夏秋少, 冬春多 D. 全年少雨

(6) 请举例说明降水与人们生产生活的关系。 (2 分)

19. 读“世界人口分布图”, 完成下列各题。 (15 分)



(1) 将下列世界人口稠密地区的 、 代号标在图中相应位置。 (2 分)

亚洲东部 亚洲南部 欧洲 北美洲东部

(2) 世界人口分布有的地区稠密, 有的地区稀疏, 分布的特点是: ____。一般来说, 人口稠密地区的自然条件 ____, 人口稀疏地区的自然条件 ____。(3 分)

(3) 人口密度能够准确反映 () (2 分)

- A. 民族数量 B. 人口增长的速度
C. 人口数量 D. 人口分布的疏密

(4) 图中 A 地区的人口密度为 () (2 分)

- A. 200 人/平方千米 B. <10 人/平方千米



C. 10-100 人/平方千米 D. >100 人/平方千米

(5) 图中 B 地区人口稀少的主要原因是 () (2 分)

A. 空气稀薄 B. 环境湿热 C. 气候寒冷 D. 终年高温

(6) 甲、乙两幅漫画反映了一定的人口问题, 请你分别说出由于人口增长过快、过慢还会带来哪些问题? (4 分)



20. 读“陆地面积居于前六位的国家分布示意图”, 完成下列各题。 (15 分)



(1) 写出图中字母所代表的国家。 (4 分)

A. _____ B. _____ C. _____ D. _____

(2) 陆地面积居世界前六位的国家中, 面积最大的是 _____ ; 人口最多的是 _____ ; 位于大洋洲的是 _____ 。 (3 分)

(3) 领土指的是国界以内的 _____ 、领水、 _____ 和底土。 (2 分)

(4) 通常把发达国家和发展中国家的经济差别称为 () (2 分)

A. “南北差距” B. “东西差距” C. “南南合作” D. “东西合作”

(5) 下列关于发达国家的叙述, 正确的是 () (2 分)

A. 以初级加工产品为主 B. 大部分人生活在乡村
C. 工业机械化水平高 D. 国民受教育程度低

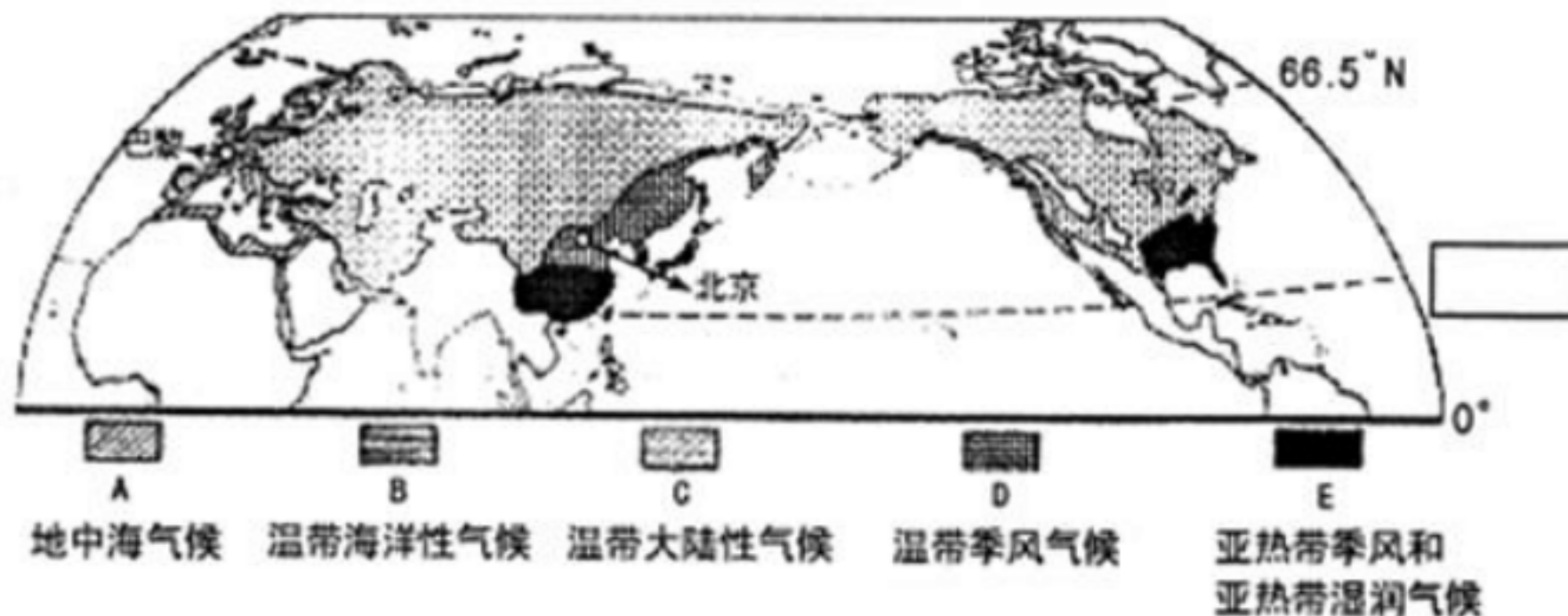
(6) 简要分析发展中国家经济落后的主要原因 _____ 。 (2 分)



四、材料分析题 (共 15 分)

21. 读图文资料, 完成下列各题。 (15 分)

材料一: 北半球亚热带和温带气候类型图



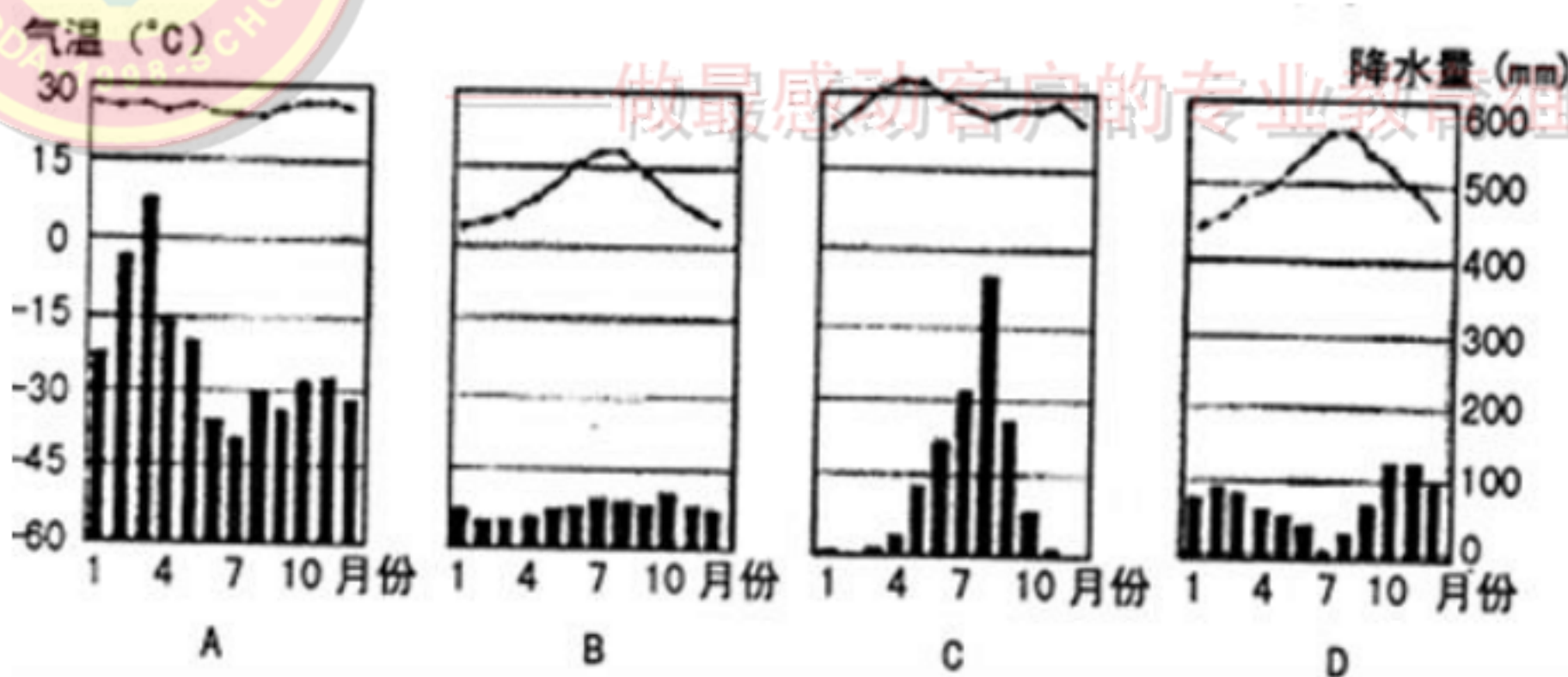
材料二: 第21届联合国气候变化大会于 2015 年11 月30 日至12 月11 日在法国巴黎举行。有195 个国家和欧盟的代表出席此次大会, 中国国家主席习近平应邀出席并发表重要讲话, 阐述中国对全球气候治理的看法和主张, 中国从自身发展实践出发, 意识到应对气候变化是实现发展转型的重大机遇, 积极践行绿色、低碳、循环的可持续发展道路。

(1) 在图中方格内写出重要纬线的度数。 (1 分)

(2) 2015 年联合国气候会议在法国 _____ 举行, 中国国家主席习近平在发言中指出在国内积极践行 _____、_____ 和 _____ 的可持续发展道路。

(3) 北半球中纬度地区, 分布面积最大的气候类型是 _____, 中国北京是 _____, 法国巴黎是 _____。

(4) 下列气温曲线和降水量柱状图符合巴黎气候特征的是 (B) (2 分)



(5) 人类向空气中大量排放二氧化碳等温室气体, 可能带来的后果是 () (2 分)

- A. 全球气候变暖
- B. 全球气候变冷
- C. 海平面上升
- D. 岛屿面积扩大

(6) 请你为保护地球大气环境、提高空气质量献计献策。 (3 分)



附：奖励题（要自信，你能行！）（3分）（加入总分不再另计，高出满分者也按 100 分计）

22. 读“2008 年部分大洲人口的平均出生率、死亡率和自然增长率表”，完成下列各题。（3分）

大洲	出生率(%)	死亡率(%)	自然增长率(%)
非洲	3.8	1.5	
欧洲	1.0	1.2	-0.1
世界	2.0	0.8	1.2

注：数据存在四舍五入

（1）计算非洲人口的自然增长率，并填入表格。

（2）下列关于发展中国家人口增长的叙述，正确的是（ ）

A. 缓慢 B. 零增长 C. 迅速 D. 负增长



工大教育

——做最感动客户的专业教育组织



太原市 2015~2016 学年第一学期七年级期末考试 地理参考答案及评分标准

一、选择题(每小题 2 分,共 30 分)

题号	1	2	3	4	5	6	7	8	9	10	11	12	13	14	15
答案	C	B	A	D	C	A	A	C	D	B	B	B	C	A	D

二、表格题(共 10 分)

16.(6 分,每连对一处得 1 分)

A—②—c B—③—b C—①—a

17.(4 分,每连对一处得 1 分)

A—② B—③ C—④ D—①

三、读图分析题(共 45 分)

18.(15 分)

(1)略(2 分)

(2)460 8 125.4 12 2.2(5 分)

(3)B(2 分)

(4)D(2 分)

(5)A(2 分)

(6)降水丰富,河湖水量充足;利于农作物生长;适度降水有利于净化空气;降水过少容易发生干旱;河湖干涸;土地龟裂;农业减产;生产生活用水紧张;降水过多容易发生洪涝;暴雪影响出行,导致牧民受灾;适度降雪有利于春播,改善空气质量;冰雹导致农业减产等(答出两点即可得 2 分)

19.(15 分)

(1)略(2 分)

(2)(极)不平衡 优越(或好) 恶劣(或差)(3 分)

(3)D(2 分)

(4)B(2 分)

(5)C(2 分)

(6)人口增长过快,资源短缺;住房紧张;就业困难;交通拥挤等(答出两点即可得 2 分)
人口增长过慢,人口老龄化;劳动力短缺;国防兵源不足等(答出两点即可得 2 分)

20.(15 分)

(1)俄罗斯 美国 澳大利亚 巴西(4 分)

(2)俄罗斯(或 A) 中国 澳大利亚(或 C)(3 分)

(3)领陆 领空(2 分)

(4)A(2 分)



(5)C(2分)

(6)长期遭受殖民者的剥削和掠夺,经济基础薄弱;在国际贸易中处于不利地位;农矿产品价格过低;企业生存困难;经济结构单一;对发达国家依赖严重;科技水平低;人口增长过快等(答出两点即可得2分)

四、材料分析题(共15分)

21.(15分)

(1)23.5°N(1分)

(2)巴黎 绿色 低碳 循环(4分)

(3)温带大陆性(或C) 温带季风(或D) 温带海洋性(或B)(3分)

(4)B(2分)

(5)A(2分)

(6)加大工业污染防治;减少机动车尾气排放量;加强大气空气质量检测;使用清洁能源;垃圾分类处理;减少一次性物品使用;节约资源;保护森林资源;大力植树造林;绿色出行;低碳生活;加快发展循环经济等(答出三点即可得3分)

附:奖励题(3分)(加入总分不再另计,高出满分者也按100分计)

22.(3分)

(1)2.3(1分)

(2)C(2分)

评分说明:以上答案仅供参考,言之有理可酌情给分。地理事物名称出现错别字不得分。



工大教育

——做最感动客户的专业教育组织