



测评编号 _____ 姓名 _____ 班级 _____ 学校 _____

题 答 不 内 线 封 弥

太原市 2017~2018 学年第一学期七年级期末考试

历史试卷

(考试时间:上午 10:00—11:30)

说明:本试卷为闭卷笔答,答题时间 90 分钟,满分 100 分。

题 号	一	二	三	四	总 分
得 分					

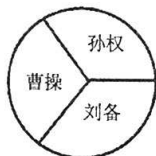
一、单项选择题(本大题含 15 个小题,每小题 2 分,共 30 分)

题号	1	2	3	4	5	6	7	8	9	10	11	12	13	14	15
选项															

- 打败了项羽,统一了全国,于公元前 202 年建立了汉朝,定都长安。这个王朝的建立者是
A. 汉高祖 B. 汉文帝 C. 汉景帝 D. 汉武帝
- 文景时期,社会比较安定,百姓富裕起来。国家粮仓丰满,新谷子压着陈谷子,一直堆到仓外;府库里的大量铜钱,多年不用,穿钱的绳子烂了,散钱多得无法计算。出现这种景象的原因是统治者采取了
A. 分封制管理 B. 休养生息政策 C. 郡国并行制度 D. 削弱王国势力
- 我国古代史上曾建立过一个政权,根据提示语:刘秀、光武中兴、定都洛阳。判断这个政权是
A. 东汉 B. 新朝 C. 西晋 D. 东晋
- 东汉中期以后,形成了外戚与宦官交替专权的局面。他们轮流把持朝政,任用亲信,诛杀异己,导致政治腐朽不堪,正直的官员受到排挤陷害,社会混乱,人民遭殃。这种交替专权的恶性循环动摇了东汉的统治,东汉王朝走向衰亡。这段材料反映了外戚宦官交替专权的
A. 原因 B. 特点 C. 经过 D. 影响
- 《后汉书·皇甫嵩传》记载,东汉末年,张角领导的黄巾起义爆发后,起义军“燔烧官府,劫略聚邑,州郡失据,长吏多逃亡。旬日之间,天下向(响)应,京师震动”。对材料所述理解正确的是
①由于自然灾害导致了黄巾起义 ②起义沉重打击了东汉王朝的统治 ③起义得到广大人民的拥护 ④起义最终被东汉军队残酷镇压
A. ①② B. ③④ C. ②③ D. ②④
- 宗教是人类社会发展到一定历史阶段出现的一种思想文化现象。道教作为我国土生土长的宗教,兴起于
A. 西汉末年 B. 东汉末年 C. 东汉初年 D. 三国时期
- 下列有关佛教的说法,不正确的是
A. 诞生于古印度,创始人是释迦牟尼
B. 东汉明帝时,经丝绸之路传入中国
C. 洛阳白马寺是我国最早的佛教寺院
D. 佛教的传入,丰富了中国文化,产生了深远影响



- 8.《史记》是我国古代第一部纪传体通史,记述了从传说中的黄帝到汉武帝时约 3000 年的史事。下面史事不能从该书中查阅到的是
- A. 商汤灭夏 B. 商鞅变法
C. 巨鹿之战 D. 光武中兴
9. 他是中医临床理论体系的开创者,为中医药学的发展作出巨大贡献;他医术精湛,医德高尚,被后世称为“医圣”。他是
- A. 扁鹊 B. 华佗 C. 张仲景 D. 顾恺之
10. 图示法是学习历史的一种好方法,它能将复杂的历史比较直观形象地展示出来。下面能反映三国鼎立形势的示意图是



A



B



C




D

11. 230 年,孙权派将军卫温到达当时的台湾地区,这是中国历史上第一次有记载的大陆与台湾交往的史实。台湾在三国时期被称为
- A. 瀛洲 B. 琉球 C. 夷洲 D. 扶桑
12. 运用表格归纳整理历史事件是历史学习常用的学习方法。阅读下表中的相关史实,你认为空缺处应该填写的是

战役名称	时间	交战双方	结果	意义
①	200 年	曹操和袁绍	曹操以少胜多取胜	基本统一北方
赤壁之战	208 年	曹操和孙刘联军	孙刘联军以少胜多取胜	②

- A. ①官渡之战 ②全国趋向统一
B. ①淝水之战 ②奠定三国鼎立局面的基础
C. ①淝水之战 ②前秦统一北方
D. ①官渡之战 ②奠定三国鼎立局面的基础
13. 东汉末年书法逐渐成为一门艺术。下列推动书法艺术持久发展的原因有
- ①造纸术的发明,使书写的载体变得快捷便 ②人们对书法美的不懈追求 ③《兰亭集序》达到收放自如、浑然天成 ④书法艺术是中华民族的文化瑰宝
- A. ①② B. ③④ C. ①③ D. ②④
14. 下边是张燕同学制作的历史人物简介的知识卡片,其中有误的一项是



A. 人物: 祖冲之

B. 身份: 杰出科学家

C. 生活时代: 南朝

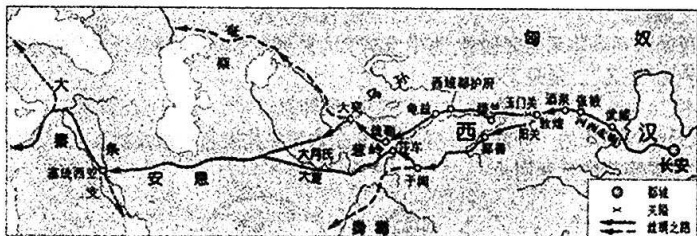
D. 主要成就: 把圆周率精确到小数点后第七位数字;
制定出当时最先进的历法《大明历》;
擅长绘画,代表作《女史箴图》

15. 小明暑假跟随某旅行社去参观了世界三大石窟之一的——云冈石窟,他去的的地方是
- A. 河南洛阳 B. 山西大同 C. 陕西西安 D. 甘肃敦煌

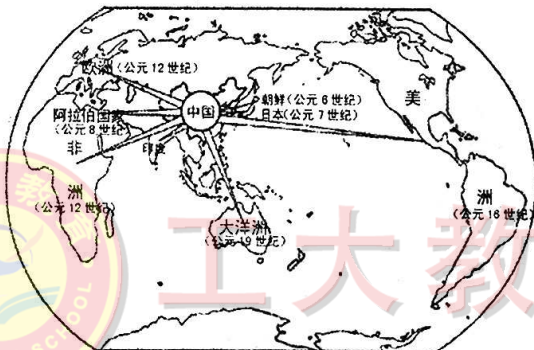


二、简答题(本题共 18 分)

16. 古代历史上,不同文明之间的相互交流促进了社会不断的进步。识读下面地图,结合所学知识,回答相关问题。



图一 丝绸之路



图二 造纸术的传播

(1) 图一丝绸之路的开通与哪位历史人物的贡献密不可分? 为什么史书上把他的首次西行誉为“凿空”? (4 分)

(2) 根据图一, 写出丝绸之路的起点和最远到达点。并列举汉朝与西域在这条丝路上相互交流的具体事例。(6 分)

(3) 根据图二, 按照时间顺序, 制作造纸术传播到世界各地的大事年表。并简述其传播的作用。(8 分)