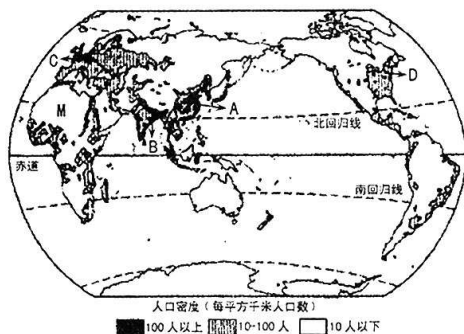




19. (15 分) 读“世界人口分布示意图”，完成下列各题。



(1) 在图中用 2B 铅笔或碳素笔描出南极圈。(1 分)


(2) 写出图中字母所代表的世界人口稠密地区的名称。(4 分)

A. \_\_\_\_\_ B. \_\_\_\_\_ C. \_\_\_\_\_ D. \_\_\_\_\_

(3) 从南、北半球看, 世界人口稠密地区主要分布在 \_\_\_\_\_ 半球; 从沿海、内陆位置看, 世界人口稠密地区主要分布在 \_\_\_\_\_ 地区。(2 分)

(4) 图中 M 地区的人口密度约为 \_\_\_\_\_ / 平方千米, 该地区人口稀少的主要原因是 \_\_\_\_\_。(2 分)。

(5) 将下列漫画所反映的人口增长过快带来的问题写在横线上。(3 分)



A. \_\_\_\_\_



B. \_\_\_\_\_

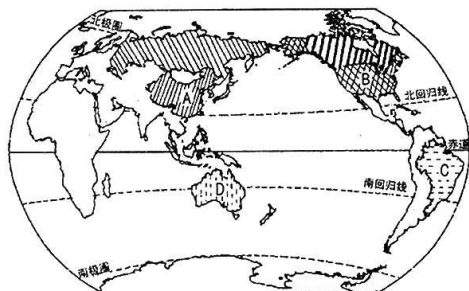


C. \_\_\_\_\_

(6) 简析世界人口稠密地区的有利条件。(3 分)



20. (15 分) 读“陆地面积居世界前六位的国家分布示意图”，完成下列各题。



(1) 在图中用 2B 铅笔或碳素笔描出世界上面积最大的国家的大致轮廓。(1 分)

(2) 写出图中字母所代表的国家的名称。(4 分)

A. \_\_\_\_\_ B. \_\_\_\_\_ C. \_\_\_\_\_ D. \_\_\_\_\_

(3) 按照经济发展水平，一般把世界上的国家分为 \_\_\_\_\_ 国家和 \_\_\_\_\_ 国家，中国属于 \_\_\_\_\_ 国家。(3 分)

(4) “南南合作”是指( ) (2 分)

- A. 南美洲各国之间的合作 B. 发达国家之间的合作  
C. 南半球各国之间的合作 D. 发展中国家之间的合作

(5) 当前世界经济呈现全球化的特点，主要原因是( ) (2 分)

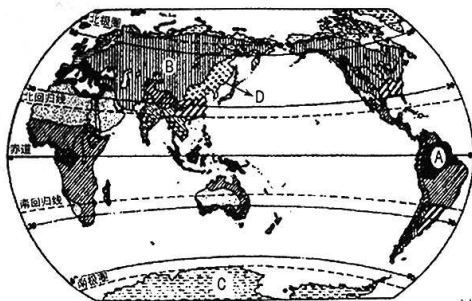
- A. 各国人民爱好和平的愿望更加强烈 B. 世界国际组织的积极倡导和参与  
C. 各国经济发展水平的差距不断缩小 D. 科学技术的发展和信息技术的革命

(6) 简析发展中国家经济落后的主要原因。(3 分)

## 四、材料分析题(共 15 分)

21. (15 分) 阅读图文材料，完成下列各题。

材料一 “世界气候类型分布示意图”



- 热带雨林气候
- 热带草原气候
- 热带季风气候
- 热带沙漠气候
- 亚热带季风和亚热带湿润气候
- 地中海气候
- 温带海洋性气候
- 温带季风气候
- 温带大陆性气候
- 极地气候
- 高原山地气候



材料二 2017年12月7日我国进入二十四节气中的大雪节气。中央气象台预计,7~8日,受新一股冷空气影响,中东部大部分地区将有4~5级、阵风6级大风,气温将下降4~6℃,省会级城市中像太原、银川将分别以3℃、0℃刷新下半年来最高气温的新低;10~11日,受较强冷空气影响,东北及华北等地气温将下降4~8℃,并伴有4~6级偏北风,东部海域有7~9级偏北风。虽已进入大雪节气,近期全国大部分地区依旧维持雨雪稀少格局,北方干燥依旧,江南、华南晴多雨少。

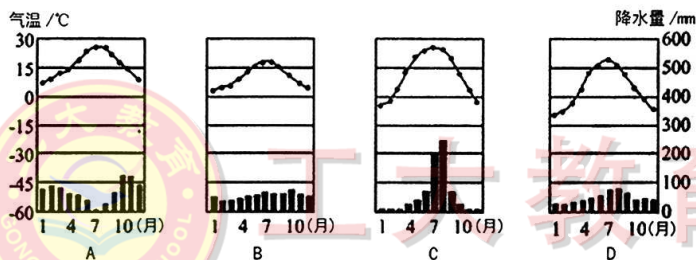
(1)在图中用2B铅笔或碳素笔描出非洲的大致轮廓。(1分)

(2)写出图中字母所代表的气候类型的名称。(4分)

A. \_\_\_\_\_ B. \_\_\_\_\_ C. \_\_\_\_\_ D. \_\_\_\_\_

(3)低纬度地区的气候类型主要有热带雨林气候、\_\_\_\_\_气候、热带沙漠气候和\_\_\_\_\_气候;中纬度地区的气候类型中,分布面积最大的是\_\_\_\_\_气候;极地气候的显著特点是\_\_\_\_\_。(4分)

(4)下列气温曲线和降水量柱状图中,最能反映太原市气候的是( ) (2分)



(5)描述太原市冬季气候特征。(2分)

(6)分别画出“西北风6级”和“北风8级”的天气符号。(2分)

附:奖励题(要自信,你能行!)(3分)(加入总分不再另计,高出满分者也按100分计)

22.(3分)读“等高线地形图”,完成下列各题。

(1)判断地形部位名称。(2分)

AB: \_\_\_\_\_

CD: \_\_\_\_\_

(2)乙山位于甲山的\_\_\_\_\_方向。

(1分)

