



# 太原市 2017~2018 学年第一学期七年级期末考试

## 地理试卷

(考试时间:下午 2:30——4:00)

说明:本试卷为闭卷笔答,答题时间 90 分钟,满分 100 分。

题号	一	二	三	四	总分
得分					

一、选择题(下列各题的选项中,只有一项符合题目要求,请将正确的选项填入下表相应位置。每小题 2 分,共 30 分。)

题号	1	2	3	4	5	6	7	8	9	10	11	12	13	14	15
选项															

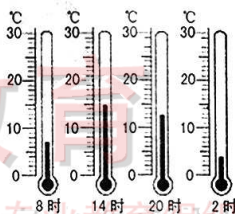
右图为某气象站工作人员测得某日 8 时、14 时、20 时、2 时的气温值。据此完成 1~2 题。

1. 该日的最高气温大致是

- A. 10℃  
B. 15℃  
C. 20℃  
D. 25℃

2. 该日的日平均气温大约是

- A. 4℃  
B. 6℃  
C. 8℃  
D. 10℃



3. “早穿皮袄午穿纱,围着火炉吃西瓜”反映了当地的气温

- A. 日较差大  
B. 日较差小  
C. 年较差大  
D. 年较差小

4. 古代的诗词歌赋蕴涵着丰富的地理知识。苏轼的“乌云翻墨未遮山,白雨跳珠乱入船。卷地风来忽吹散,望湖楼下水如天。”主要描述的是

- A. 气温  
B. 气候  
C. 天气  
D. 季节

5. 同学们的衣柜里存放着春、夏、秋、冬四季的衣物,这是因为我们生活在

- A. 热带地区  
B. 温带地区  
C. 寒带地区  
D. 极地地区

6. 下列关于丘陵的描述正确的是

- A. 峰峦起伏,坡度陡峻  
B. 四周高,中间低  
C. 起伏不大,坡度和缓  
D. 地势平坦,面积广阔

7. 下列节日中,北京天安门广场早晨升旗最晚的是

- A. 妇女节  
B. 儿童节  
C. 国庆节  
D. 元旦

8. 汽车上使用车载导航地图省时又省力,该种地图属于

- A. 地形图  
B. 气候图  
C. 政区图  
D. 交通图



9. 关于珠穆朗玛峰不断升高的原因, 下列说法正确的是

- ①珠穆朗玛峰处于板块碰撞挤压地带 ②世界上所有的山峰都在不断升高, 珠穆朗玛峰也是如此 ③亚欧板块与印度洋板块的碰撞挤压, 使得珠穆朗玛峰不断升高 ④亚欧板块与印度洋板块的张裂, 使得珠穆朗玛峰不断升高

A. ①②

B. ②④

C. ①③

D. ③④

右图为“地形对降水的影响”。据此完成 10~11 题。

10. 对 A 坡描述正确的是

- A. 迎风坡容易成云致雨  
B. 迎风坡经常晴空万里  
C. 背风坡气流下沉增温  
D. 背风坡水汽不易凝结



11. 地处印度洋暖湿气流的迎风坡, 年降水量高达 11640mm, 被称为地球“雨极”的是

- A. 热带雨林区 B. 乞拉朋齐  
C. 喜马拉雅山 D. 青藏高原

12. 既是联合国六种正式语言之一, 又是使用人数最多的语言是

- A. 汉语 B. 英语 C. 法语 D. 俄语

13. 下列被列入世界文化遗产的聚落中, 属于山西省的是

- A. 平遥古城 B. 宏村和西递  
C. 丽江古城 D. 开平碉楼和村落

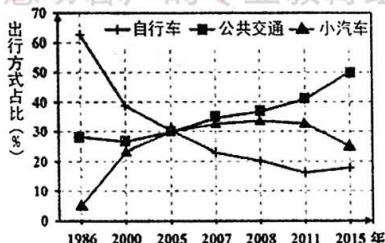
“绿色出行”新理念已为我国许多城市市民所接受。下图为“1986—2015 年某城市市民主要出行方式变化”。据此完成 14~15 题。

14. “绿色出行”新理念对市民出行方式产生明显影响的年份开始于

- A. 2000 年 B. 2005 年  
C. 2007 年 D. 2011 年

15. 鼓励市民绿色出行的最主要目的是

- A. 减轻噪声污染 B. 缓解交通拥堵  
C. 改善大气环境 D. 减少交通事故



二、表格题 (共 10 分)

16. (4 分) 按要求完成表格内容。

聚落类型	_____ 聚落	_____ 聚落
居民主要从事的生产活动		

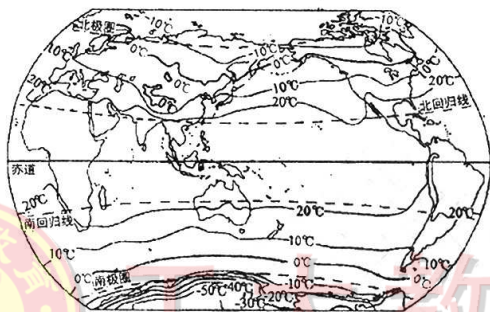


17. (6分) 按要求完成表格内容。

宗教代表性建筑 (主要活动场所)	世界三大宗教名称	世界三大人种名称	杰出人物
教堂		白色人种	
清真寺		黄色人种	
寺庙		黑色人种	

### 三、读图分析题(共 45 分)

18. (15 分) 读“世界年平均气温分布示意图”，完成下列各题。



(1) 在图中用 2B 铅笔或碳素笔描出北半球 0°C 等温线。(1 分)

(2) 世界年平均气温的分布规律是从赤道向南、北两极\_\_\_\_\_，南、北回归线之间年平均气温约在\_\_\_\_\_℃以上，南、北极圈附近气温约为\_\_\_\_\_℃，在青藏高原地区，等温线呈闭合状，那里是一个\_\_\_\_\_中心。(4 分)

(3) 影响全球气温分布的因素主要有\_\_\_\_\_、\_\_\_\_\_、\_\_\_\_\_等，其中基本因素是\_\_\_\_\_。(4 分)

(4) 世界上年平均气温最低的大陆是( ) (2 分)

- A. 非洲大陆      B. 南极大陆      C. 澳大利亚大陆      D. 亚欧大陆

(5) 下列诗句能反映地形对气候影响的是( ) (2 分)

- A. 二月江南花满枝，他乡寒食远堪悲      B. 莫恋南国春色好，燕地梅花胜桃红  
C. 羌笛何须怨杨柳，春风不度玉门关      D. 人间四月芳菲尽，山寺桃花始盛开

(6) 人类的哪些行为会加剧全球气候变暖? (2 分)