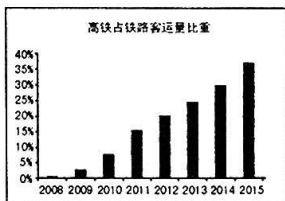
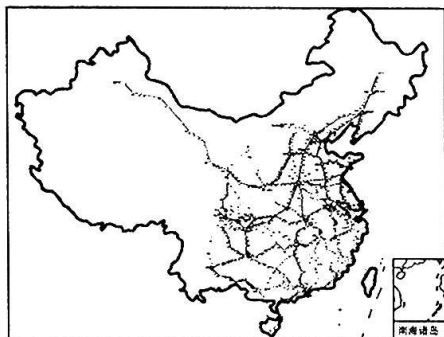




19. (15分)读“中国高速铁路网络示意图(2015年)”,完成下列各题。



(1)现代交通运输方式主要包括铁路、_____、水运(内河和航海)、_____和_____。高铁属于_____运输的一部分。(4分)

(2)2008年8月1日,第一条具有自主知识产权、世界一流水平的京津城际高速铁路开通运营,拉开了我国高速铁路建设的序幕。从此,我国高铁运输占铁路客运量的比重不断_____,2015年约占_____%。(2分)

(3)中国高速铁路是指新建设计开行250公里/小时(含预留)及以上动车组列车,初期运营速度不小于200公里/小时的客运专线铁路。高铁的特点是() (2分)



- A. 速度快,运费适中,舒适方便
- B. 运量大,速度慢,受自然条件限制
- C. 速度快,运费高,受天气影响大
- D. 运量小,机动灵活,可从“门到门”

(4)我国四大高原中,目前没有被高速铁路网络覆盖的是() (2分)

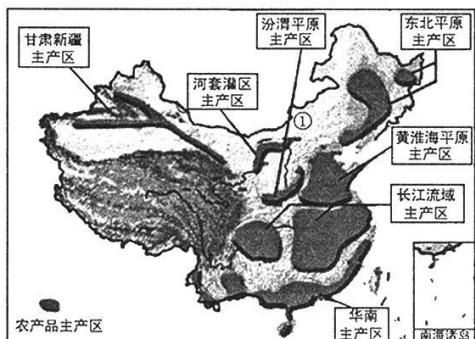
- A. 云贵高原
- B. 青藏高原
- C. 内蒙古高原
- D. 黄土高原

(5)春节将至,家住太原的李雪和家人准备去西安休闲度假。请你为李雪及家人设计一种合适的出行方式,并说明理由。(2分)

(6)说出我国高速铁路网络分布特点及其主要原因。(3分)



20. (15 分) 读“我国七大农产品主产区分布示意图”，完成下列各题。

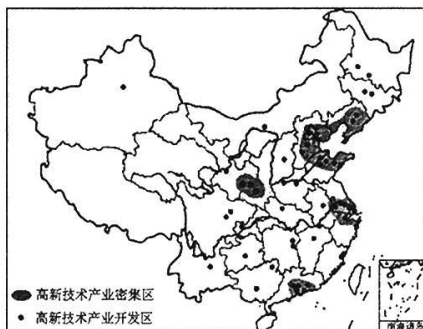


- (1) 我国七大农产品主产区中，主要位于我国地势第三级阶梯的有 _____、_____、_____。(4 分)
- (2) 图中①所在地区是我国著名的 _____ 牧区，主要的畜种有三河牛、三河马、阿拉善骆驼等。(1 分)
- (3) 黄淮海平原主产区的主要粮食作物是 _____，主要经济作物是 _____；华南主产区的主要粮食作物是 _____，主要经济作物是 _____。(4 分)
- (4) 李红同学的家乡，春季时金黄色的油菜花令人心醉，夏季时绿色的稻田一望无际，2016 年棉花又喜获丰收，该同学的家乡可能位于() (2 分)
 - A. 东北平原主产区
 - B. 甘肃新疆主产区
 - C. 长江流域主产区
 - D. 河套灌区主产区
- (5) 黄淮海平原主产区和华南主产区的农作物不同。请分别说出它们所属的气候类型。(2 分)
- (6) 近年来，我国农业取得了巨大成就。请你为农业的可持续发展献计献策。(2 分)

四、材料分析题(共 15 分)

21. (15 分) 阅读图文材料，完成下列各题。

材料一 “我国高新技术产业开发区分布示意图”



材料二 随着我国高新技术产业的不断发展,在原有高新技术产业区的基础上,逐步形成了四大高新技术产业密集区,它们分别是以北京中关村科技园区为中心的环渤海高新技术产业密集区;以上海高新区为中心的沿长江高新技术产业密集区;以深圳高新区为中心的东南沿海高新技术产业密集区;以西安、杨凌高新区为中心的沿欧亚陆桥高新技术产业密集区。高新技术产业的发展带领我国工业从“中国制造”迈向“中国创造”,使工业走向国门,走向世界。


(1)在图中用 2B 铅笔或碳素笔描出山西省的大致轮廓。(1 分)

(2)我国四大高新技术产业密集区分别是以北京中关村科技园区为中心的
高新技术产业密集区;以上海高新区为中心的_____
高新技术产业密集区;以深圳高新区为中心的_____
高新技术产业密集区;以西安、杨凌高新区为中心的_____
高新技术产业密集区。我国国内建立最早、规模最大、实力最强、知名度最高的高新技术产业开发区是_____。(5 分)

(3)下列属于高新技术产品的是() (2 分)



A. 汽车



B. 机床



C. 化肥



D. 电脑

(4)工业从“中国制造”迈向“中国创造”的关键因素是() (2 分)

A. 市场与交通

B. 技术与人才

C. 资源与土地

D. 气候与地形

(5)简析高新技术产业开发布局的条件。(3 分)

(6)请说出山西省主要的工业部门。(2 分)