



11. 比拉大沙丘移动速度最快的季节可能是

- A. 春季 B. 夏季 C. 秋季 D. 冬季

二、非选择题

(一) 必考题 (共两题, 46 分)

36. 阅读图文资料, 完成下列要求。(24 分)

塞凡湖为高山淡水湖, 盛产鱼类。湖面海拔 1916m, 蓄水量约 585 亿 m^3 , 湖水由拉兹丹河经阿拉斯河注入里海。入湖水量约 13 亿 m^3 /年, 出湖水量约 1 亿 m^3 /年, 湖水蒸发旺盛, 损耗大。20 世纪 30 年代, 当地对拉兹丹河进行梯级开发, 人为将出湖水量增加到 12 亿 m^3 /年。近年来, 当地政府采取禁止引用湖水、冻结湖上一系列动力和农业工程等措施。图 5 示意塞凡湖地理位置, 图 6 是 A 城市(海拔 907m)的气候资料。

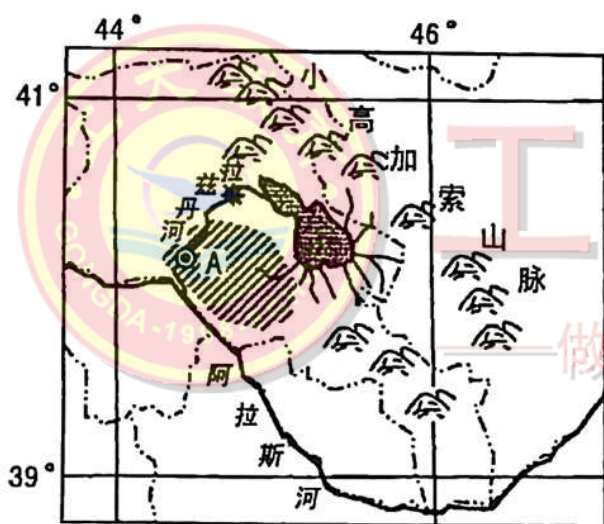


图 5

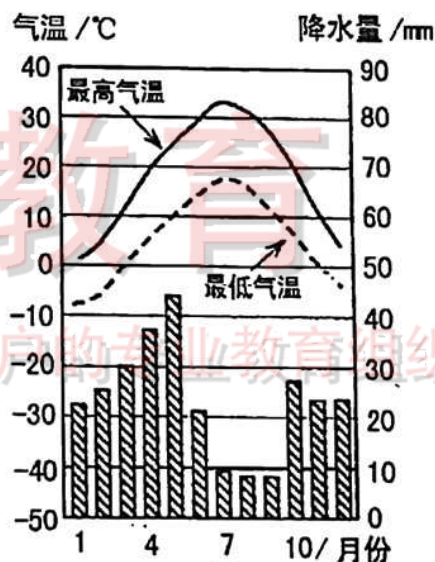


图 6

(1) 归纳 A 城市的降水特征, 并分析原因。(8 分)

(2) 分析塞凡湖湖水蒸发旺盛的原因。(6 分)





(3) 说明拉兹丹河梯级开发所产生的主要效益。(4 分)

(4) 推测当地政府提出禁止引用湖水的原因。(6 分)

37. 阅读图文资料, 完成下列要求。(22 分)

吉林省洮南市有“辣椒之乡”的美誉, 所产辣椒品质优良, 种植面积达 20 多万亩, 其产业辐射到周边 12 个县市区, 并建有辣椒交易市场。韩国人有食泡菜、辣酱的习惯, 洮南市有其最喜欢的辣椒品种, 韩国辣椒进口量的 80% 以上来自洮南。图 7 示意洮南辣椒产业生产、管理、加工流程, 图 8 示意洮南地理位置。

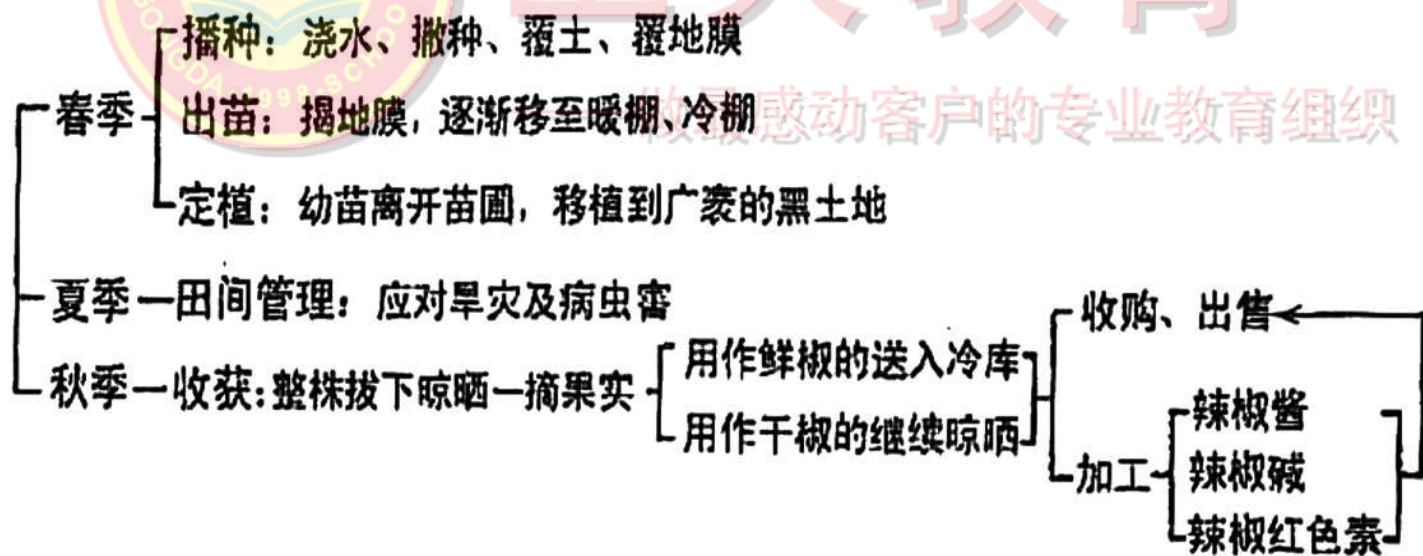


图 7



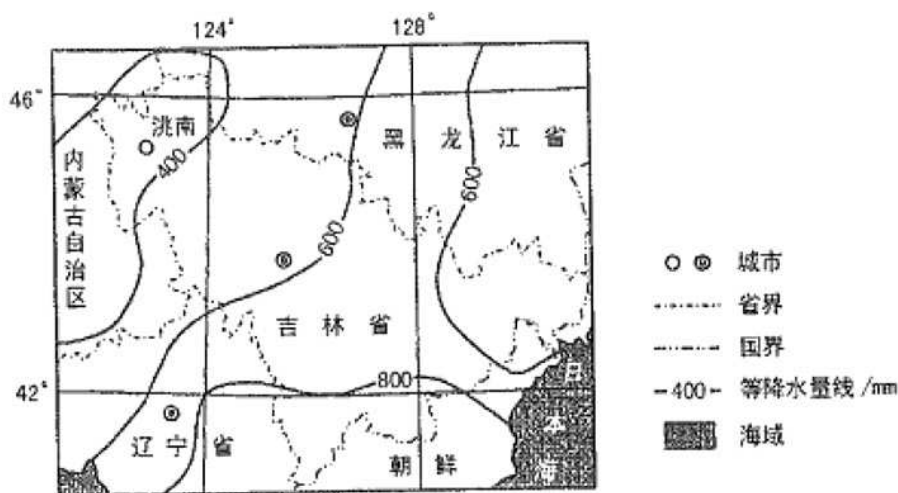


图 8

(1) 分析洮南辣椒品质优良的气候条件。(10 分)

(2) 分析洮南辣椒能够占领韩国市场的原因。(8 分)

(3) 说明洮南种植辣椒对区域社会经济发展的拉动作用。(4 分)



工大教育

——做最感动客户的专业教育组织

(二) 选考题:共 10 分。请考生从 2 道地理选考题任选一题作答。如果多做,则按所做的第一题计分。

43. 【地理一选修 3:旅游地理】(10 分)

王莽岭景区位于山西省陵川县境内,最高海拔 1665 米,境内植被茂密,覆盖率达 96%,暑期气温在 18~20℃之间,素有“中原后花园,清凉圣境”之美誉。随着游客的增多,景区应运而生了一批以避暑、度假、休闲为主的农家山庄,成为省内外游客的避暑胜地。近年来,在王莽岭避暑度假的郑州市民远多于太原市民。图 9 示意王莽岭的地理位置。



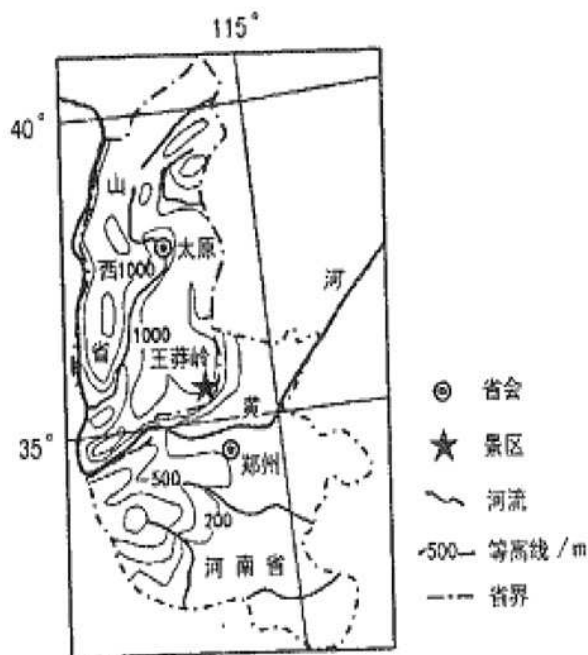


图9

分析到王莽岭避暑度假的郑州市民远多于太原市民的原因。



工大教育

做最感动客户的专业教育组织

44. 【地理—选修6:环境保护】(10分)

洞庭湖自然保护区以保护越冬候鸟和鱼类资源为主要目的,上世纪70年代保护区将需水量大、根系发达、固沙作用明显的欧美黑杨作为护堤防浪生态林引入栽种。2000年以来,地方政府为提高农民收入,利用黑杨生长快、用途广、适应性强、利润可观的特点,鼓励栽种黑杨,使其在自然保护区的种植面积迅速扩大。2017年中央环保督察组指出大面积种植黑杨严重损害了洞庭湖自然生态。2017年12月,洞庭湖核心保护区300万棵欧美黑杨全部被清理。图10为洞庭湖自然保护区核心区内待清理的欧美黑杨林。



图10

分析洞庭湖自然保护区清理欧美黑杨的原因。

