



太原市 2017-2018 学年第二学期八年级期末考试

历史试卷

(考试时间: 下午 5: 00-6: 30)

说明: 本试卷为闭卷笔答, 做题时间 90 分钟, 满分 100 分。

题 号	一	二	三	四	总 分
得 分					

一、单项选择题 (每小题 2 分, 共 30 分)

题号	1	2	3	4	5	6	7	8	9	10	11	12	13	14	15
选项															

1. 实现中华民族伟大复兴, 是中华民族近代以来最伟大的梦想。下面对“中国梦”理解正确的是

- ①基本内涵是国家富强、民族振兴、人民幸福
- ②体现了全国各族人民的共同愿望
- ③将在本世纪头 20 年实现
- ④必须走中国道路、弘扬中国精神、凝聚中国力量

A. ①③④ B. ②③④ C. ①②④ D. ①②③

【答案】C

【解析】中国梦核心目标是“两个一百年”, 预计 2049 年实现中华民族伟大复兴, 第三小项错误。

2. 下列对右图五大发展理念相关的叙述, 不正确的是



- A. 中共十八届五中全会上提出
- B. 第十三个五年规划的建议中提出
- C. 关系到我国发展全局和未来前景
- D. 为实现中国梦提供了理论指导和行动指南

2. 【答案】D

【解析】十九大报告为中国梦提供了科学理论指导和行动指南。其他三项都正确。

3. 正确分析不断变化的国情, 是我们进行一切工作的前提。中共十九大关于我国社会主要矛盾的论述, 正确的是





- A. 中华民族与帝国主义的矛盾
- B. 社会主义与资本主义的矛盾
- C. 先进的社会主义制度与落后的社会主义生产力之间的矛盾
- D. 人民日益增长的美好生活需要和不平衡不充分发展之间的矛盾

3. 【答案】D

【解析】十九大于 2017 年召开，这一时期的主要矛盾是人民日益增长的美好生活需要和现实不平衡不充分发展之间的矛盾。

4. “四个全面”战略布局，是新形势下中国共产党治国理政的总方略，是事关中国共产党和国家长远发展的总战略。“四个全面”是指

- ①全面建成小康社会 ②全面深化改革 ③全面依法治国 ④全面从严治党 ⑤全面对外开放
- A. ①②③⑤
- B. ①②③④
- C. ②③④⑤
- D. ①③④⑤

4. 【答案】B

【解析】“四个全面”内容为全面建成小康社会、全面深化改革、全面依法治国、全面从严治党。

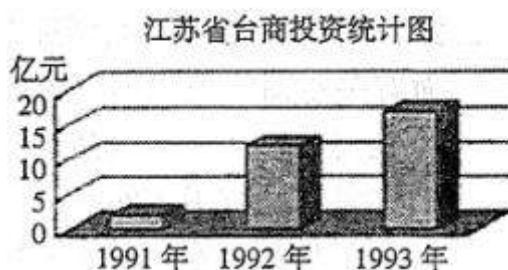
5. 从 1984 年到 2013 年底，我国少数民族地区城镇居民人均可支配收入增长了 38 倍；农民人均收入增长了 21 倍。这些成就反映出少数民族地区

- A. 完成了彻底的民主改革
- B. 达到了小康社会的标准
- C. 人民生活水平大大提高
- D. 实现了社会主义现代化

5. 【答案】C

【解析】人均收入大幅增长，直接反映了人民生活水平的提高。“彻底”过于绝对；小康社会和社会主义现代化尚未完全实现。

6. 观察右图，这一时期台商在江苏投资情况发生变化的原因不包括



- A. 邓小平南方谈话
- B. 香港、澳门的回归
- C. 中共十四大的召开
- D. 海峡两岸经济文化交流的加强

6. 【答案】B

【解析】香港、澳门回归时间分别是 1997 年和 1999 年，与图中时间不符。

7. 1992 年海协会和海基会达成“九二共识”，其主要内容是





- A. 海峡两岸均坚持一个中国的原则
- B. 两岸实行通邮、通航、通商
- C. 把和平统一台湾作为神圣的历史使命
- D. 停止对金门等地方的炮击

7. 【答案】A

【解析】“九二共识”最主要内容是海峡两岸均坚持一个中国原则的共识。

8. “必须高度重视战略前沿技术发展……选准主攻方向和突破口，超前布局、超前谋划，加紧在一些重要领域形成独特优势。”“着力解决制约国防和军队建设的体制性障碍、结构性矛盾、政策性问题，推进军队组织形态现代化。”这表明我国军队、国防现代化的重要途径是

- ①扩大军队规模 ②增加军队数量 ③加强军队改革和国防建设
 - ④推进“科教兴国”战略 ⑤走科技强军之路
- A. ②③ B. ①⑤ C. ③⑤ D. ④⑤

8. 【答案】C

【解析】材料主要体现了要解决国防军队建设中的各种矛盾，还要重视前沿科技，即加强军队改革和国防建设和走科技强军之路。

9. 小丽同学查阅建国以来我国军队建设的相关资料后，制作了下面的大事年表。据此，她对军队建设所起的作用得出了如下结论，其中有误的是

1949年4月，人民解放军第一支海军华东军区海军建立
 1949年11月，空军司令部成立，标志着人民空军正式诞生
 1954年6月，人民解放军第一支潜艇部队成立
 1966年7月，中国战略导弹部队正式成立
 1996年，人民解放军海陆空三军及战略导弹部队在台湾海峡进行了建国以来规模最大、现代化程度最高的一次联合实弹演习
 2016年，中国空军出动“轰-6K”飞机赴南海战斗巡航
 2016年，中国人民解放军成立五大战区，构建军队联合作战体系

- A. 极大地提高了中国国防总体实力和防卫作战的能力
- B. 为保卫国家领土完整和维护国家统一筑起钢铁长城
- C. 为社会主义现代化建设提供了坚强有力的安全保证
- D. 具有现代化科技知识的军队指挥人才队伍逐渐形成

9. 【答案】D

【解析】题目中问军队建设的作用，指挥人才队伍的形成属于表现而非作用。

10. 一位美国记者评论周恩来在某次重大会议中的作用时说：“周恩来并不打算改变任何一个坚持反共立场的领导人的态度，但是他改变了会议的航向。”这次会议是

- A. 万隆会议 B. 第26届联合国大会
- C. 日内瓦会议 D. 亚太经济合作组织会议

10. 【答案】A

【解析】美国记者的评论说明了周恩来在会议上的重要作用，体现了不结盟运动以及求同存异的万隆精神，可以判





断是万隆会议。


11. 1979 年美国总统卡特在白宫欢迎邓小平时说“我听说，在这新年之际，是忘记家庭争吵的时刻，也是团聚与和解的时刻。对于我们两国来说，今天是团聚和开始新的历程的时刻，是久已关闭的窗户重新打开的时刻。”“这一时刻”是指

- A. 中美正式建交
- B. 抗美援朝胜利
- C. 基辛格访华
- D. 中日建交

11. 【答案】C

【解析】题中关键时间 1979 年，这一年中中美正式建交，其他选项和材料时间不相关。

12. 2016 年 4 月 24 日，我国迎来了第一个“中国航天日”。这一天的设定和右图内容相关，下面有关右图的表述不正确的是



- A. 这是中国第一颗人造地球卫星
- B. 它成功发射于 1964 年
- C. 中国从此在空间技术领域跻身于世界先进国家行列
- D. 它标志着中国人民成功掌握了人造卫星的空间技术

12. 【答案】B

【解析】图示为东方红一号，于 1970 年 4 月 24 日发射。

13. 屠呦呦获得诺贝尔奖后感言：青蒿素的发现是集体发掘中医药的成功范例……如果死守老祖宗的宝贝、固步自封，中医只能是“一筐草”，无法变成“一块宝。”屠呦呦告诉人们对待传统文化应该秉持的态度是

- A. 否定传统，学习西方
- B. 脱离传统，彻底创新
- C. 取其精华，推陈出新
- D. 全部继承，发扬光大

13. 【答案】C

【解析】材料强调“不能死守”，说明要继承的基础上创新。其他三项用词过于绝对。

14. 改革开放后，国家投入巨额资金改善交通条件，并取得巨大成就。截至 2010 年底，中国的铁路营运里程已居世界第二。下列成就不是改革开放后取得的是

- A. 青藏铁路
- B. 京沪高铁
- C. 中欧铁路
- D. 鹰厦铁路

14. 【答案】D

【解析】鹰厦铁路修建是在 1954 年，在改革开放之前。

15. 从“有啥吃啥到吃啥有啥”，从“绿蓝灰到五彩缤纷”，从“破烂平房到漂亮楼房”，从“自行车到私家车进平常百姓家”，这些变化出现的主要原因是

- A. 人们不再发扬艰苦奋斗的传统





- B. 人们衣食住行发生了变化
- C. 人们对未来美好生活的向往
- D. 改革开放以来经济快速发展

15. 【答案】D

【解析】材料体现了人民生活水准不断上升，变化的主要原因在于经济水平的快速发展。

二、简答题（本题共 18 分）

16. 制作学习卡片是历史学习常用的方法之一。请你回答下面两位同学运用这一方法进行归类学习时提出的问题。

（1）张莉同学以“祖国统一”为主题，搜集到下面两组图片。（8 分）

第一组	第二组
 	 
<p>图一 中英香港交接仪式 图二 中葡澳门交接仪式</p>	<p>图三 汪辜会谈 图四 习近平同马英九会面</p>
<p>①简述图片中香港、澳门顺利回归的原因及历史意义。（6 分）</p>	<p>②上面两幅图片反映的历史事件有何共同影响？（2 分）</p>

（2）王华同学以“科学精神”为主题，为下面两位科学家制作了人物名片，请你根据要求完成续写，并谈谈从他们身上学到哪些精神。（10 分）

<p style="text-align: center;">邓稼先</p> <p>重要贡献: _____</p> <p>历史影响: _____</p> <p>_____</p>	<p style="text-align: center;">袁隆平</p> <p>重要贡献: _____</p> <p>历史影响: _____</p> <p>_____</p>
<p><u>我学到的</u></p>	

16. 【答案】(1) 原因：综合国力的增强；国际地位的提高；“一国两制”的伟大构想；党和政府的英明领导；人民的共同期盼等。（任意一点得 2 分，共 4 分）





意义：香港、澳门回归祖国，标志中国人民洗雪了百年国耻，在完成祖国统一大业上迈出了重要一步。（2分）

共同影响：都推动了两岸关系的发展，有利于深化两岸交流合作；都有利于促进两岸的经济文化往来，推动两岸人民的情感交流等。（答出符合题意的任意一点得 2 分）

（2）邓稼先：参与研制出中国最早的原子弹、氢弹，被誉为“两弹元勋”。（2分）打破了当时有核大国的核垄断，增强了我国的国防实力，大大提高了我国的国际地位。（2分） 袁隆平：培育出籼型杂交水稻。（2分）为解决我国这样一个人口大国的吃饭问题和保障我国粮食安全，做出了巨大贡献；对解决世界性饥饿问题也有重要贡献等。（2分） 感悟：时刻考虑国家和民族利益；默默探索耕耘；刻苦钻研；专心致志；坚持不懈等。（答出符合题意的任意一点得 2 分）

【解析】第（1）问考查关于祖国统一的内容。两张图分别是港澳回归和海峡两岸的交流。第（2）问考查现代科学家的成就贡献。

三、材料解析题（本大题含两小题，其中第 17 题 12 分，第 18 题 18 分，共 30 分）

17. 民族团结、经济发展是国家繁荣的基础和动力。阅读下列材料，结合所学知识，回答问题。

材料一 1965 年 9 月，西藏自治区友其人民政府正式宣告成立。经过 65 年的发展，西藏已经发生了翻天覆地的变化。青藏铁路通车、在全国率先实现 15 年免费教育、2015 年全 区生产总值突破 1000 亿大关。

——新华网

（1）材料一中，西藏发生了哪些方面的变化？归纳西藏经济发展和社会进步的原因。（4 分）

材料二 1972 年中美双边贸易额极低，仅为 1288 万美无，1979 年也只达到 24. 5 亿美元，1980 年两国又相互提供贸易最惠国待遇，从而为双边贸易发展提供基础，据中国海关统计，自 1979 年间至 1989 年的十年间，中国自美国进口和对美出口年度增长率分别为 15% 和 22%，这一增长大大超过世界贸易的年均增长率，亦远远超出中国外贸的年均增长率。20 世纪 90 年代以来，双边贸易额继续保持持续增长势头。

（2）材料二反映了中国对美国出口贸易呈现怎样的趋势？为什么会出现这样的发展趋势？（6 分）

材料三 中共十八大以来，我国加快构建开放型经济新体制，深入实施“一带一路”建设，筹建和成立亚洲基础设施投资银行，加快自由贸易试验区建设，推进人民币国际化进程，体现了中国与世界其他各国携手建设持久和平、共同繁荣的和谐世界的美好愿景。

——部编版八年级下册

（3）结合材料三，谈谈我国构建开放型经济体制有何意义。（2 分）

17. 【答案】（1）经济发展；交通便利；教育进步；人民幸福等。（答出任意两点得 2 分）

民族区域自治制度符合西藏人民的利益和西藏长远发展的要求；西部大开发战略的实施；我国在少数民族地区因地制宜，进行一系列民主改革和社会主义改造，废除剥削压迫；采取许多优惠政策，派出大批人员，通过技术、资金、物资等多种方式，加强少数民族地区经济建设等。（答出符合上述意思的任意一点得 2 分）

（2）不断上升；（2分）原因：中国实施改革开放政策，对外开放促进经济迅速发展；中美正式建交，促进了两国间贸易的发展。（从内外因两方面回答各 2 分，共 4 分）

（3）把国内经济和整个国际市场联系起来；充分的参加国际分工，同时在国际分工中发挥出本国经济的优势；有利于实现世界持久和平和共同繁荣。（答出符合题意的任意一点得 2 分）





【解析】本题主要考查我国的民族团结和经济发展相关内容。第(1)问西藏变化原因从制度、战略、政策等方面作答。第(2)问中国对美国出口贸易增加,题目中关键时间1979年到1989年,从这一时期国内改革开放和中美建交方面分析。第(3)问从国内国际来谈开放经济发挥的作用。

18.新中国成立以来,外交领域取得了一系列成就。阅读下列材料,结合所学知识,回答问题。

材料一 1949年,在中华人民共和国外交部的成立大会上,周恩来说:“中国一百年来外交史是一部屈辱的外交史。我们不学他们。我们不要被动、怯懦,而要认清帝国主义的本质,要有独立精神,要争取主动,没有畏惧,要有信心。”

材料二 1953年底,周恩来在接见印度代表团时,首次提出和平共处五项原则,作为处理两国关系的原则。第二年,周恩来访问印度和缅甸,分别与印度总理尼赫鲁、缅甸总理吴努发表联合声明,双方一致同意以和平共处五项原则作为指导中印、中缅两国关系的基本原则。

材料三 1971年10月25日,在26届联合国大会上进行表决,当76票赞成、35票反对、17票弃权的结果出来时,会场上沸腾了。很多国家的代表欢呼、鼓掌、拥抱,向中国表示祝贺,有的非洲代表高兴得跳起舞来。

材料四 中国特色大国外交全面推进,形成全方位、多层次、立体化的外交布局。如今,中国已与世界上170多个国家建交、参加了100多个政府间国际组织的工作。中国成为维护和促进世界和平、稳定、发展的坚定力量,在国际事务中发挥着日益重要的作用。

——材料均摘自部编教材八年级下册

- (1) 根据材料一,写出新中国成立后奉行的外交政策。(2分)
- (2) 材料二中,和平共处五项原则的内容是什么?它对推动国际关系发展起了什么作用?(4分)
- (3) 材料三中描述的是哪一历史事件?概述这一历史事件发生的原因。(6分)
- (4) 根据材料四,指出当今中国特色大国外交呈现出怎样的布局特点,并归纳影响一个国家外交局面的因素。(6分)

18. **【答案】**(1) 独立自主的和平外交政策(2分)

(2) 互相尊重主权和领土完整,互不侵犯,互不干涉内政,平等互利,和平共处。(2分)它为实行不同社会制度的国家提供了交往和沟通的基础,有利于处理国与国之间的关系,能够推动世界的和平与发展;被世界上越来越多的国家接受,成为处理国与国之间关系的基本准则等。(答出上述任意一点得2分)

(3) 中国恢复在联合国的合法席位(2分)

原因:中国国际地位的逐渐提高;越来越多的国家认识到中国的重要作用;20世纪70年代,亚非拉发展中国家力量的增强;美国霸权地位相对衰落,无力阻挠中国恢复联合国合法席位等。(答出符合题意的任意一点得2分,共4分)

(4) 全方位、多层次、立体化的外交布局。(2分)国家的综合国力;国际形势的变化;外交家的智慧;国家外交政策等。(答出上述任意一点得2分)

【解析】本题考查新中国成立以来我国的外交。前两问答出和平共处五项原则的内容、作用即可。第(3)问要抓住材料中关键时间,从中国国内和国际背景分析中国恢复联合国合法席位的原因。第(4)问考查外交格局,分析可以从多个角度(如国家经济、国际形势、政策等)来考虑。

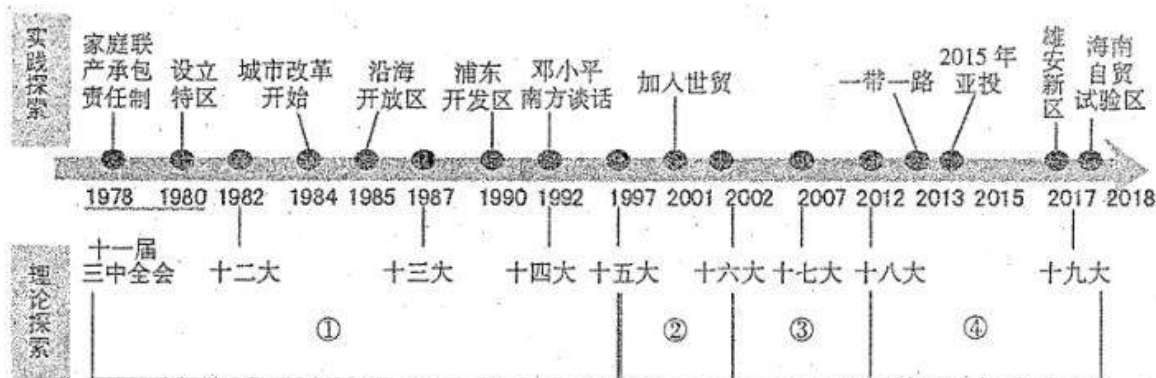
四、探究题(本大题共22分)

19.在改革开放的伟大实践和接力探索中,中国共产党领导开辟了中国特色社会主义道路,取得了一系列成就。请你完成以下探究任务。








任务一【制作时间轴图——探索特色道路】(12分)



(1) 马克思主义为中国革命、建设和改革提供了强大的思想武器, 分别写出①②③④处对应的马克思主义中国化所形成的理论成果。(8分)

(2) 邓小平南方谈话有何意义? 根据时间轴信息, 简述 1992 年前后我国在对外开放方面呈现出的特点。(4分)

任务二【感受阅兵盛况——扬我军雄姿】(6分)

	1949年10月1日开国大典时,解放军主要是陆军,兵种比较少。炮兵部队刚成立不久,主要是从国民党军队缴获的炮,以及土炮。甚至是用驴子拉着炮。	(3)2009年的大阅兵与1949年相比有哪些变化?(4分)
	2009年国庆60周年阅兵的导弹方队,包括地地常规导弹、地地中远程导弹、地空导弹、岸舰导弹、反舰导弹、洲际导弹、巡航导弹等。可以打击地面、空中、海上目标。	
	2016年,解放军成立五大战区,调整组建五大军种。国防和军队改革形成军委管总、战区主战、军种主建的新格局。2017年庆祝建军90周年朱日和阅兵。陆上、航空、海上、反恐维稳、战略打击等9个作战群按作战编组接受检阅。体现了强军兴军的新局面。	

任务三【关注身边现象——畅享科技生活】(4分)

(5) 请结合生活实际, 谈谈科技对生活的影响。





太原市轨道交通规划

19. 【答案】(1) ①邓小平理论(2分) ②“三个代表”思想(2分)

③科学发展观(2分) ④习近平新时代中国特色社会主义思想(2分)

(2) 邓小平南方谈话, 进一步解放了人们的思想; 推动改革开放和现代化建设进入新阶段; 对建设中国特色社会主义产生深远影响。打破了姓“资”姓“社”问题的困扰, 解放了思想; 改革开放的步伐更快了等。(任意一点得2分)

特点: 由引进西方资金、先进技术和管理经验到主动融入世界, 加强国际合作; (由引进来到走出去); 由全方位、多层次、宽领域的对外开放格局到以上海浦东为龙头带动全国走向世界等。(答出言之有理的任意一点得2分)

(3) 变化: 军种增多; 导弹部队从无到有, 实力强大; 军队科技含量提高; 军事实力提高等。(答出符合上述意思的任意一点2分, 共4分)

(4) 形成军委管总、战区主战、军种主建的新格局。(2分)

(5) 交通便利, 出行的方式多样化; 信息的传递简单便捷; 支付方式更为快捷等。(答出符合上述意思的任意一点2分, 共4分)

【解析】本题考查中国的社会主义道路探索。第(1)问主要考查对时间线和马克思主义中国化的理论成果的掌握。第(2)问考查南方谈话的意义, 结合1992年这个时间以及史实, 谈这一时期我国对外开放的特点。第(3)(4)问考查我国军队的变化。第(5)问提问科技对生活的影响, 注意从多个方面分析。

