



太原市 2017-2018 学年第二学期七年级期末考试

历史试卷

(考试时间: 下午 5: 00-6: 30)

说明: 本试卷为闭卷笔答, 做题时间 90 分钟, 满分 100 分。

题 号	一	二	三	四	总 分
得 分					

一、单项选择题 (每小题 2 分, 共 30 分)

题号	1	2	3	4	5	6	7	8	9	10	11	12	13	14	15
选项															

1. 下列中国古代朝代按时间先后顺序排列, 正确的是

- A. 隋唐——秦汉——宋元——明清
C. 宋元——隋唐——秦汉——明清

- B. 秦汉——隋唐——宋元——明清
D. 明清——宋元——秦汉——隋唐

【答案】B

【解析】

朝代歌: 夏商与西周; 东周分两段; 春秋和战国; 一统秦两汉; 三分魏蜀吴; 二晋前后沿; 南北朝并立; 隋唐五代传; 宋元明清后; 皇朝至此完。具体时间如下:

秦朝: 公元前 221 年~公元前 207 年 ; 汉朝: 公元前 202 年~公元 220 年 ; 隋朝: 公元 581 年~公元 619 年
唐朝: 公元 618 年~公元 907 年 ; 宋朝: 公元 960 年~公元 1279 年 ; 元朝: 公元 1271 年~公元 1368 年
明朝: 公元 1368 年~公元 1644 年 ; 清朝: 公元 1644 年~公元 1912 年

2. 随着城市的繁荣, 东京城内大街小巷店铺林立, 早市夜市买卖不绝, 还有热热闹闹的“瓦子”。下列能够为此提供历史依据的是

- A. 《清明上河图》
C. 《前门街市图》

- B. 《皇都积胜图》
D. 《盛世滋生图》

【答案】A

【解析】《清明上河图》为北宋画家张择端作, 为北宋风俗画, 记录了北宋都城汴京的城市风貌和各阶层人民的生活状况。《皇都积胜图》描绘的是中国明代北京城商业繁荣、贸易发达的景象。《前门街市图》画于清朝乾隆年间, 展现了乾隆皇帝南巡的宏伟场面。《盛世滋生图》是清代画家徐扬所作, 是一幅描绘苏州风物的巨制。

3. 七年级 (1) 班利用班会时间进行了一场诗词比赛, 其中有一道题目“特点: 豪放风格; 成就: 文学、书法等; 经典名句: 大江东去, 浪淘尽, 千古风流人物”。这位词人是

- A. 苏轼
C. 辛弃疾

- B. 李清照
D. 关汉卿

【答案】A

【解析】苏轼, 宋代词人, 是豪放派词人的代表。“大江东去, 浪淘尽, 千古风流人物”出自他的《念奴娇·赤壁怀古》。

4. 与下面《梦溪笔谈》中所描述的发明有关的历史人物是。





用胶泥刻字……火烧令坚……一板印刷，一板已自布字……更互用之，瞬息可就。

- A. 蔡伦 B. 毕昇 C. 王祯 D. 沈括

【答案】B

【解析】描述的是活字印刷术的泥活字。北宋时，毕昇发明活字印刷术。他将胶泥做成陶活字，用来排版印刷。与蔡伦有关的发明是造纸术。王祯是中国古代农学家，著成《农书》，发明转轮排字盘。沈括是《梦溪笔谈》的作者，在书中记载了印刷术。

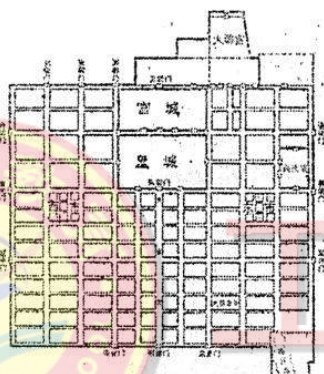
5. 《三字经》中有“元灭金，绝宋世。太祖兴，国大明。号洪武，都金陵。”其中“太祖”指的是

- A. 赵匡胤 B. 朱元璋 C. 努尔哈赤 D. 皇太极

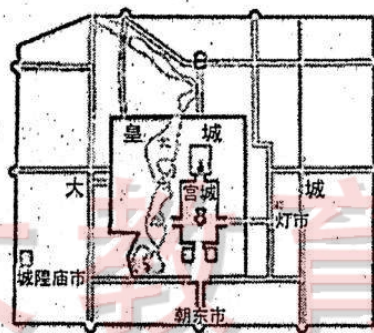
【答案】B

【解析】明朝由明太祖朱元璋建立，年号洪武。

6. 观察下面两幅图，与唐朝长安城比较，明朝北京城设计的最主要特点是



图一 唐朝长安城平面图



图二 明朝北京城平面图

- A. 城内有“市”，具有商业功能
B. 城内有宫城和皇城
C. 城有三重，宫城居于中心
D. 城为方形，街道正直

【答案】C

【解析】观察图片，两都城设计上都有“市”：西市、东市、灯市、城隍庙市等，“市”具有商业功能；两都城设计上都有“宫城和皇城”；两城都为方形，街道正直。两城在布局上呈现显著区别：与唐朝长安城比较，明朝北京城有三重，宫城居于中心。

7. 《元史·地理志》中记载：“元有天下，薄海内外，人迹所及，皆置驿传，使驿往来，如行国中。”这段话说明元朝

- A. 建立了遍布全国的驿站
B. 海上交通发达，海外贸易繁荣
C. 修建了覆盖全国的交通网
D. 与阿拉伯国家之间有大量商船往返

【答案】A

【解析】“元有天下，薄海内外，人迹所及，皆置驿传，使驿往来，如行国中。”意为：有人的地方，元朝就会设置驿站。这句话主要强调了元朝建立的驿站的范围之广。





8. 明朝时，科举考试的命题范围是

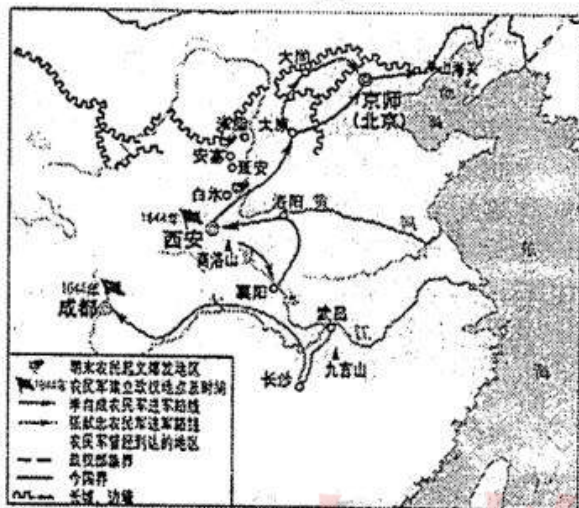
- A. 四书五经
C. 《资治通鉴》

- B. 唐诗宋词
D. 明清小说

【答案】A

【解析】明朝科举考试规定只从儒家的四书五经中命题，不许考生发挥个人见解，以达到严格控制士人思想的目的。

9. “左图右史”形象地说明了历史地图、图表、图示在历史学习中的重要性。右图反映的历史史实是



- A. 吴三桂引清军入关
B. 清军入关推翻明朝
C. 明末农民起义进军路线
D. 张献忠农民军推翻明朝

【答案】C

【解析】观察图中，主要体现了李自成农民军进军路线和张献忠农民军进军路线，即明末农民起义进军路线。D选项与事实不符，推翻明朝的是李自成农民军。

10. 康熙、雍正、乾隆统治时期，一方面社会安定、经济繁荣、国力强盛，另一方面却潜藏着巨大的危机。这里的“危机”主要表现在

- ①专制达到顶峰
②人地矛盾突出
③财政危机
④“人烟数十里，贾户数千家”

- A. ①②③
B. ②③④
C. ①③④
D. ①②④

【答案】A

【解析】“人烟数十里，贾户数千家”描绘的是清代商业都会汉口镇，是清朝经济繁荣的表现，不属于“危机”。

11. 山西的晋商起于清朝前期，他们拥有雄厚的商业资本，在全国进行商业活动。下列对晋商活动的描述，不正确的是

- A. 他们主要贩卖粮食、食盐、丝绸
B. 在全国各地开设“票号”，便于货币流通
C. 他们大都拥有自己的手工工场
D. 他们的活动对社会经济产生很大影响

【答案】C

【解析】A, B, D选项是晋商的特点和影响。中国的手工工场出现于明清时期，地点主要分布在中国南方地区。





12. 阅读下表，你能得出的结论是

年代	耕地面积(顷)
1661 年(顺治十八年)	5 493 576
1685 年(康熙二十四年)	6 078 430
1724 年(雍正二年)	6 837 914
1766 年(乾隆三十一年)	7 414 495

- A. 统治者重视农业生产，推行垦荒政策
- B. 1661 年到 1766 年广大劳动人民辛勤劳作
- C. 1661 年到 1766 年耕地面积大大增加
- D. 清朝前期统一多民族国家进一步巩固

【答案】C

【解析】从表中可得，从 1661 年到 1766 年，耕地面积呈不断增长的趋势，耕地面积大大扩大。A, B, D 选项均无法从题干中直接得出。

13. 明清时期，从国外引进并普遍推广种植了许多农作物，极大缓解了中国 18 世纪中叶——19 世纪中叶因人口大幅度增长而带来巨大粮食压力的作物有

- ①玉米 ②马铃薯 ③水稻 ④甘薯
- A. ①②③ B. ①②④
- C. ①③④ D. ②③④

【答案】B

【解析】水稻不是从国外引进的，我国是世界上最早种植水稻的国家。

14. 下列作者与作品的对应关系，正确的是

- ①李时珍——《本草纲目》 ②徐光启——《农政全书》
- ③施耐庵——《西游记》 ④吴承恩——《水浒传》
- A. ①② B. ③④ C. ①② D. ②③④

【答案】A

【解析】施耐庵的代表作是《水浒传》，吴承恩的代表作是《西游记》。

15. 山西是中国戏曲的摇篮。20 世纪 50 年代，在山西发现了种类繁多、古朴精美的宋、辽、金戏曲文物，有戏台遗迹、戏剧壁画、出土珍品等，中华民族的艺术瑰宝——元杂剧也发源并成熟于山西，成为元曲的重要组成部分。明清时期还形成了具有地方特色的“四大梆子戏”，即北路梆子、晋剧、上党梆子、蒲剧。下列对这段材料的理解有误的是

- A. 丰富的戏曲文物，说明了山西是中国戏曲的摇篮
- B. 元杂剧作为元曲的重要组成部分，发源并成熟于山西
- C. 具有地方特色的“四大梆子戏”形成于明清时期
- D. 山西“四大梆子戏”是在元杂剧的基础上形成的

【答案】D

【解析】材料中未能体现“山西‘四大梆子戏’的形成基础是元杂剧”，且这一说法与史实不符。

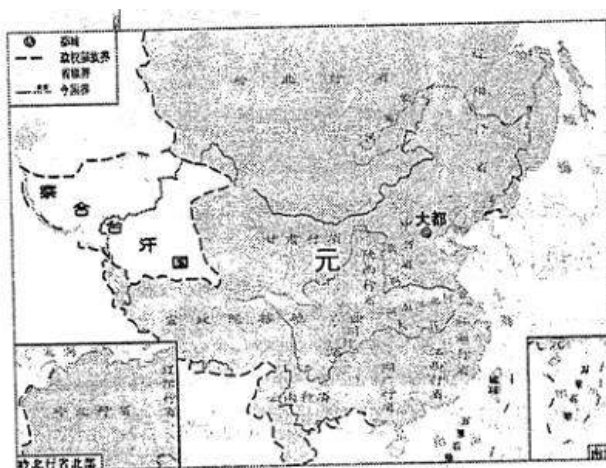
二、简答题（本题共 14 分）

16. 我国历代政府都非常重视民族团结和注重对边疆地区的有效管辖。观察元、明、清三朝的疆域图，回答下面问





题。



图一 元朝疆域图 (1330 年)



图二 明朝疆域图 (1433 年)



图三 清朝疆域图 (1820 年)

- (1) 图一、图三中元朝和清朝政府为了加强对西藏地区的管辖，分别采取了什么措施？（4分）
- (2) 图二中时台湾，在明朝后期被哪国侵占？到了图三清朝统治期间，台湾的回归经历了怎样的过程？（6分）
- (3) 观察图三中我国东北和西北地区的边界线，分别列举清朝为了巩固这两个边疆地区的安全所做出的重大斗争。（4分）

16. 【答案与解析】

(1) 元朝：设宣政院（2分）清朝：顺治帝赐予五世达赖“达赖喇嘛”的封号；康熙帝册封五世班禅“班禅额尔德尼”的封号；雍正时，设置驻藏大臣；颁布《钦定藏内善后章程》，规范西藏地方行政体制和法规。（答出其中任意两点可得2分）

(2) 荷兰（2分）1662年，郑成功从荷兰手中收复台湾；（2分）康熙时，设台湾府，隶属于福建省管辖。（2分）

(3) 西北地区：康熙帝平定准噶尔部叛乱；乾隆帝平定大小和卓叛乱，设置伊犁将军等，加强对西北的管辖。（答出任意一点2分）东北地区：康熙时期，组织两次雅克萨之战，打败沙俄；并签订中俄《尼布楚条约》，划定了两国东段边界。（答出任意一点得2分）

三、材料解析题（本题共两小题，17题16分，18题18分，共34分）

17. 从古丝绸之路到现今的“一带一路”，中国对外交流日益深入和扩大。阅读下列材料，结合所学知识，回答问题。

材料一 宋元时期，在工商业发达的基础上，海外贸易有所发展，由于当时西夏、辽、金、蒙古与宋对峙，宋军费支出浩大、不能不谋求广开财源，注目于发展海外贸易。南宋偏安江南之后，中西陆路交通几乎断绝，海外交通空





前发达。

——摘自《中外文化交流史》

材料二 明朝前期，社会安客、国力雄厚。从 1405 年到 1433 年，郑和率船队七次下西洋，先后到过亚、非 30 多个国家，最远到达红海沿岸和非洲东海岸。

材料三 清朝……开放四个港口，作为对外通商口岸；并对出口的商品种类和出海船只的载重量做出严格的限制。（后）下令只开广州一处作为对外通商口岸，关闭了其他港口。

——材料二、三摘编自部编教材七年级下册

材料四 古丝绸之路绵亘万里，延续千年，积淀了以和平合作、开放包容、互学互鉴、互利互赢为核心的丝路精神，这是人类文明的宝贵遗产。

——习近平在“一带一路”国际合作高峰论坛开幕式上的演讲

- (1) 根据材料一，指出宋元时期海外贸易和海外交通发展的原因。（2 分）
- (2) 根据材料二概括郑和能够实现远航的条件有哪些，并简述郑和下西洋的积极意义。（4 分）
- (3) 材料三中清朝的对外政策给中国社会带来了哪些影响？（4 分）
- (4) 材料四中丝路精神的核心是什么？请你概括影响国家对外交往的因素。（6 分）

17. 【答案与解析】

(1) 工商业发达；军费支出巨大，谋求广开财源；中西陆路交通断绝；政府重视、政策的侧重。

评分说明：答出符合题意的一点即可得 2 分。

(2) 条件：社会安定，国力雄厚；造船、航海技术进步；统治者的支持。（答出任意两点得 2 分）

积极意义：郑和下西洋是世界航海史上的创举，增进了中国和亚非国家和地区的相互了解和友好往来，开创了西太平洋和印度洋之间的亚非海上交通线，为人类的航海事业作出了巨大贡献。（2 分）

(3) 影响：一定程度上遏制了西方殖民者的侵略活动；导致国家的闭塞，使中国错失了向西方学习生产技术和科学知识的机会，使中国脱离世界发展潮流，在世界发展进程中逐渐落后。（从积极和消极两方面回答，一点 2 分，共 4 分）

(4) 核心：和平合作、开放包容、互学互鉴、互利互赢。（2 分）

国家的综合国力；发达的交通路线；杰出历史人物的贡献；政府的政策；国家利益等。（答出符合上述意思的任意一点得 2 分，共 4 分）

18. 明清时期是我国古代君主专制中央集权不断强化的时期。阅读下列材料，结合所学知识，回答问题。

材料一 经过春秋战国时期的诸侯争霸，到秦朝统一多民族国家的形成，以皇权为中心的中央集权制度建立起来。历经汉魏至明清，皇帝与宰相之间的权势此消彼长，中央与地方争权斗争接连不断，最终皇权不断强化，中央集权逐渐得到巩固。中央集权制度作为古代中国政治制度的突出特色，对中国历史产生了深远影响。中国统一多民族国家的形成与发展，官僚政治与行政管理以至文化教育传统，无不与此有着密切的关系。

——高中历史教材必修 1

材料二 （军机大臣）只供传述缮撰，而不能稍有赞画于其间也。

——赵翼《檐曝杂记》卷一

材料三 “明月有情还顾我，清风无意不留人。”雍正皇帝时的一位进士因写了这两句诗而被斩首。大臣胡中藻写的诗中有“一把心肠论浊清”之句，乾隆帝看了竟说“加‘浊’字于国号‘清’之上，是何居心？”胡中藻被杀，友人也受到牵连。

——摘编自部编教材七年级下册

- (1) 材料一中皇权与相权之争结束于何时？列举这一时期为强化皇权采取的措施。（6 分）
- (2) 根据材料二，简述军机处的职能及其作用。（4 分）
- (3) 材料三反映了清朝统治者在思想上实行了怎样的举措？这一举措对思想和文化造成什么样的后果？（6 分）
- (4) 综上所述，概括明清时期加强君主专制中央集权表现出的特点。（2 分）





18. 【答案与解析】

(1) 明朝(2分)措施: 在地方, 取消行中书省, 设立“三司”; 为监视官民, 朱元璋设立锦衣卫, 明成祖成立东厂, 合称“厂卫特务机构”; 实行八股取士等。(答出任意一点得2分, 共4分)

(2) 职能: 跪受笔录, 传达旨意。(2分)

作用: 强化君权; 有利君主专制; 便于皇帝独断朝政, 使皇帝具有至高无上的权威, 一切都要服从皇帝的意志, 从而使君权进一步强化。(答出任意一点得2分)

(3) 大兴“文字狱”(2分) 思想上, 禁锢了人们的思想言论, 严重阻碍了思想、学术的发展和进步;(2分) 文化上, 对全国书籍进行全面检查, 把认为是对统治不利的书籍列为禁书并收缴, 许多珍贵的书籍被查禁和销毁。(2分)

(4) 政府机构的改革与思想控制的加强相结合。


评分说明: 答出符合上述意思的一点得2分。

四、探究题(本题共22分)


19. 一个民族的文化, 是民族赖以生存的支柱和灵魂。下面是张老师围绕“宋元——明清”时期的科技文化成就设计的自主学习任务单。请你完成相关学习任务。

任务一【识图学史——对比史事】(10分)

(1) 分别写出图一、图二作品的作者及该作品在中国文学史上的地位。(6分)

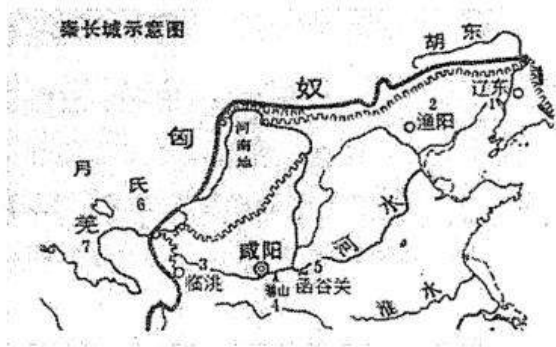


图一



图二

(2) 观察图三、图四, 比较秦长城和明长城的相同和不同之处。(4分)



图三



图四

任务二【材料研读——解释现象】(8分)





材料一 17世纪英国著名的哲学家培根在他的著作《新工具》中写道：“举世皆知的印刷术、火药和磁石，人类的世界因为这三种发明而为之改观。首先在学术上，其次在战争中，最后是在航行方面，而因此又引出了不计其数的变化。由此，人类的文明也得到了极大的发展。”

(3) 材料一中的作者对中国的三大发明进行了高度评价，分别简述这三大发明对世界文明的发展作出的重要贡献。(6分)

材料二 宋应星在《天工开物》的序言中说：“卷分前后，乃‘贵五谷而贱金玉’之义。”

(4) 材料二中的著作被誉为“中国17世纪的工艺百科全书”。作者在这部书中把谷物类放在前面，而把朱玉类置于最后，这说明了什么？(2分)

任务三【漫画节日——陈述观点】(4分)

伴随着中西文化交流的日益深入，我们今天不但过着传统节日，还流行过“洋节”。针对这种现象，有人大声疾呼，防止传统节日被“洋节”取代。

(5) 请你写出两个宋代就有的中国传统节日以及你知道的两个“洋节”。谈谈你对中国传统节日以及中国人过“洋节”的看法。

19. 【答案与解析】

(1) 罗贯中(1分)《三国演义》是我国章回体小说的开山之作，也是我国最为流行的长篇历史小说。(2分)曹雪芹(1分)地位：《红楼梦》的思想性强、艺术性高，在艺术上达到了极高的水平。(2分)

(2) 相同：都是古代军事防御工程；修建目的都是为了抵御北方游牧民族的侵扰；都长达万里；都是古代劳动人民智慧和创造力的结晶等。(答出符合题意的任意一点得2分)

不同：秦长城为了抵御匈奴的进攻；明长城为了防范蒙古骑兵(瓦剌和鞑靼)的侵扰。起止点不同：秦长城西起临洮，东到辽东；明长城东起辽东，西至嘉峪关；所用材质不同：秦长城夯土所筑，明长城主要是条石、青砖等。(答出符合题意的任意一点得2分)

(3) 活字印刷术的出现，降低了制书成本，加快了图书的普及和文化的传播；(2分)火药用于军事上，改变了作战方式，促使冷兵器向热兵器转变，加速了世界历史的发展进程；(2分)指南针应用于航海，大大促进了世界远洋航海技术的发展，为郑和下西洋和世界地理大发现提供了条件。(2分)

(4) 说明他有着浓厚的重农思想；或中国古代重农抑商的价值观使然等。(2分)

(5) 传统节日：春节、元宵节、中秋节、端午节等。“洋节”：圣诞节、感恩节、母亲节、愚人节等。(分别答出符合题意的两个节日可得2分)

对传统节日的看法：一个国家的传统节日有着悠久的历史和丰富的文化内涵，对一个民族的发展有着重大的意义；充分发掘传统节日的文化内涵，大力弘扬以爱国主义为核心的民族文化精神，对于构建社会主义和谐社会具有十分重要的意义；我们应大力弘扬优秀的传统文化，增强对自己民族传统文化的自我保护意识等。对中国人过“洋节”的看法：要选择性地接受外来文化，取其精华，弃其糟粕；外来文化也有值得我们学习和借鉴之处等。

评分说明：观点正确，答出符合题意的任意一点得2分。

