



2018~2019 学年第一学期八年级阶段性测评

地理试卷

(考试时间:上午 10:00—11:30)

说明:本试卷为闭卷笔答,答题时间 90 分钟,满分 100 分。

题号	一	二					总分
		16	17	18	19	20	
得分							

一、选择题(本题共 15 小题,每小题 2 分,共 30 分。下列各题的选项中,只有一项符合题意,请将正确选项的序号填入下表相应位置。)

题号	1	2	3	4	5	6	7	8	9	10	11	12	13	14	15
答案															

我国是世界上跨纬度和经度最广的国家之一,右图为“我国四至点示意图”。据此完成 1~3 题。



1. 关于我国位于地球上五带的位置,叙述正确的是

- A. 大部分位于热带,小部分位于北温带
- B. 大部分位于北温带,小部分位于热带
- C. 全部位于北温带和北寒带,没有热带
- D. 从南至北依次为热带、北温带、北寒带

2. 我国领土东西两端经度相差约 62° ,时差约 4 个小时。造成这一地理现象的原因是

- A. 地球自转
- B. 天气变化
- C. 地球公转
- D. 环境污染

3. 我国所辖海域面积最大的省区是

- A. 福建省
- B. 广东省
- C. 台湾省
- D. 海南省

4. 华夏文明,源远流长,典故中蕴藏着丰富的地理知识。下列叙述正确的是

- A. “黔驴技穷”中的“黔”是四川省简称
- B. “蜀犬吠日”中的“蜀”是重庆市简称
- C. “秦晋之好”中的“秦”和“晋”分别是陕西省、山西省简称
- D. “朝秦暮楚”中的“秦”和“楚”分别是陕西省、山东省简称

5. 泼水节是某少数民族的节日,每年 4 月中旬举行,节日期间,人们先沐浴礼佛,然后与宾客泼水嬉戏,意在消灾祛病。该少数民族是

- A. 傣族
- B. 蒙古族
- C. 壮族
- D. 朝鲜族

6. 位于我国地势第一级阶梯,号称“世界屋脊”的高原是

- A. 云贵高原
- B. 黄土高原
- C. 内蒙古高原
- D. 青藏高原

7. 我国四大盆地中,既位于秦岭以南又属于亚热带季风气候的是

- A. 塔里木盆地
- B. 准噶尔盆地
- C. 柴达木盆地
- D. 四川盆地

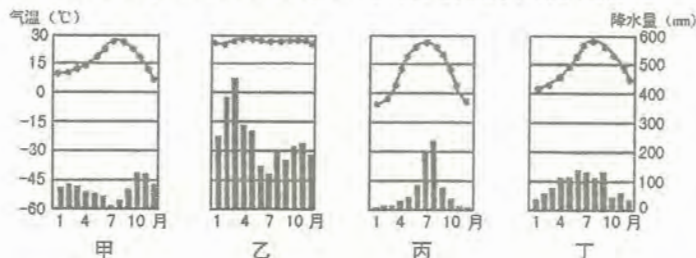




8. 青藏高原成为我国夏季平均气温最低的地区, 主要影响因素是

- A. 纬度位置 B. 海陆分布 C. 地形地势 D. 寒流侵入

下图为“气温曲线、降水柱状示意图”。据此完成 9、10 题。



9. 甲、乙、丙、丁四幅图, 表示热带气候类型的是

- A. 甲 B. 乙 C. 丙 D. 丁

10. 甲、乙、丙、丁四幅图, 与太原气候类型最相符的是

- A. 甲 B. 乙 C. 丙 D. 丁

秦岭—淮河一线是我国东部地区南、北方重要的地理分界线, 此线两侧, 无论是自然条件、生产方式、还是民俗风情, 都有明显差异。据此完成 11、12 题。

11. 此线南、北两侧的温度带分别是

- A. 热带和亚热带 B. 亚热带和暖温带
C. 暖温带和中温带 D. 中温带和寒温带

12. 与此线大致吻合的等降水量线是

- A. 200mm B. 400mm C. 800mm D. 1600mm

13. 塔里木河是我国流程最长的内流河, 其水源主要来自

- A. 大气降水和山地降水 B. 大气降水和地下水
C. 冰雪融水和山地降水 D. 冰雪融水和地下水

14. 黄河下游形成“地上河”, 其泥沙主要来自

- A. 上游 B. 中游 C. 下游 D. 入海口

15. 我国结冰期最长的河流是

- A. 长江 B. 黄河 C. 珠江 D. 黑龙江

二、非选择题(本题共 5 小题, 共 70 分。)

16. (10 分) 读“中国省级行政区域示意图”, 完成下列要求。





(1) 写出图中字母所代表的地理事物的名称。(3分)

海域: A _____ B _____ 海峡: C _____

(2) 我国地域辽阔, 陆地面积约 _____ 平方千米, 接近整个欧洲的面积, 仅次于俄罗斯和加拿大, 居世界第三位。(1分)

(3) 按要求完成表格内容。(6分)

省区	特征	名称	简称	行政中心
甲	一天中最早迎来日出			哈尔滨
乙	面积最大的省区		新	
丙	少数民族种类最多	云南省		

17. (15分) 读“中国地形分布示意图”和“山西省地形分布示意图”, 完成下列要求。



(1) 在左图中用阴影表示山西省的范围。(1分)

(2) 写出左图中字母所代表的地形区的名称。(3分)

山脉: A _____ 平原: B _____ 高原: C _____

(3) 山西省位于我国地势三级阶梯的第 _____ 级, 其东部的太行山脉是二、三级阶梯分界线, 此山脉西侧为 _____ 高原, 东侧为 _____ 平原。(3分)

(4) 说出山西省的地势特征。(2分)

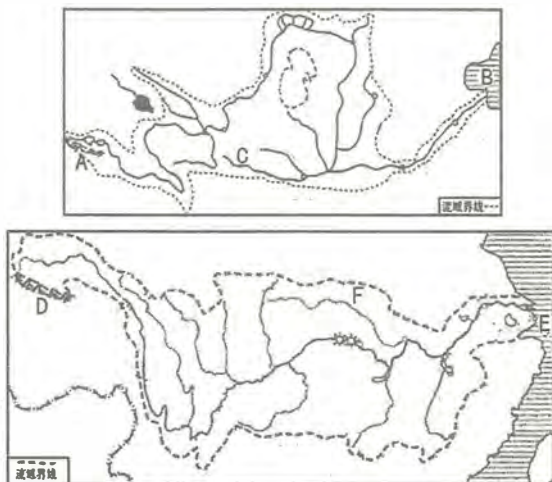
(5) 我国山区面积广大, 山区常见的地质灾害有哪些?(2分)

(6) 说出我国地形的主要特征及其对生产生活的有利影响。(4分)





18. (15 分)读“黄河、长江流域示意图”,完成下列要求。



(1)在图中用 2B 铅笔或碳素笔分别描出黄河、长江的干流。(2 分)

(2)写出图中字母所代表的地理事物的名称。(4 分)

发源地(山脉):A 巴颜喀拉山 注入海洋:B 渤海 支流:C 汾河

发源地(山脉):D 唐古拉山 注入海洋:E 东海 支流:F 嘉陵江

(3)长江是我国第一大河,黄河是第二长河,它们都发源于青藏高原,上游均穿行于高山峡谷之中,落差大,水流急,水能资源十分丰富。(2 分)

(4)说出长江被誉为“黄金水道”的理由。(3 分)

凌汛,俗称冰排,是冰凌对水流产生阻力而引起的江河水位明显上涨的水文现象。冰凌有时可以聚集成冰塞或冰坝,造成水位大幅度地抬高,最终漫滩或决堤,称为凌洪。在冬季的封河期和春季的开河期都有可能发生凌汛。中国北方的大河,如黄河、黑龙江、松花江,容易发生凌汛。

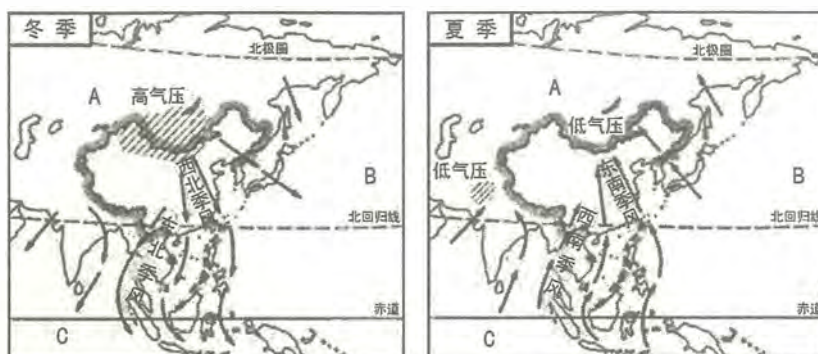
(5)探究:黄河凌汛易发生的时间,并在图中圈出易发生凌汛的河段。(4 分)





19. (15分) 阅读图文资料, 完成下列要求。

材料一 “影响我国冬、夏季风示意图”



材料二 台风“山竹”为2018年太平洋台风季第22个被命名的风暴。“山竹”一名由泰国提供, 是一种水果。9月7日20时, 台风“山竹”在西北太平洋洋面上生成, 截至9月18日17时, 已造成广东、广西、海南、湖南、贵州5省区的各项损失约52亿元。

(1) 写出图中字母所代表的地理事物的名称。(3分)

大洲: A _____ 大洋: B _____ C _____

(2) 影响我国的季风包括冬季风和夏季风, 冬季盛行偏北风, 分为西北季风和 _____ 季风; 夏季盛行偏南风, 分为 _____ 季风和西南季风。(2分)

(3) 台风“山竹”发源于 _____ 洋面, 主要影响我国东南沿海地区, 此次造成经济损失比较严重的有广东、 _____ 、海南、 _____ 、贵州5省区。(3分)

(4) 说出我国气候的主要特征。(2分)

(5) 说出影响我国气候的主要因素。(3分)

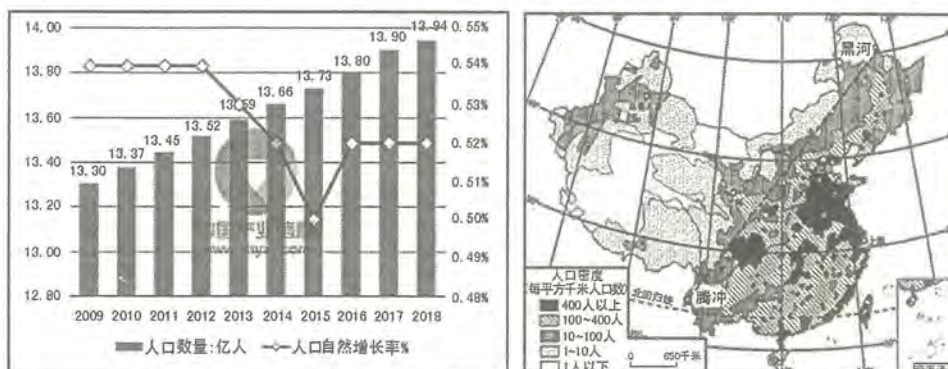
(6) 探究: 台风给人们生产生活带来的影响。(2分)





20. (15 分) 阅读图文资料, 完成下列要求。

材料一 “近十年中国人口数量及人口自然增长率图”和“中国人口分布示意图”



材料二 根据最新数据显示, 2017 年中国人口总数为 13.9008 亿, 人口自然增长率为 0.52%。2015 年 10 月, 中国共产党第十八届中央委员会第五次全体会议公报指出: 坚持计划生育基本国策, 积极开展应对人口老龄化行动, 实施全面二孩政策。预计到 2020 年, 全国总人口在 14.2 亿左右, 年均自然增长率在 0.6% 左右。

(1) 2009 年至 2018 年的近十年来, 我国人口数量呈缓慢_____的趋势; 人口自然增长率大致呈稳定—_____—上升—_____的趋势, 其中自然增长率最低的年份是_____年。(4 分)

(2) 我国是世界上人口最_____的国家, 根据人口分布状况, 大致以黑龙江省的_____至云南省的_____一线作为重要的人口地理分界线。(3 分)

(3) 我国是个团结统一的多民族国家, 每年 7、8 月某少数民族举行传统的“那达慕”大会, 进行摔跤、射箭和赛马比赛庆祝丰收。该少数民族是_____族。(1 分)

(4) 2015 年至 2016 年, 人口自然增长率呈上升趋势的原因可能是 () (2 分)

- A. 彻底放开人口生育政策
- B. 实施全面二孩政策
- C. 国外迁入新生儿增多
- D. 生活水平迅速提高

(5) 我国实施全面二孩政策积极应对的主要问题是什么? (1 分)

(6) 归纳我国人口分布特点, 并简析其形成原因。(4 分)



摔跤

