



太原市 2018~2019 学年第一学期七年级期末考试

信息技术试卷

(考试时间:下午 4:15——5:15)

说明:本试卷为闭卷笔答,答题时间 60 分钟,满分 100 分。

题 号	一	二	三	四	总 分
得 分					

一、单项选择题(本题共 20 小题,每小题 2 分,共 40 分)将正确选项前的字母填在下表相应位置。

题 号	1	2	3	4	5	6	7	8	9	10	11	12	13	14	15	16	17	18	19	20
答 案																				

2018 年 11 月 5 日,世界上首个以进口为主题的大型国家级展会——中国国际进口博览会在国家会展中心(上海)正式启幕。本次展会旨在坚定支持贸易自由化和经济全球化,主动向世界开放市场。吸引了 58 个“一带一路”沿线国家 1000 多家企业参展,将成为共建“一带一路”的又一重要支撑。

- 2018 年 11 月 5 日,很多人通过电视或网络直播观看了进博会开幕式,这主要体现了信息的
A. 真伪性 B. 多样性 C. 共享性 D. 相对性
- 进博会期间,电信部门提供全馆免费无线网络,最高可以满足 50 万人同时使用手机上网,上网速度最高可以达到 60 兆/秒。首次投入使用的“会呼吸的网络”,能够根据场馆内的实时人流和使用情况进行智能调节,与展会潮汐式的人流特点相吻合,这主要体现的信息技术应用是
A. 智能定位 B. 云计算 C. 3D 打印 D. 虚拟现实
- 进博会吸引了全世界极大的关注,各种类型的企业及产品让人应接不暇。小阳在参观期间,把看到的最新产品通过微信发给了自己的朋友,这体现了因特网的
A. 数据通信功能 B. 远程控制功能
C. 邮件管理功能 D. 网络购物功能
- 进博会期间,全部参会人员都需持证通行,发放近 60 万张人员通行证件和数万张车辆通行证件。如何确保大客流快速、安全地入场参会?分布在进博会场馆出入口的 100 多台“人员证件查验机”将在中国电信上海公司的助力下——在感应到人员靠近的数秒钟内,就会高速抓拍数十张照片,这属于信息处理过程中
A. 信息的加工 B. 信息的获取
C. 信息的处理 D. 信息的发布





“创客之家”社团本学期准备参加机器人比赛,在电脑上安装了相关软件后,程序运行速度非常慢,小玲和同学们决定对电脑进行升级。经过讨论,大家确定需要升级的硬件有硬盘、内存,升级的软件有电脑安全检测软件和杀毒软件等。

5. 小玲在浏览器的地址栏中输入 www.baidu.com 进行硬件相关信息的搜索,该网址是网站的

- A. IP 地址 B. 电子邮箱 C. 域名 D. 网络协议

6. 经过比较,大家决定将硬盘更换为希捷 Barracuda 1TB 7200 转的硬盘,这里 TB 是一个容量单位,1TB 等于

- A. 1024KB B. 1024MB C. 1024GB D. 1024B

7. 除升级硬盘外,为提高电脑运行速度将内存容量由 4GB 升级为 8GB。与硬盘相比,内存的特点是

- A. 容量小、存取速度快 B. 容量大、存取速度慢
C. 容量小、存取速度慢 D. 容量大、存取速度快

8. 在电脑升级完成之后,小玲为电脑安装了如下软件,其中能起安全防护作用的软件是

- A. 美图秀秀 B. Office2010 C. Photoshop D. 360 安全卫士

9. 升级电脑后,要定期对电脑进行维护。下列内容中属于电脑防护软件常用功能的是

- ①系统漏洞检测 ②病毒查杀 ③系统优化 ④垃圾清理
A. ①② B. ①②④ C. ①③④ D. ①②③④

为弘扬中华优秀传统文化,学校晋剧社团要组织一次汇报演出,为扩大宣传力度,需要制作一份海报。

10. 下列内容中,属于海报基本组成要素的是

- ①标题 ②正文 ③插图 ④落款 ⑤文字

- A. ①②③ B. ①③④⑤ C. ①②④ D. ③④⑤

11. 录入海报内容时,如果要输入中文标点中的顿号,为避免输成“\”,应选择的输入法状态是



12. 在 Word 中对海报进行编辑时,如果要增大一段文本行与行之间的距离,可进行的操作是

- A. “格式” | “段落” | “行距” B. “格式” | “字体” | “字符间距”
C. “格式” | “段落” | “间距” | “段后” D. “格式” | “段落” | “换行和分页”

13. 王鑫同学在 Word 中对页面进行编辑时,先插入了艺术字“晋剧之家”,然后插入了一个图片,发现艺术字被图片遮盖(如右图),要完整呈现艺术字,可以选中艺术字并将其设置为

- A. 紧密型 B. 置于底层
C. 四周型 D. 置于顶层





14. 在编辑海报时,如果想不打印就能看到打印后的效果,可以单击



15. 海报中有文本框、图片、艺术字等多个图形对象,在编辑时要保持他们相对位置不变,应对它们进行的操作是

A. 设为相同的版式

B. 组合

C. 对齐

D. 设为相同大小

2019年8月,第二届全国青年运动会将在龙城太原举办,本次运动会的会徽以汉字“山西”的书法形态为创作来源,运用灵动的线条,将跑道与泳道的形象特点与汉字融为一体,表达了运动拼搏的内涵,呈现出青春现代、充满活力的形象。小华从网上找到如右图的图片素材,需要用图像处理软件对其进行编辑处理后应用于文档中。



16. 下列软件中小华可以选择的图像处理软件是

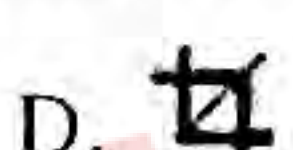
A. Photoshop

B. Excel


C. Flash

D. PowerPoint

17. 小华想去掉图片(见右上)中的文字,只留其中会徽部分,则可以选用的工具是



18. 在完成图片的裁剪后,小华想在图片的下面增加文字(如右图),则可以使用的工具是



19. 小华要对增加的文字设置发光或描边效果,应采用的操作是

A. 调整图层顺序

B. 设置图层属性

C. 删格化图层

D. 设置图层样式

20. 保存文件时,如果要保留图片每个图层的信息,便于以后进一步对图片进行处理,应保存的文件格式是

A. jpg

B. psd

C. doc

D. pdf

二、判断题(本题共 10 小题,每小题 2 分,共 20 分)将判断结果填在下表相应位置,正确的打“√”,错误的打“×”。

题号	21	22	23	24	25	26	27	28	29	30
答案										

21. 信息技术主要包括计算机技术、微电子技术、通信技术、传感技术等。

22. 信息技术发展历程中第二次重大变革的标志是计算机的发明和因特网的诞生。

23. 在 Word 中进行页面设置时,页面方向只能设置为纵向。





24. 在 Word 中插入的表格,不仅可以为其设置边框颜色,也可以设置底纹。
25. 在 Word 中为段落进行分栏时,只能分为两栏。
26. 在资源管理器中如果要选择多个连续的文件,可以选中第一个文件后,按住 Shift 键,然后单击最后一个文件。
27. 一部能上网的手机,其流量只能供这部手机使用,不能与别的手机或电脑共享。
28. 因为网络是一个虚拟的世界,因此我们可以随意发布或转发任何信息。
29. Photoshop 中的图层内容,我们可以根据需要进行显示或隐藏。
30. 用 Photoshop 调整图像的色彩、色调,可以对色彩失衡或曝光过度的照片进行校正。

三、连线题(本题共 3 小题,每小题 5 分,共 15 分)

31. 将下列软硬件与其所属类别或名称连线

内存

输出设备

打印机

存储器

键盘

输入设备

Windows 7

中央处理器

CPU

操作系统

32. 将下列图标与对应名称连线



填充颜色



撤销



保存



艺术字



文字环绕

33. 将下列软件与对应的功能连线

腾讯视频

办公软件

WinRAR

视频播放

微信

网上浏览

WPS Office

即时通信

Internet Explorer

文件压缩与解压缩





四、实践与探究(本题共 4 小题,共 25 分)

为响应市委市政府“举全市之力,创文明城市”的号召,学校要求各班围绕“创建文明校园”这一主题组织活动。七年一班开展了“创城,从我做起”的电子报制作活动。

34.(4 分)王恺等四人组成小组,经讨论并确定分工,制作任务分工表如下:

作品名称	创城,从我做起	小组长	王恺
小组成员	刘芳 王亮 宁皓轩 王恺		
任务序号	任务内容	负责人	备注
1	文本内容的收集	刘芳	
2	拍照及图片收集	王亮	
3	文本与图片内容的处理	宁皓轩	
4	电子报的设计制作	王恺	

上表中如何进行编辑才能更美观?(写出两项编辑内容)



工大教育

——做最感动客户的专业教育组织

35.(6 分)刘芳从网上找到了一些文本资料,要将其保存在优盘中,应如何进行操作?






36. (6分) 宁皓轩同学想对王亮收集的图片(见下图)进行处理, 请你帮他找出一处需要处理的内容, 并简要说明应使用的工具及进行图像处理的方法。



37. (9分) 王恺在 Word 中设计了电子报版面的部分内容(见右下角)。

(1) 你认为图中标题文字“做文明学生”是如何制作的? (1分)

(2) 以最左侧的文本内容为例, 说明如何将文本内容放置到图形中, 并将其倾斜使它与图形匹配。(4分)



工大教育

——做最感动客户的专业教育组织

(3) 这个作品的优点是什么? 找出作品存在的问题并提出改进建议? (4分)





太原市 2018~2019 学年第一学期七年级期末考试

信息技术参考答案与评分标准

一、单项选择题(本题共 20 小题,每小题 2 分,共 40 分)

题号	1	2	3	4	5	6	7	8	9	10	11	12	13	14	15	16	17	18	19	20
答案	C	B	A	B	C	C	A	D	D	C	C	A	D	B	B	A	D	B	D	B

二、判断题(本题共 10 小题,每小题 2 分,共 20 分)

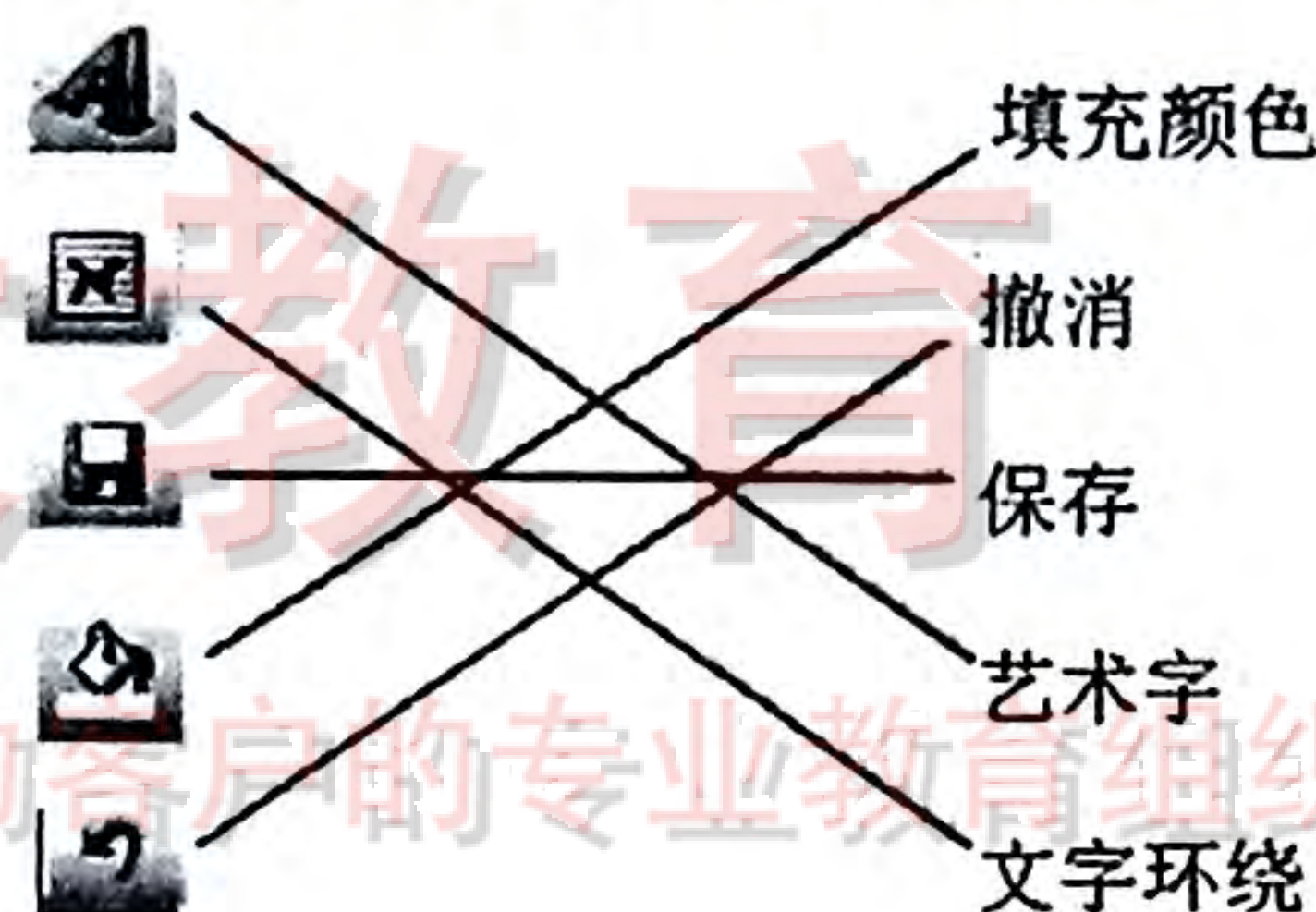
题号	21	22	23	24	25	26	27	28	29	30
答案	√	×	×	√	×	√	×	×	√	√

三、连线题(本题共 3 小题,每小题 5 分,共 15 分)

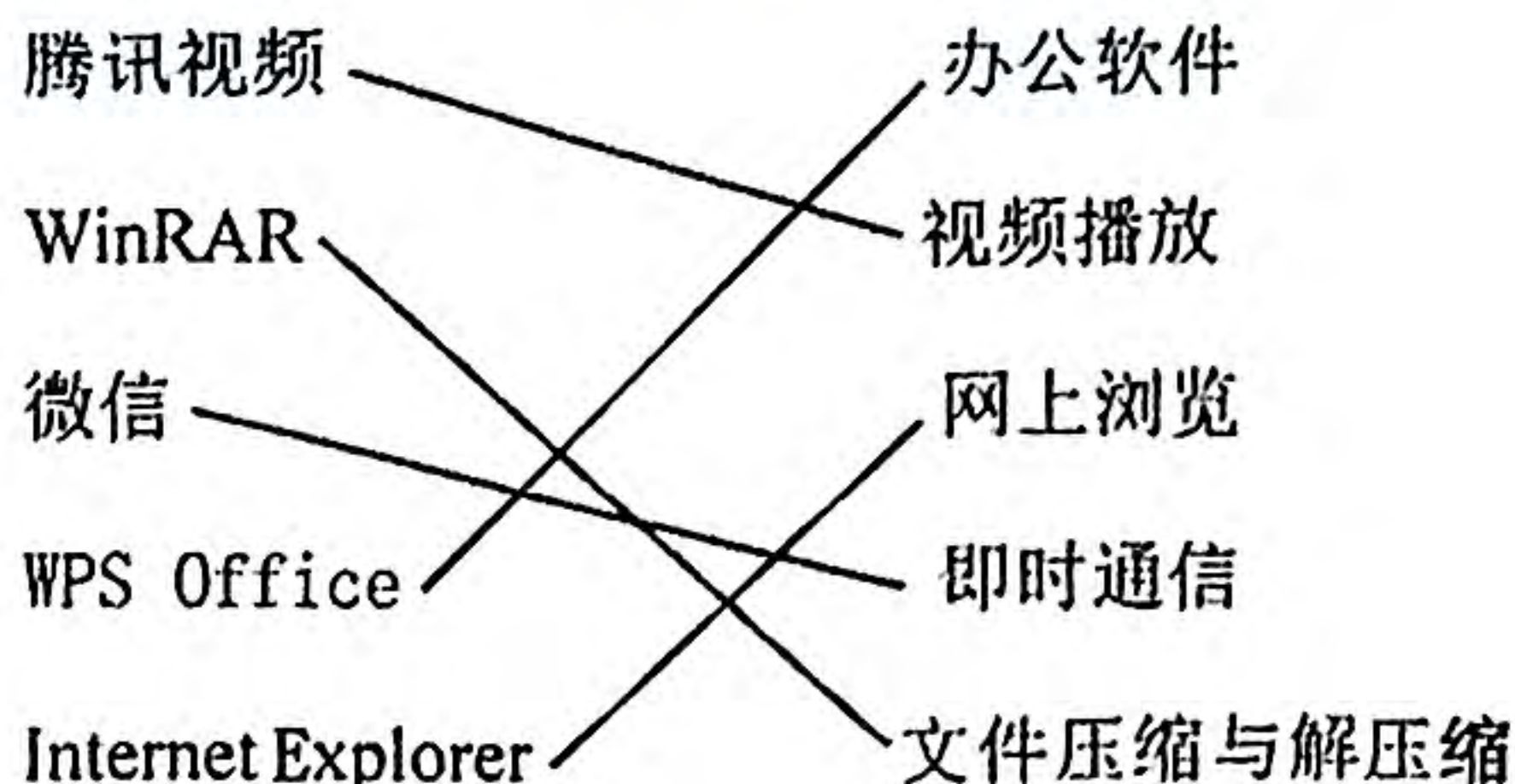
31. 将下列硬件与其所属类别或名称连线



32. 将下列图标与对应的名称连线



33. 将下列软件与对应的功能连线



四、实践与探究(本题共 4 小题,共 25 分)

34. (4 分)

写出两点编辑内容且言之有理即可,每点 2 分,共 4 分。如调整对齐方式、对较小的字增大字号、合并单元格等。

35. (6 分)





选中文本资料内容,单击鼠标右键,在弹出的快捷菜单中选择“复制”(2分);
启动文字处理软件(如 Word),利用“粘贴”命令粘贴到 Word 文档中(2分);
利用“保存”命令,给文件命名,保存到优盘中。(2分)

36.(6分)

(1)内容可以是去掉图片边缘处多余或不整洁的内容,或去掉图中的网址。(2分)

此项内容不一定单独列出,在后面的解答中有体现即可。

(2)使用工具为“裁剪工具”或“仿制图章工具”等。(2分)

(3)用“裁剪工具”选择图片中部,去掉左、右、下边部分,或用“仿制图章工具”,用网址周边的图像覆盖网址内容。(2分)

说明:此题具有开放性,答案有合理性即可。

37.(9分)


(1)通过插入艺术字制作(1分)。

(2)插入自选图形中的矩形,在矩形框中输入或复制文字内容(2分)。通过移动和旋转矩形框使文字内容与下面的图形位置匹配,取消矩形框边线(无线条颜色)(2分)。

说明:用文本框也可得分,高版本软件支持此功能。

(3)优点:图文并茂、主题明确、布局美观等,说明出一点且言之有理即可(2分)。

建议:标题艺术字位置调整到中间或对文字大小、版面等提出一点建议且言之有理即可(2分)。



工大教育

——做最感动客户的专业教育组织

