



太原市 2018~2019 学年第一学期八年级期末考试

历史试卷

(考试时间:上午 10:00——11:30)

说明:本试卷为闭卷笔答,答题时间 90 分钟,满分 100 分。

题号	一	二	三	四	总分
得分					

一、单项选择题(本大题共 15 个小题,每小题 2 分,共 30 分)

题号	1	2	3	4	5	6	7	8	9	10	11	12	13	14	15
选项															

1. 右图所示的建筑,位于上海兴业路 76 号(原望志路 106 号),是一幢沿街砖木结构住宅建筑,坐北朝南,是全国青少年爱国主义的教育基地。它见证了

A. 辛亥革命
B. 中国共产党的成立
C. 南昌起义
D. 工人运动的高涨



2. 孙中山说:“我们今天开这个学校,要用这个学校内学生做根本,成立革命军,诸位学生就是将来革命军的骨干。成立了革命军,我们的革命事业便可以成功。”这个学校是

A. 京师同文馆
B. 南洋公学
C. 京师大学堂
D. 黄埔军校

3. 1927 年 8 月 7 日,中共中央在汉口召开紧急会议,即“八七会议”,通过了土地革命和武装反抗国民党反动统治的总方针。毛泽东在会上提出了

A. 重点攻打大城市的决策
B. 把 8 月 1 日定为中国工农红军成立纪念日
C. 政权是由枪杆子中取得
D. 建议红军改向敌人力量薄弱的贵州前进

4. 1935 年,在毛泽东的领导下,红军声东击西,打乱了敌人追剿计划的行动是

A. 强渡乌江
B. 四渡赤水河
C. 飞夺泸定桥
D. 陕北会师

5. 某校将暑期“研学旅行”基地定在遵义,选定理由是遵义具备红色旅游特色,是革命老区。你认为下列能支撑这一理由的表述是

A. 星星之火,可以燎原
B. 开天辟地,焕然一新
C. 武装反抗,创建军队
D. 生死攸关,伟大转折

6. 有研究表明:中国十四年抗战直接伤亡人口在 4100 万以上,加上战时失踪、被俘等项数字,人口损失则超过 4500 万。材料中的“十四年抗战”开始于

A. 九一八事变
B. 华北事变
C. 一二·九运动
D. 七七事变

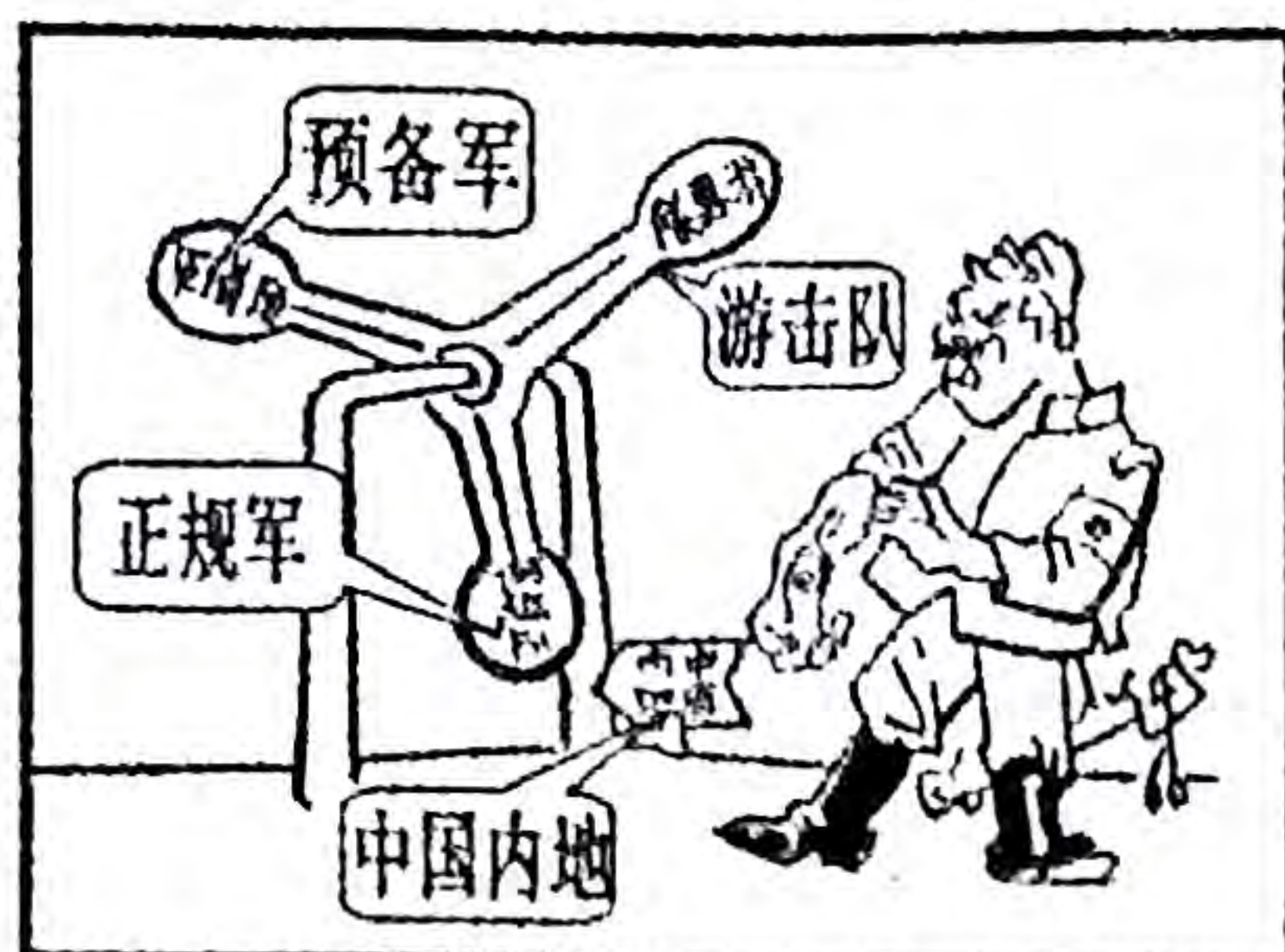
7. 抗日战争期间,抗日根据地内停止实行没收地主土地的政策,实行地主减租减息的土地政策,发展生产。这样做是为了

A. 打倒列强,除军阀
B. 巩固根据地,争取抗战胜利
C. 改善农民生活水平
D. 消灭地主阶级,建立统一战线





8. 历史漫画是历史信息直观形象的表达。下图所示是发表于 1939 年的漫画——《这一槌的滋味如何》。下列对它表达的历史信息解读正确的是

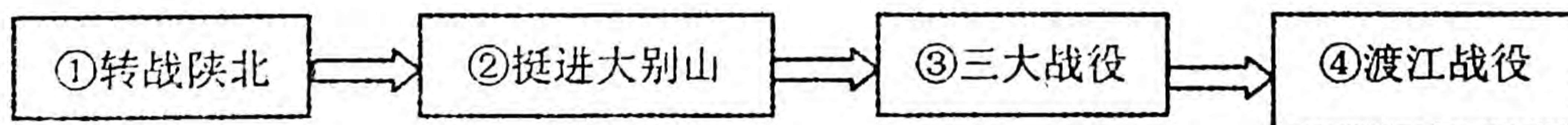


- A. 各种抗日力量配合沉重打击了日本侵略者
B. 正面战场的正规军是日本进攻的唯一目标
C. 日本侵略者从未侵入过中国内地
D. 日本对中国的侵略宣告彻底失败
9. 2014 年 2 月 27 日,十二届全国人大常委会第七次会议表决通过,设立了如下两个纪念日。

对“设立纪念日”理解正确的是

9 月 3 日 中国人民抗日战争胜利纪念日
12 月 13 日 南京大屠杀死难者国家公祭日

- ①铭记历史,勿忘国耻。以史为鉴,自立自强
②要通过国家立法的形式,把抗战的正义性、对死难英烈的纪念和缅怀永久性地固定下来
③告诉世界:必须维护和平、正义、良知,促进共同发展和时代进步
④国家足够强大后,走民族复仇之路
- A. ①②③ B. ①②④ C. ②③④ D. ①③④
10. 大会制定了党的政治路线:放手发动群众,壮大人民力量,在中国共产党的领导下,打败日本侵略者,解放全国人民,建立一个新民主主义的中国。这次大会是
- A. 中共“一大” B. 中共“二大” C. 中共“七大” D. 中共七届二中全会
11. 解放战争时期,在中国共产党的争取下,国民党军队接受和平改编获得解放的地区是
- A. 徐州 B. 北平 C. 南京 D. 天津
12. 下面示意图呈现了解放战争时期的重大战役,与战役序号对应关系正确的是



- A. ①——全面内战爆发 B. ②——粉碎了国民党的重点进攻
C. ③——揭开战略进攻序幕 D. ④——国民党在大陆的统治结束
13. 阅读 1913~1920 年中国民族工业发展情况简表。出现表中数据变化的主要原因有

年份	厂家	资本	工人
1913 年	689 家	33 亿元	27 万多人
1920 年	1795 家	50 亿元	55 万多人

- ①外商企业的资金和技术支持 ②清政府放宽民间办厂的限制 ③西方列强暂时放松经济侵略 ④中国民族资产阶级掀起“实业救国”热潮
- A. ①② B. ②③ C. ③④ D. ①④





14. 下列各项对应关系正确的是

- A. 商务印书馆——出版发行进步书刊的重要阵地
- B. 《狂人日记》——是一篇讨伐帝国主义的檄文
- C. 《定军山》——中国拍摄的第一部有声电影
- D. 《申报》——近代中国存在时间最长的中文报纸

15. 历史事实是对历史的客观叙述,历史观点是对历史事实的评述与看法。下列属于历史观点的是

- A. 19 世纪 70 年代后,西方发明的火车、飞机等新式交通工具相继传入中国
- B. 20 世纪 30 年代在抗日救亡的高潮中,聂耳谱写了《义勇军进行曲》
- C. 近代民族工业发展缓慢的根源是半殖民地半封建的社会性质
- D. 1905 年,清政府谕令一律停止科举考试,实行近代新式教育

二、简答题(本题共 16 分)

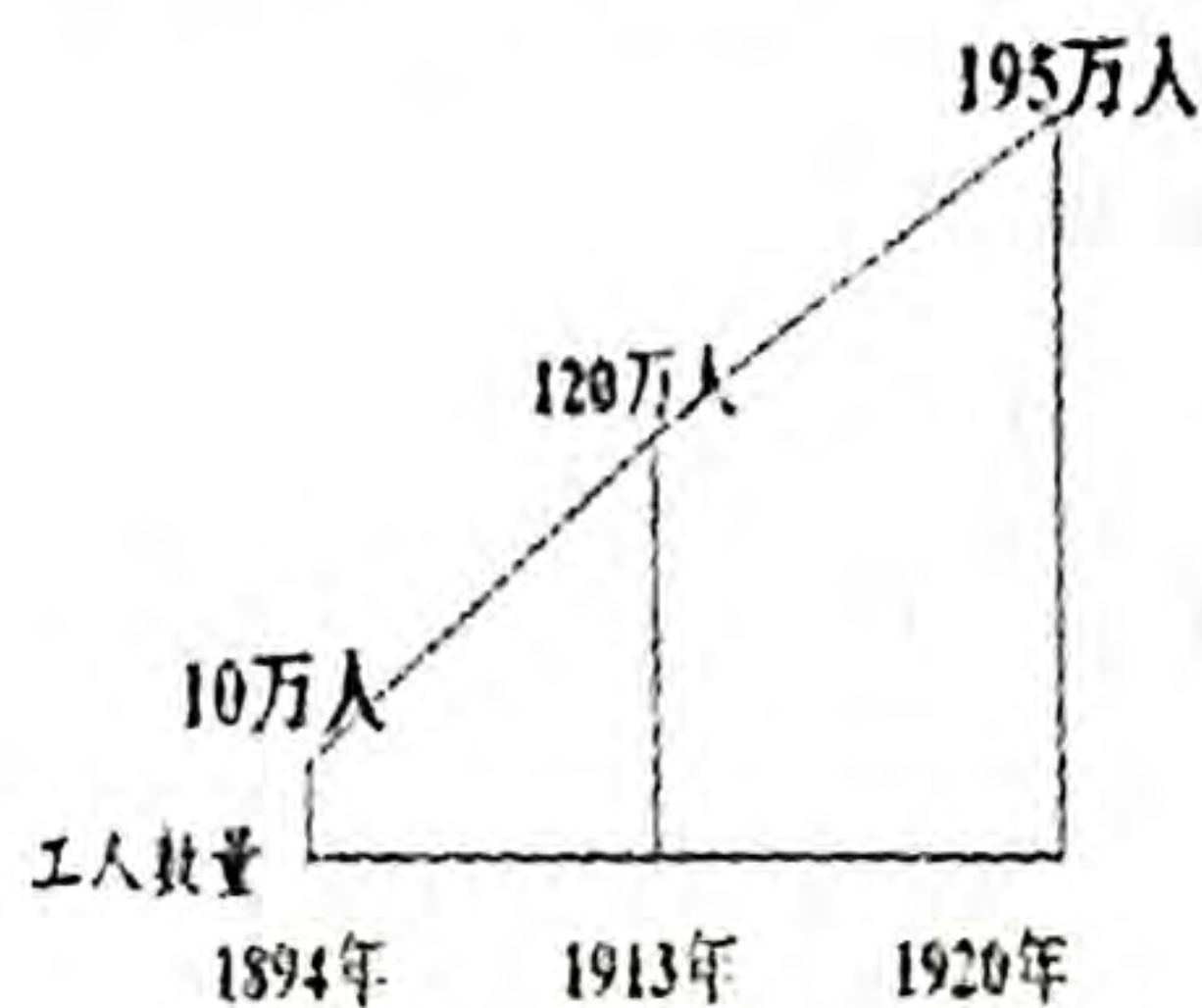
16. 自从有了中国共产党,中国革命的面貌就焕然一新了。根据下面图示信息,回答相关问题。



图一 《新青年》刊载李大钊的文章《我的马克思主义观》



图二 共产党早期组织创办的工人刊物



图三 工人数量变化折线图



图四 共产党早期组织分布示意图

(1) 图一文章的发表在当时发挥了什么作用?(2 分)

(2) 图二和图三反映的历史史实之间有何关系?(4 分)

(3) 综合上述图文信息,概括中国共产党成立的历史条件。(6 分)

(4) 中国共产党的成立使中国革命的面貌发生了怎样的变化?(4 分)





三、材料解析题(本题共 2 小题,17 题 16 分,18 题 16 分,共 32 分)

17. 大革命失败后,中国共产党从国情出发,探索出一条正确的革命道路。阅读下列材料,结合所学知识,回答问题。

材料一 大革命失败后,毛泽东说:中国共产党和中国人民并没有被吓倒、被征服、被杀绝。他们从地下爬起来,揩干净身上的血迹,掩埋好同伴的尸首,他们又继续战斗了。

1927 年 8 月 1 日,周恩来、贺龙等人领导革命军在南昌发动武装起义。

1927 年 9 月,毛泽东在湘赣边打出“工农革命军”的旗帜,进行秋收起义。

1928 年 4 月,朱德、陈毅率领部分军队与毛泽东的工农革命军在井冈山会师。两军会师后,合编为中国工农红军第四军。

1929 年 12 月,古田会议召开,确立了_____的建党建军原则。

1930 年,全国各地建立了大小十几块根据地。在各革命根据地内,有几百个县建立了人民政权。革命武装发展到十万人。

1931 年冬,中华苏维埃第一次全国代表大会在_____召开。会议宣布成立中华苏维埃共和国临时中央政府。

(1)列举材料一表格中能说明中国共产党在大革命失败后“又继续战斗”的两例史实,并简述其意义。(4 分)

(2)请把上表中横线部分的内容补充完整。(4 分)

材料二 虽有很好的工农群众,若没有相当力量的正式武装,便决然不能造成割据局面,更不能造成长期的和日益发展的割据局面。

——毛泽东《中国的红色政权为什么能够存在》

(3)材料二中,毛泽东认为怎样才能创造“工农武装割据”的局面?(4 分)

材料三 长征是历史纪录上的第一次,长征是宣言书,长征是宣传队,长征是播种机。……它向全世界宣告,红军是英雄好汉……它向十一省大约两万万人民宣布,只有红军的道路,才是解放他们的道路。……它撒播了许多种子,在十一个省内发芽、长叶、开花、结果,将来是会有收获的。

——毛泽东《论反对日本帝国主义的策略》

(4)根据材料三,概述红军长征的历史意义。(4 分)





1931~1945年,中国人民经过14年的抗战,终于取得了抗日战争的伟大胜利。阅读下列材料,结合所学知识,回答问题。

材料一 全中国同胞们!平津危急!华北危急!中华民族危急!只有全民族实行抗战,才是我们的出路!……我们要求全国人民,用全力援助神圣的抗日自卫战争!我们的口号是:武装保卫平津,保卫华北!不让日本帝国主义占领中国寸土!为保卫领土流尽最后一滴血!全中国同胞、政府与军队,团结起来,建筑民族统一战线的坚固长城,抵抗日寇的侵略!国共两党紧密合作抵抗日寇的新进攻!驱逐日寇出中国!

——摘自《中共中央1937年7月8日通电》

材料二 中国人民抗日战争是世界反法西斯战争的东方主战场。中国战场长期牵制和抗击了日本军国主义的主要兵力。中国国民党和中国共产党领导的抗日军队,分别担负着正面战场和敌后战场的作战任务,形成了共同抗击日本侵略者的战略态势。

——节选《胡锦涛在纪念抗战胜利60周年大会上的讲话》

材料三

学习心得	书信摘抄
<p>从鸦片战争以来,中国反抗外国侵略的战争老是失败,像甲午战争、八国联军侵华战争……这次,抗日战争可是取得了完全的胜利。</p> <p>日本不仅侵略中国,还发动太平洋战争,侵略了亚洲许多国家,中国的抗日战争也支援了他们的反侵略战争。</p> <p>抗日战争的胜利来得不容易呀!中国人民付出了巨大的民族牺牲,一共伤亡三千五百多万人,直接财产损失达一千亿美元……</p>	<p>第33集团军总司令张自忠出战前致信将士们:只要敌来犯,兄即到河东与弟等共同去牺牲。为国家民族死之决心,决不半点改变。</p> <p>八路军副总参谋长左权给母亲的信中说:不管怎样,我们要坚持到底。不管敌人怎样进攻,我们准备不回到黄河南岸来。</p>

(1)材料一中的电文是在怎样的历史背景下发出的?中国共产党在通电中提出的主张是什么?(4分)

(2)根据材料二,各举一个战例,说明国民党和共产党分别承担的作战任务,并指出中国抗战所呈现的战略态势。(6分)

(3)根据材料三中的“学习心得”,概括抗日战争胜利的历史意义。(4分)

(4)从材料三的“书信摘抄”中,你体会到了怎样的民族精神?(2分)



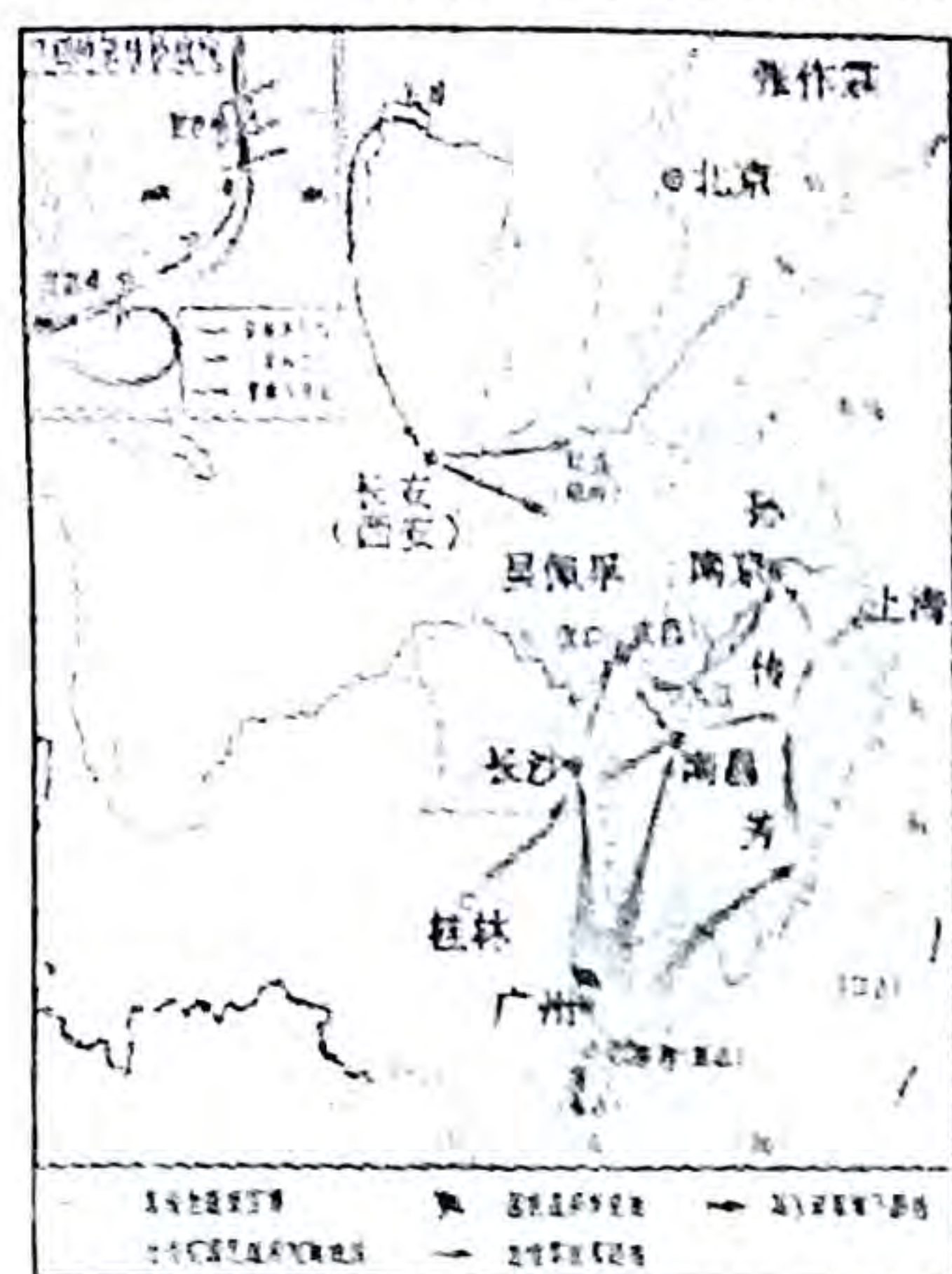


四、探究题(本题共 22 分)

19. 在新民主主义革命时期,中国共产党以国家和民族利益为重,准确判断形势,作出正确的选择。请你完成下面相关学习任务。

任务一 【读图学史——认识历史事件】(4 分)

(1)观察下图形势,结合事件经过的描述,写出事件名称,并总结其成果。



名称: _____

经过:

- ①叶挺独立团开赴两湖战场,揭开战争的序幕,取得了汀泗桥、贺胜桥战役的胜利。
- ②分三路进军,西路指向湖南、湖北,中路江西,东路指向福建、浙江。
- ③目的是消灭吴佩孚、孙传芳和张作霖,统一全国。
- ④冯玉祥五原誓师,进军陕西、河南。……

成果: _____

任务二 【对比事件——体会民族大义】(6 分)

(2)下表中的两次谈判,中国共产党都发挥了重要作用。请完成①②处内容填写,并概括影响国共关系的主要因素有_____。

历史事件	背景	结果	结果的落实
西安事变	中日民族矛盾上升为主要矛盾	和平解决	①
②	抗战胜利后,全国人民渴望和平	签订《双十协定》	国民党撕毁《双十协定》,挑起内战

任务三 【现象描述——合理阐述理由】(6 分)

(3)有一位海外学者说,第二次世界大战结束(1945 年 9 月)以后,当时南京国民政府库存的黄金、白银、美钞的价值空前未有,并且拥有 400 多万美式装备的军队,配有飞机千架,舰艇如云,但为时不过 3 年就被“小米加步枪”的中国共产党打得落花流水。为什么会这样奇怪呢?请阐述上述现象出现的理由。

任务四 【归纳总结——感悟成败得失】(6 分)

(4)综上所述,归纳 1924~1949 年期间,国共关系发展变化的特点。并就此谈谈你的看法。

