



太原市 2018~2019 学年第一学期八年级期末考试

地理试卷

(考试时间:下午 2:30——4:00)

说明:本试卷为闭卷笔答,答题时间 90 分钟,满分 100 分。

题 号	一	二	三	四	总 分
得 分					

一、选择题(本题共 15 小题,每小题 2 分,共 30 分。下列各题的选项中,只有一项符合题意,请将正确选项的序号填入下表相应位置。)

题 号	1	2	3	4	5	6	7	8	9	10	11	12	13	14	15
选 项															

图中熊猫会发电哦!“熊猫光伏电站”已于 2018 年初在山西省大同市并网发电,“熊猫”黑色部分由单晶硅太阳能电池组成;白色部分由薄膜太阳能电池组成。这是根据一位中学生的创意而设计的新能源电站。据此完成 1、2 题。

1. 下列既属于可再生又属于清洁能源的是

- A. 煤炭 B. 太阳能
C. 石油 D. 天然气



2. 山西省是我国“煤炭能源基地”,在此建设“熊猫光伏电站”的重要意义是

- ①提高煤炭利用率 ②改善大气质量 ③减少占用耕地 ④保护生态环境 ⑤大力发展新能源

- A. ①②③ B. ①②④ C. ②④⑤ D. ③④⑤

3. 元旦期间,老师倡议同学们多用电子贺卡,拒绝使用纸质贺卡。主要是为了

- A. 减少大气污染 B. 提高传递速度
C. 减轻书写压力 D. 保护森林资源

右图为“我国局部地区示意图”。据此完成 4~6 题。

4. 大致经过秦岭的等降水量线是

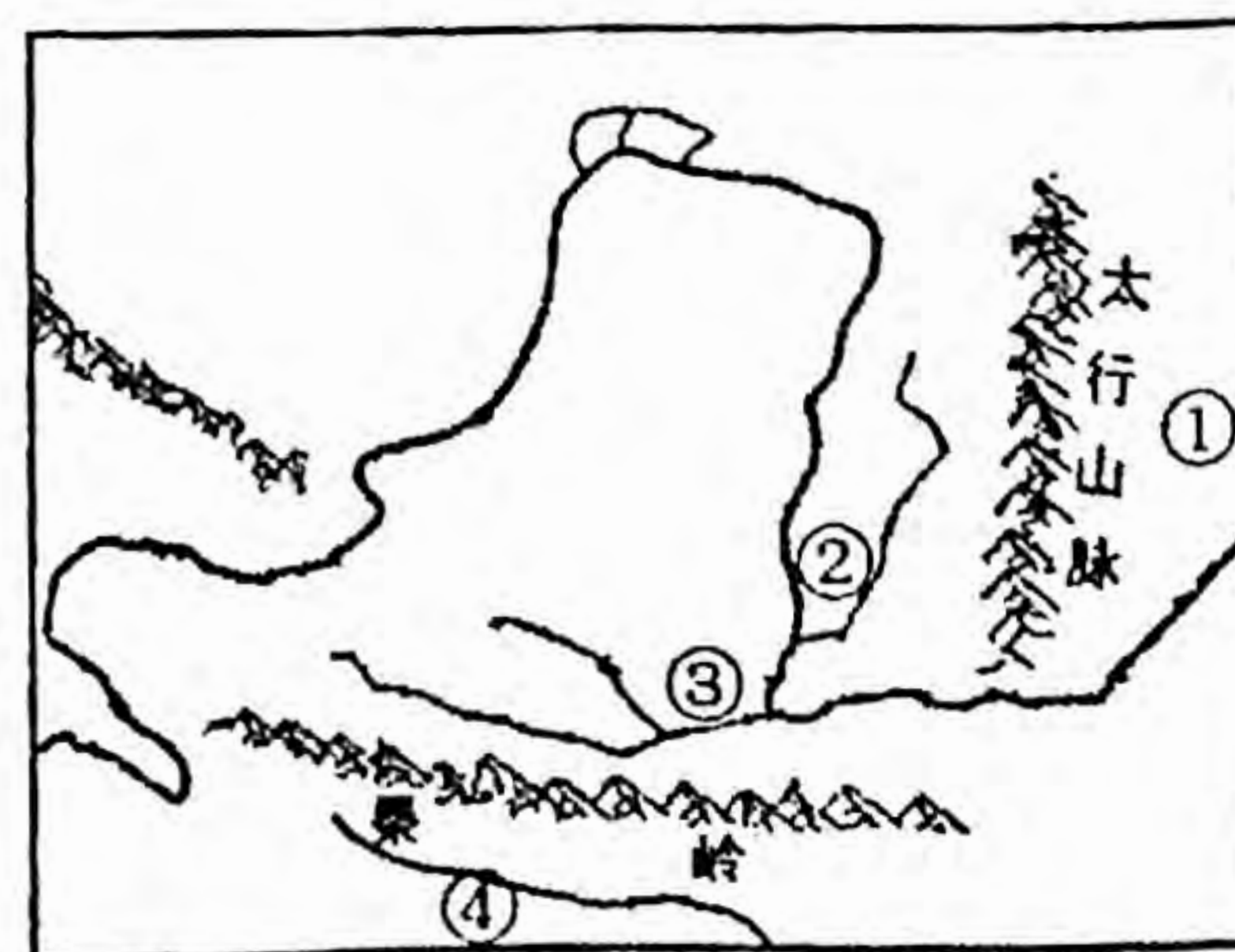
- A. 200mm 等降水量线 B. 400mm 等降水量线
C. 800mm 等降水量线 D. 1600mm 等降水量线

5. 图中①②③④地,耕地类型以水田为主的是

- A. ①地 B. ②地
C. ③地 D. ④地

6. 图中④地农作物的耕作制度是

- A. 一年一熟 B. 两年三熟 C. 一年两熟 D. 一年三熟

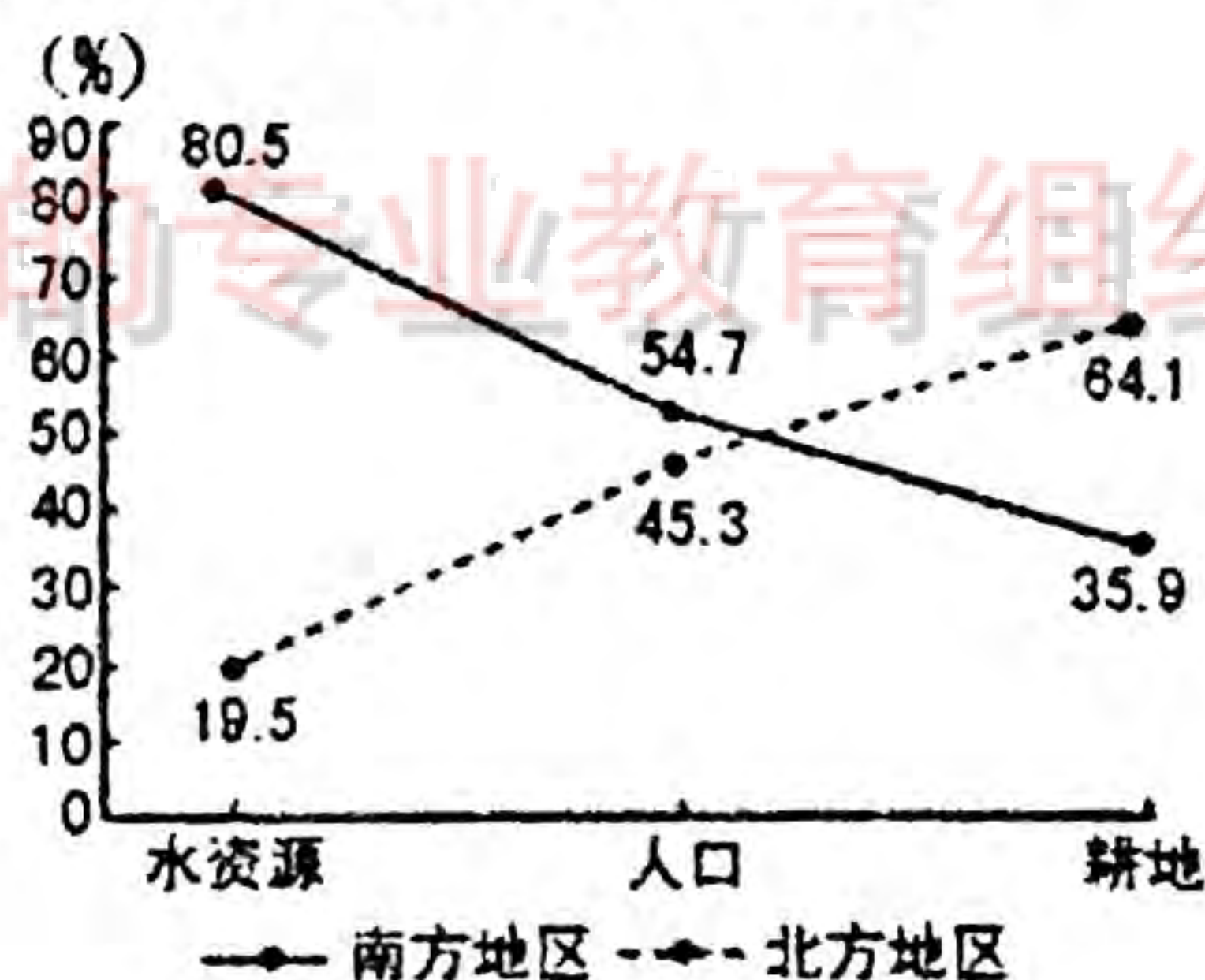




7. 目前,可供人类使用的淡水主要有
- A. 江河水、湖泊水和浅层地下水 B. 江河水、湖泊水和高山冰川融水
C. 江河水、湖泊水和深层地下水 D. 江河水、湖泊水和永久冻土底冰
8. “治黄百难,唯沙为首。”这说明治理黄河的关键在于
- A. 上游兴建水库 B. 下游加固堤坝
C. 中游保持水土 D. 入海口疏通河道
9. 我国第一个国家级高新技术产业开发区是
- A. 深圳高新区 B. 北京中关村高新区
C. 上海浦东高新区 D. 陕西杨凌农业高新区
10. 十三届全国人大第一次会议上,李克强总理提出将延长新能源汽车购置税优惠政策期限。国家发展新能源汽车的主要目的是
- A. 节能减排 B. 方便出行 C. 资源共享 D. 促进消费
11. 习总书记提出“绿水青山就是金山银山”,要牢固树立可持续发展观念。关于因地制宜、可持续发展农业的描述正确的是
- A. 东北平原种植甘蔗 B. 山东沿海发展水产业
C. 长江流域围湖造田 D. 内蒙古发展种植业
12. 我国改革开放 40 年来,交通运输业迅速发展。下列属于现代交通运输方式的是
- ①马车 ②铁路 ③航空 ④管道 ⑤肩扛 ⑥帆船
- A. ①②③ B. ②③④ C. ③④⑤ D. ④⑤⑥
13. 下列运输方式中,具有“从门到门”优势的是
- A. 铁路 B. 航空 C. 公路 D. 水运

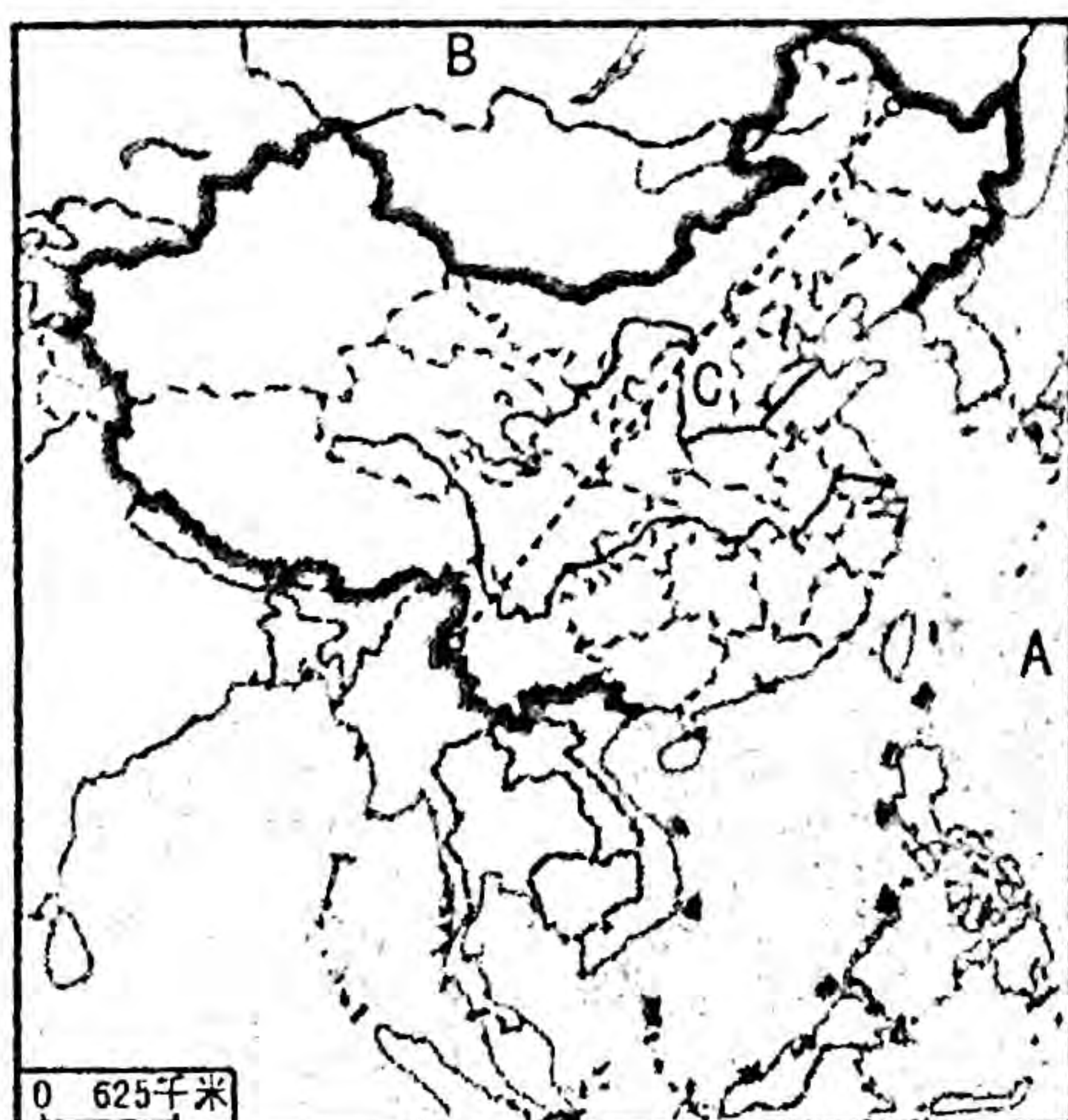
右图为“我国南北方地区人口、水资源、耕地所占比重量示意图”。据此完成 14、15 题。

14. 我国耕地和水资源的分布特点是
- A. 北方耕地多、水资源少 B. 南方耕地多、水资源少
C. 北方耕地少、水资源多 D. 南方耕地少、水资源少
15. 关于我国人口、水资源、耕地的描述正确的是
- A. 我国人口重心在北方 B. 南方人均耕地比北方多
C. 北方水资源比南方多 D. 南方人均水资源比北方多



二、非选择题(本题共 5 小题,共 70 分。)

16. (10 分)读“中国疆域示意图”,完成下列要求。





(1) 写出图中字母所代表的地理事物的名称。(3分)

大洋:A _____ 国家:B _____ 省(区):C _____

(2) 我国人口居世界第 _____ 位, 人口分布极不均衡, 重要的人口地理分界线是 _____ - _____ 一线, 该线东南部人口稠密, 西北部人口稀疏。(3分)

(3) 说出我国气候的主要特征及其对农业生产的有利影响。(4分)

17. (15分) 读“中国主要土地利用类型分布示意图”, 完成下列要求。



漫画

(1) 写出图中字母所代表的三大林区的名称。(3分)

A. _____ B. _____ C. _____

(2) 土地资源按利用状况分为农业用地、_____用地和未利用地三大类型。图中属于农业用地的是 _____、_____、林地和 _____。(4分)

(3) 说出漫画反映的问题, 并为漫画命名。(2分)

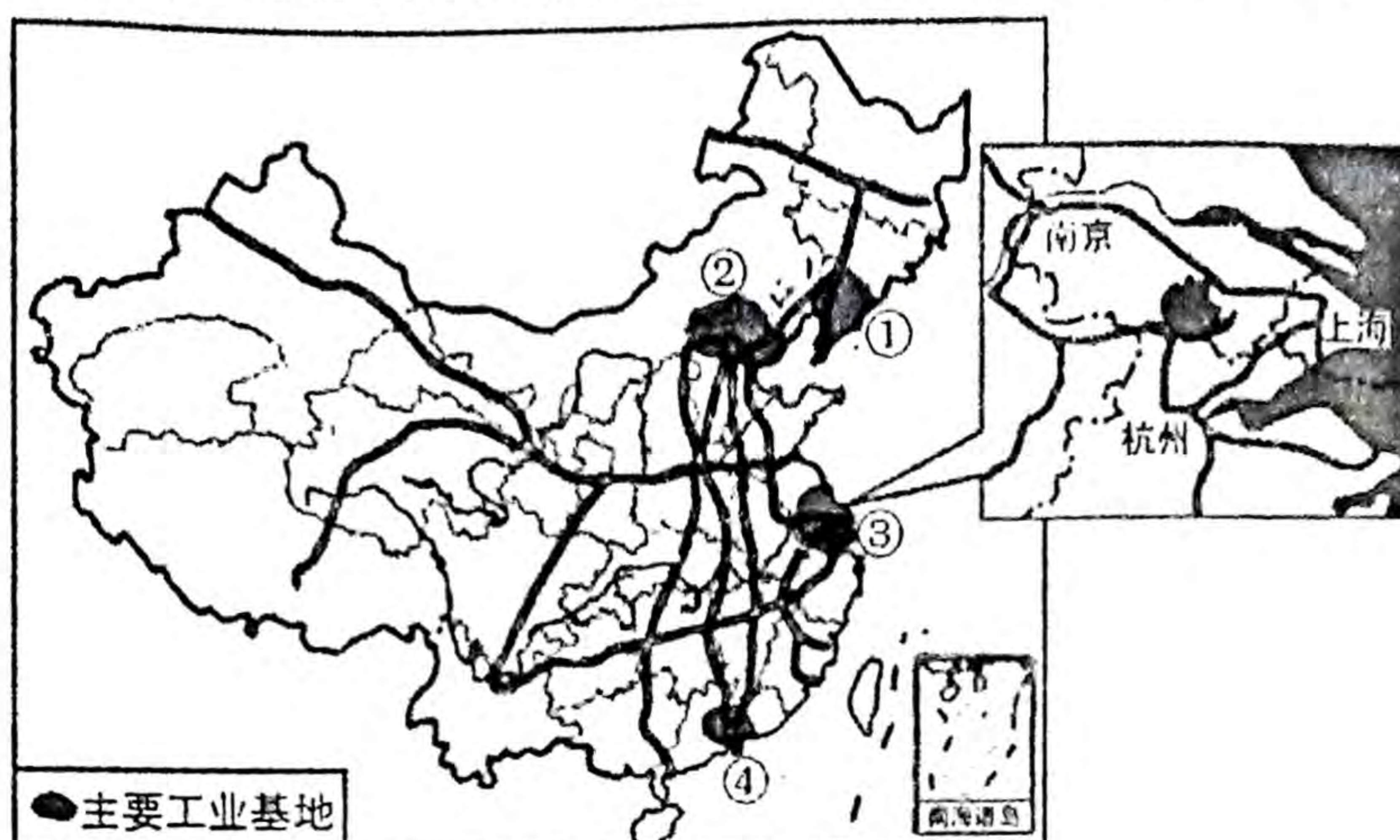
(4) 说出我国土地资源的基本特点。(3分)

(5) 近年来, 我国为提高耕地质量, 减轻耕地污染, 实行耕地“减肥”运动, 预计2020年将实现化肥、农药用量零增长目标。请为合理利用和保护土地资源献计献策。(3分)





18. (15 分) 读“中国主要工业基地及铁路干线分布示意图”，完成下列要求。






(1) 写出图中序号所代表的四大工业基地的名称。(4 分)

① _____ ② _____ ③ _____ ④ _____

(2) 高新技术产业主要依赖于知识和技术，一般布局在科技力量雄厚、人才聚集、交通和通信发达、环境优美的大城市。我国最重要的高新技术产业基地是 _____ 和 _____。(2 分)

(3) ①工业基地有 10 万吨钢材要运往④工业基地，最经济的交通运输工具是() (2 分)



(4) 归纳我国四大工业基地分布的共同特点。(2 分)

(5) ③工业基地是我国最大的综合性工业基地。说出其形成的优势条件。(3 分)


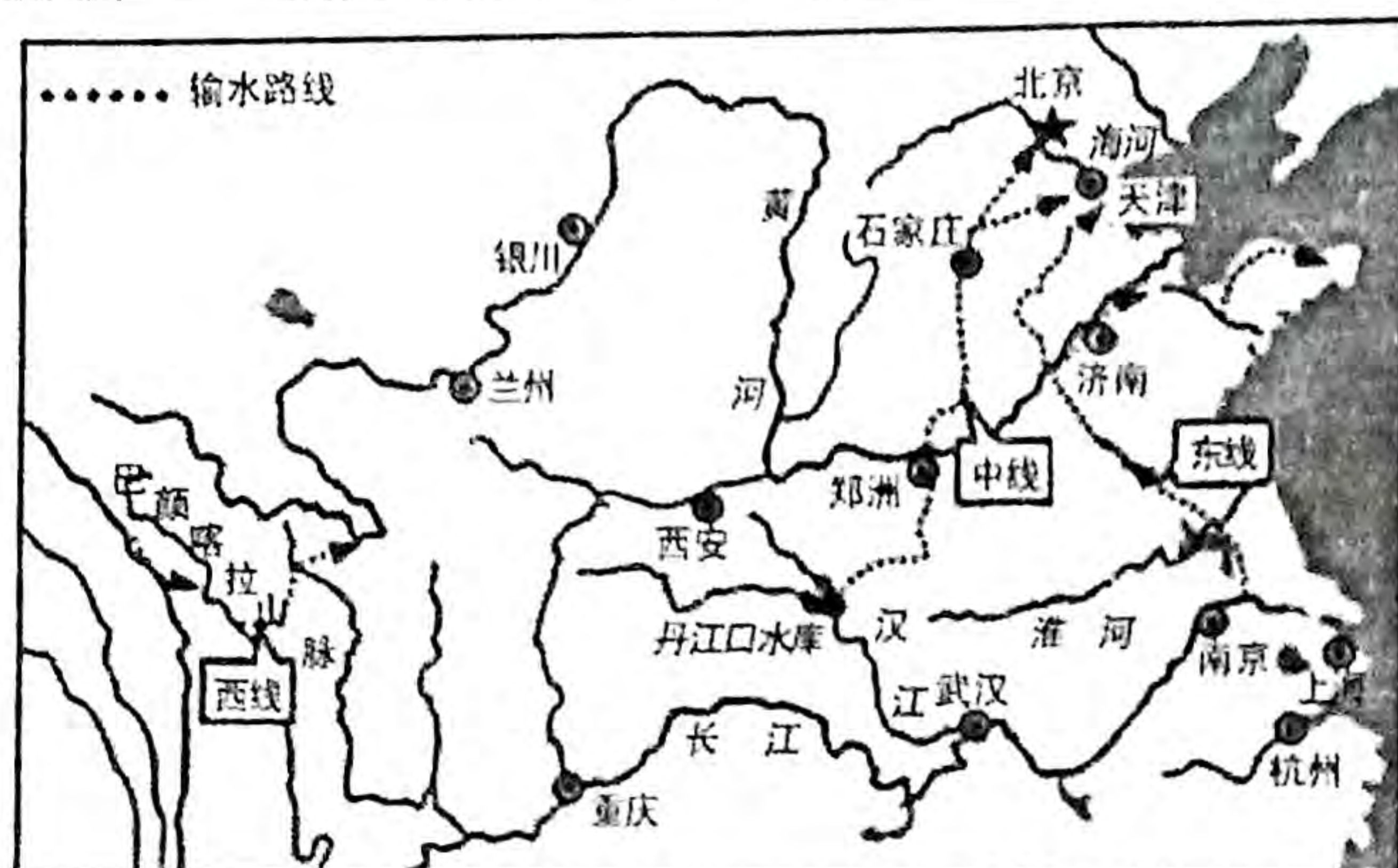
(6) 能够警示未“礼让行人”车辆的智能斑马线、可以自动调度应急抢险资源的智慧运管平台、不用驾驶员可以自己“扫街”的无人清扫车……11 月 22 日至 24 日举行的 2018 年上海国际城市与建筑博览会上，一批“数字化+城市运营”的最前沿科技产品，通过互联网、数字化等新技术与传统城市运营管理充分融合，观众提前领略了“绣花针”式精细化城市运营管理的魅力。请说出你熟知的高科技产品。(2 分)





19. (15 分) 阅读图文资料, 完成下列要求。

材料一 “南水北调工程示意图”



材料二 联合国确定 2018 年“世界水日”的宣传主题是“Nature for water(借自然之力, 护绿水青山)”。中国今年“世界水日”和“中国水周”活动的宣传主题为“实施国家节水行动, 建设节水型社会”。专家认为 21 世纪中国面临资源型缺水 and 水质型缺水双重压力, 保护水环境已成为我国的当务之急。

(1) 在图中用 2B 铅笔或碳素笔描出南水北调工程的中线路线。(1 分)

(2) “世界水日”是每年的 _____ 月 _____ 日, 2018 年“世界水日”的宣传主题是“借自然之力, _____。”(3 分)

(3) 南水北调是我国跨流域调水的一项战略性基础设施工程, 其将南方 _____ 水系的水调至淮河、_____ 河及海河水系, 解决北方地区(主要是黄淮海流域)缺水的问题; 修建水库是为了解决水资源 _____ 分配不均的问题。(3 分)

(4) 探究: 资源性缺水 and 水质型缺水的区别。(2 分)

(5) 简析我国北方地区(主要是黄淮海流域)缺水的主要原因。(4 分)

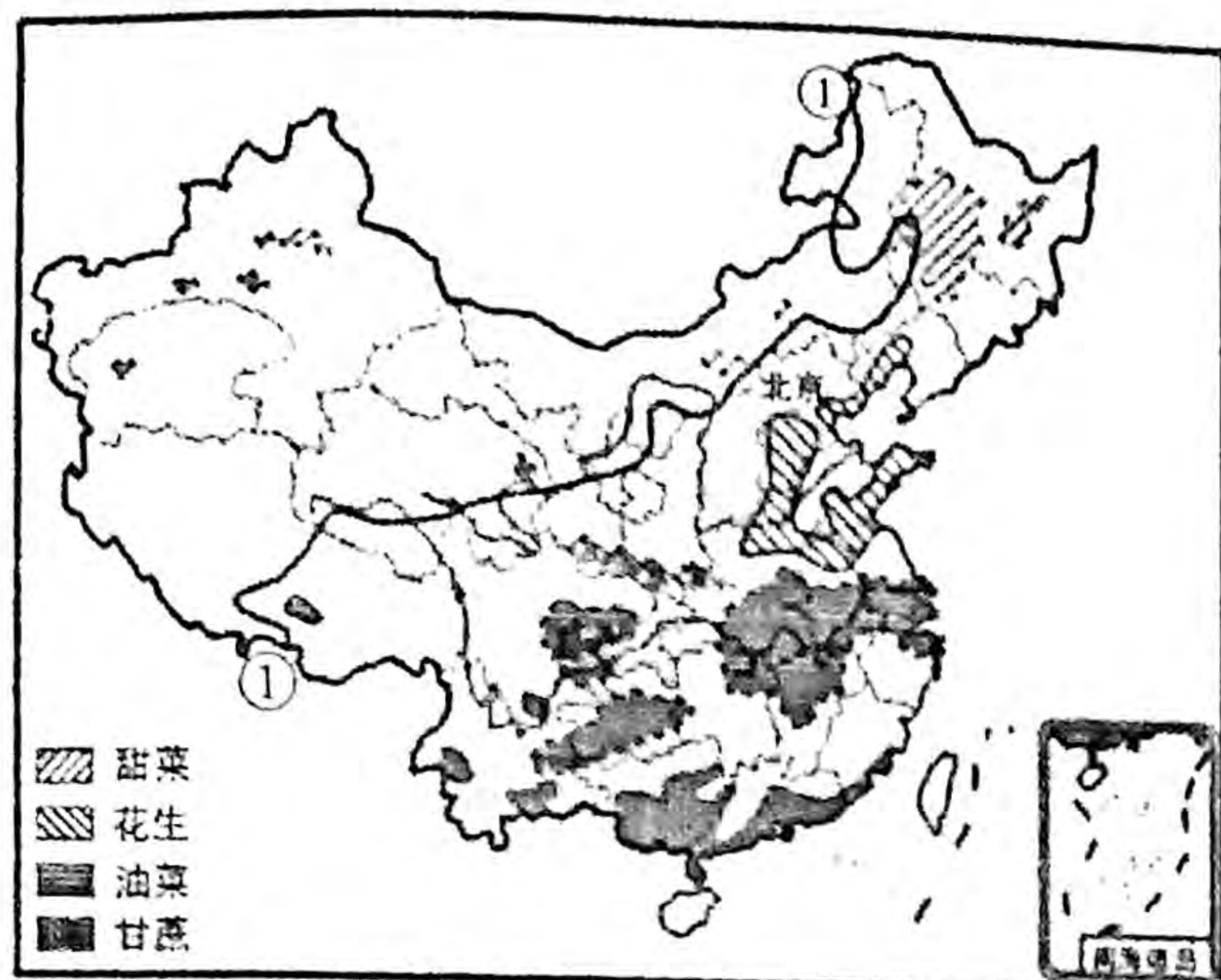
(6) 针对“实施国家节水行动, 建设节水型社会”的宣传主题, 你将如何做到节约用水, 防治水污染呢?(2 分)





20. (15 分) 阅读图文资料, 完成下列要求。

材料一 “中国部分农作物分布示意图”



《中国农民丰收节》纪念邮票

材料二 经党中央批准、国务院批复, 自 2018 年起, 将每年农历秋分设立为“中国农民丰收节”。从古至今, 中国农民第一次有了自己的节日, 丰收节以“庆祝丰收、弘扬文化、振兴乡村”为宗旨, 展示科技强农新成果、产业发展新成就、乡村振兴新面貌, 同时有利于传承弘扬中华农耕文明和优秀文化传统, 加快推进农业农村现代化进程。

(1) 在图中相应位置标注新疆牧区。(1 分)

(2) 经党中央批准、国务院批复, 自 2018 年起设立“中国农民丰收节”, 该节日是每年农历的 _____。(1 分)

(3) 重农固本是安民之基、治国之要。我国地域辽阔, 农业生产存在明显的地区差异, 图中 ① 线为 _____ mm 等降水量线, 该线西部地区天然草场广布, 以 _____ 业为主, 东部地区以 _____ 业、林业和 _____ 业为主。(4 分)

(4) 以秦岭—淮河为界, 我国南北方地区的农业生产差异显著。将图中农作物进行归类。(4 分)

北方: 油料作物 _____
糖料作物 _____

南方: 油料作物 _____
糖料作物 _____

(5) 2018 年 9 月 23 日迎来首届“中国农民丰收节”, 为让全社会都感受到农民丰收的喜悦, 组委会特别推出“5 个 100”活动, 有 100 个品牌农产品、100 个特色村庄、100 个乡村文化活动、100 个乡村美食、100 个乡村旅游线路。其中 100 个品牌农产品中属于山西的有沁州黄小米、岚县马铃薯和大同黄花。除此之外, 请说出你熟知的山西特色农产品。(2 分)

(6) 请说出设立“中国农民丰收节”的重要意义。(3 分)

