



太原市 2018~2019 学年第一学期九年级期末考试

道德与法治试卷

(考试时间:上午 10:00——11:30)

说明:本试卷为开卷笔答,答题时间 90 分钟,满分 100 分。

题 型	选择题	非选择题						总 分
	1~16	17	18	19	20	21	22	
得 分								

选择题(共 48 分)

一、选择题(下列各题只有一个最符合题意的答案,请将其字母标号填入下表相应题号下的空格内。每小题 3 分,共 48 分。)

题 号	1	2	3	4	5	6	7	8	9	10	11	12	13	14	15	16
答 案																

1. “改革不停顿、开放不止步,中国一定会有让世界刮目相看的新的更大奇迹。”改革开放 40 周年之际,习近平总书记来到广东考察,再次吹响时代的号角。下列关于改革开放的认识不正确的是

- A. 改革开放是党的基本路线的“两个基本点”之一,坚持改革开放是强国之路
- B. 改革开放是当代中国最鲜明的特色,是推动发展的第一动力
- C. 党的十一届三中全会开启了改革开放的历史征程
- D. 改革开放促发展,改革开放是决定当代中国命运的关键抉择

2. 一个国家和社会民主生活的质量和水平,与公民的民主意识密切相关。下列行为体现公民民主意识的有

- ① 山西省人大代表韩建明建议,借助新一代信息技术,优化交通资源配置,建设智慧交通,破解城市“堵局”
- ② 环卫处友情提示:玩雪的时候可千万别把雪往对方脸上撒,雪里有融雪剂,对眼睛有危害! 接力下去,让更多的人知道。小军在朋友圈看到以上内容后,果断转发
- ③ 小李检举单位领导的贪污腐败行为
- ④ 中学生阳阳投票选举学生会主席

- A. ①②③
- B. ②③④
- C. ①②④
- D. ①③④

3. 太原市“创建全国文明城市卡通形象”征集活动,得到了社会各界的广泛关注,市民积极参与。经过一系列的评审最终评选出“双双(有好事成双之意)、塔塔(有节节高升之意)”的卡通形象设计方案为最佳设计方案。对此,下列认识正确的是

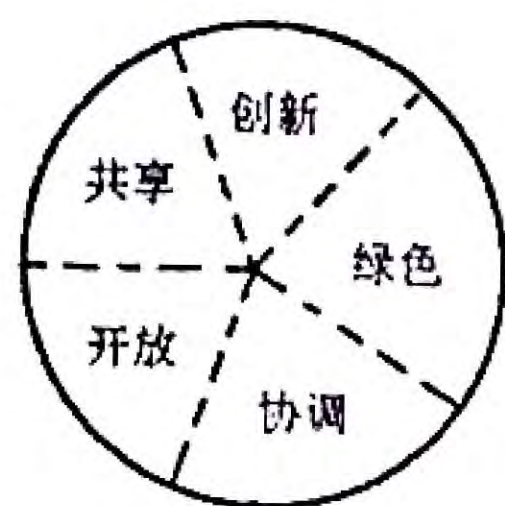
- ① 这一卡通形象的原型取自太原最独特的地标性建筑——晋祠
- ② “双双、塔塔”被确定为太原市“创建全国文明城市卡通形象”的过程生动体现了我市努力保障人民的选举民主
- ③ “双双、塔塔”的美好寓意体现了中华文化的丰富内涵
- ④ 开展这一活动有利于太原市民凝心聚力,实现创建全国文明城市的目标

- A. ①②
- B. ③④
- C. ①④
- D. ②③





4. 小明喜欢运用图表的方法来总结所学知识, 直观易于掌握。下列图说知识错误的是



发展理念
A



民族精神
B




基本国策
C



战略布局
D

5. 2018 年广西壮族自治区成立 60 周年, 小玲同学特地搜集了一组和该自治区有关的图片与同学分享。其中搜集有误的是



A. 桂林漓江山水



B. 百色起义纪念馆



C. 那达慕大会



D. 三月三

6. 历届全国人民代表大会代表中, 都有少数民族代表。从第六届全国人大开始, 各少数民族都有自己的代表。这表明

- A. 民族区域自治制度是我国的一项基本政治制度
- B. 我国尊重少数民族的经济、文化权利
- C. 加强和巩固民族团结, 维护祖国统一, 是中华民族的最高利益
- D. 各民族平等地享有参与管理国家事务的权力

7. 以下时间节点与我国发展目标对应无误的一组是

- ①到建党一百年时, 实现从贫困到温饱、再由温饱到总体小康的历史性跨越
- ②到建党一百年时, 全面建成小康社会
- ③到新中国成立一百年时, 基本实现社会主义现代化
- ④到新中国成立一百年时, 建成富强民主文明和谐美丽的社会主义现代化强国

- A. ①③
- B. ①④
- C. ②④
- D. ②③

8. 以下话语与“自信的中国人”无关的是

- A. “创新是一个民族进步的灵魂, 是国家兴旺发达的不竭动力。”
- B. “中国是古老的民族, 也是勇敢的民族。中华民族有两大优点: 勇敢, 勤劳。这样的民族多么可爱, 我们爱我们民族, 这是我们自信心的泉源。”
- C. “我荣幸地以中华民族一员的资格, 而成为世界公民。我是中国人民的儿子, 我深情地爱着我的祖国和人民。”
- D. “现在的中国护照还不能带你去世界上任何一个地方。但是, 当战争和灾难来临时, 它能从任何一个地方接你回家!”

9. 波音飞机上百万个零部件是由全世界 70 多个国家、几十万个企业制造出来的, 然后波音公司进行组装。组装成的波音飞机, 再飞向全世界, 服务全世界。材料充分表明当今世界_____的趋势。

- A. 经济全球化
- B. 文化多样化
- C. 政治多极化
- D. 社会信息化





10. 2018年5月29日是联合国开展维和行动70周年纪念日,也是中国参与联合国维和行动的第28个年头。从饱经战火的利比亚,到疫情肆虐的非洲埃博拉疫区;从战火交加的南苏丹,到恐怖分子猖獗的马里,中国维和官兵的身影遍布各维和任务区。材料主要体现了

- A. 中国正为世界经济增长注入新的活力
- B. 当今世界并不太平,危机与灾难时常出现
- C. 中国的发展离不开世界
- D. 中国正以实际行动彰显维护世界和平、构建人类命运共同体的大国担当

11. 世界银行在2018年9月19日发布的一篇报告中称,1990年,全球有超过19亿人生活在极端贫困标准线以下。截至2015年最新综合数据,全球生活在极端贫困中的总人数为7.36亿。改革开放40年,中国减贫8.5亿。对此认识正确的是

- ①联合国提出的“在全世界消除一切形式的贫困”这一目标已经实现
- ②世界经济发展不平衡的现象日趋严重
- ③消除贫困是当今人类必须共同面对的发展课题
- ④作为世界上最大的发展中国家,我国对世界发展做出了重大贡献

- A. ①②
- B. ③④
- C. ②④
- D. ①③

12. 从“加强国际合作的角度”看,以下漫画中与其他三幅不同的是



A



B



C



D

13. 下列属于中国发展面临的新机遇是


- ①中国在资金、人才、技术、管理、经济、基础设施等领域具备良好的积累
- ②国内社会治理体系更加完善,社会大局保持稳定,国家安全全面加强
- ③国际上局部地区持续动荡,恐怖主义持续蔓延
- ④和平、发展、合作、共赢的时代潮流越来越强劲

- A. ①②③
- B. ①③④
- C. ②③④
- D. ①②④

14. 对右图的解读正确的是

- ①中国是世界上最大的发展中国家
- ②中国支持和帮助一些国家解决问题和困难,已成为全球发展的贡献者
- ③中国主动承担国际责任,展现大国风采
- ④中国坚持以经济建设为中心,集中力量办好自己的事

- A. ①②
- B. ③④
- C. ②③
- D. ①④



2010年至2012年中国对外援助资金分布
(按援助地区划分)

15. 改革开放40年积累的宝贵经验之一就是必须坚持发

展为第一要务,不断增强我国的综合国力。以下关于促进发展的认识中不正确的是

- A. 促进发展,就要把加快发展速度放在中心位置
- B. 促进发展,要积极寻求新的经济增长点
- C. 促进发展,要以更加开放的态度积极参与全球规则制定
- D. 促进发展,要把提升发展质量放在首位





16. 下列新闻事件能体现中国合作共赢理念的是

①金砖国家领导人会晤中,中国主张秉持开放包容、合作共赢的精神,持之以恒推进经济、政治、人文合作 ②2022年冬季奥运会将在我国举行。冬季奥运会组委会提出节俭办奥运,打造“绿色冬奥”的主张 ③第五届世界互联网大会于2018年11月7日到9日在乌镇举行,大会以“创造互信共治的数字世界——携手共建网络空间命运共同体”为主题,向全球1500多位重要嘉宾发出邀请 ④2018年12月8日,嫦娥四号月球探测器在西昌卫星发射中心成功发射,开启人类航天器首次月球背面“登陆”之旅,同时向德国、荷兰和瑞典等国提供珍贵的舱位,用以携带他们的科研设备

- A. ①②③ B. ②③④ C. ①③④ D. ①②④

非选择题(共52分)


二、简答题(本大题含4个小题,共26分)

17. 基础知识填空(8分)

- ①_____是社会主义民主政治的本质特征。
- ②在处理民族关系上,我国坚持_____的基本原则,各族人民形成了_____的社会主义新型民族关系。
- ③_____是解决台湾问题的基本方针,_____是两岸关系的政治基础。
- ④经过长期努力,_____,这是我国发展新的历史方位。
- ⑤_____成为时代的主题,_____日益成为威胁世界和平的重要因素。

18. 2018年10月24日,港珠澳大桥正式通车。港珠澳大桥是“一国两制”框架下粤港澳三地首次合作建设的超大型跨海交通工程,是目前世界最长的跨海大桥,拥有世界上最长的沉管海底隧道,是中国建设史上里程最长、投资最多、施工难度最大的跨海桥梁。建设完成后仅专利申请多达600多项,被英国《卫报》评为“新世界七大奇迹”之一。港珠澳大桥建成通车后,珠海至香港的交通时间将由原来的水路约1小时,陆路3小时以上,缩短至20-30分钟内,首次实现珠海、澳门与香港的陆路对接。

读了上述材料,你有哪些感悟?(6分)





19. 你从右图中读出了哪些信息? (6分)

经济增长率			
	1978年	2017年	1979-2017年平均增速
世界	4.0	3.0	2.8
中国	11.7	6.9	9.5

单位: %

对世界经济增长的贡献率			
	1978年	2017年	1979-2017年平均贡献率
中国	3.1	27.8	18.4

属世界第二位 单位: %

自2008年以来, 中国对世界经济增长的贡献率
稳居世界第一位

20. 2018年11月5日~10日, 在上海举办了首届中国国际进口博览会, 共有82个国家和国际组织参展。国家主席习近平出席开幕式并发表题为《共建创新包容的开放型世界经济》的主旨演讲。习近平主席指出, 中国是世界第二大经济体, 有13亿多人口的大市场, 有960多万平方公里的国土, 中国经济是一片大海, 而不是一个小池塘。大海有风平浪静之时, 也有风狂雨骤之时, 狂风骤雨可以掀翻小池塘, 但不能掀翻大海。

以上材料能体现所学道德与法治的哪些知识? (6分)

三、分析说明题(本大题有1小题, 共12分)

21. 九年(3)班的同学们正在就经济全球化问题进行热烈的讨论。小丁同学认为: 经济全球化是“阿里巴巴的山洞”, 蕴藏着无限的价值和机遇, 中国应该主动参与到经济全球化的进程中。小李同学则认为经济全球化是“潘多拉盒子”, 充满风险与危机, 中国应该敬而远之, 学会保护我们国家的利益。

你认同他俩的看法吗? 请说明理由。





四、实践探究题(本大题有 1 小题,共 14 分)

22. 某班道德与法治学科王老师组织同学们对“一带一路”的相关内容开展研学活动并进行集中展示交流。以下是同学们在此过程中梳理总结的一些资料,请你参与完善。

【过去篇】古丝绸之路,简称“丝路”。是指西汉(前 202 年—8 年)期间,由张骞出使西域开辟的以_____ (今西安)为起点,经甘肃、新疆,到中亚、西亚,并联结地中海各国的陆上通道。因为由这条路西运的货物中以_____的影响最大,故得此名。

(1)请在横线处写出正确的内容。(2 分)

【现在篇】“一带一路”建设参与国弘扬丝绸之路精神,开展智力丝绸之路、健康丝绸之路等建设,借助既有的、行之有效的区域合作平台,共同打造政治互信、经济融合、文化包容的利益共同体、命运共同体和责任共同体。

至 2018 年,中国同“一带一路”沿线国家贸易总额超过 5 万亿美元。中国对“一带一路”沿线国家投资累计超过 700 亿美元。中国企业已经在 20 多个国家建设 82 个经贸合作区,为有关国家创造近 20 亿美元税收和 24.4 万个就业岗位。

(2)“一带一路”的全称是什么?(2 分)

(3)请你概括“丝绸之路精神”的丰富内涵。(写出两条即可,2 分)

(4)中国首倡“一带一路”有何意义?(4 分)

【未来篇】习近平总书记在第一届“一带一路”国际合作高峰论坛开幕式上强调:我们要将“一带一路”建成繁荣之路。发展是解决一切问题的总钥匙。推进“一带一路”建设,要聚焦发展这个根本性问题,释放各国发展潜力,实现经济大融合、发展大联动、成果大共享。

(5)为了实现共建“繁荣之路”的畅想,中国应该怎么做?(4 分)

