



太原市 2019 年高三年级模拟试题(一)

文科综合能力测试

(考试时间:上午 9:00—11:30)

注意事项:

- 1.答题前,考生务必将自己的姓名、准考证号填写在本试卷与答题卡相应的位置。
- 2.全部答案在答题卡上完成,答在本试卷上无效。
- 3.回答选择题时,选出每小题答案后,用 2B 铅笔把答题卡上对应题目的答案标号涂黑。如需改动,用橡皮擦干净后,再选涂其他答案标号。回答非选择题时,将答案用 0.5mm 黑色迹签字笔写在答题卡上。
- 4.考试结束后,将本试卷和答题卡一并交回。

一、选择题:共 35 小题,每小题 4 分,共 140 分。在每小题给出的四个选项中,只有一项是符合题目要求的。

人口密度是衡量人口集聚的重要指标,城市人口密度是城市人口数量与城市建成区面积之比。有学者通过对我国 2005~2013 年 35 个大城市对经济增长影响的研究发现:我国城市人口密度整体呈降低趋势;人口集聚主要通过知识和技术对经济增长产生正向影响,影响程度有明显的地区差异。据此完成 1~2 题。

1. 2005~2013 年我国大城市人口密度整体下降的主要原因是
 - A. 城市人口集聚的速度放缓
 - B. 城市经济增长的速度下降
 - C. 农村人口的回流现象明显
 - D. 城市建设用地的增长迅速
2. 2005~2013 年人口集聚对我国不同地区大城市经济增长的正向影响程度,由强到弱依次是
 - A. 西部、中部、东部
 - B. 东部、中部、西部
 - C. 中部、东部、西部
 - D. 中部、西部、东部

特斯拉是 2018 年 12 月入围世界 500 强的纯电动轿车生产及设计公司。创业初期,特斯拉在不确定新能源汽车的市场接受度、市场容量及销售量的背景下,把目标客户定位为“新、年轻、高端”,主要致力于新能源汽车的研发。在第一款车型 Roadster 上市两年后,特斯拉拥有了自己的工厂,但滞后的产能限制了交付能力。2019 年 1 月 7 日,特斯拉超级工厂在上海市临港装备产业区开工建设,项目总投资 500 亿人民币,设计能力为年产电动汽车 50 万辆。这是特斯拉在美国本土以外的首个海外工厂。在超级工厂的不远处是上海著名品牌汽车荣威的生产基地,也是上海新能源汽车的生产基地。图 1 示意上海临港产业区及特斯拉的地理位置。据此完成 3~5 题。





图 1

3. 首家海外工厂建成投产后,能有效缓解特斯拉的

- A. 产能不足
- B. 劳动力紧缺
- C. 市场狭小
- D. 研发成本高

4. 特斯拉首先选择在我国上海建海外工厂,其主要原因是上海

- A. 劳动力成本较低廉
- B. 对新能源汽车接受度高
- C. 产业配套体系较完善
- D. 年轻人的比重较大

5. 将一个国际竞争对手置于临港产业区,对上海荣威新能源汽车发展来说利于

- A. 获得规模效益
- B. 自主品牌成长
- C. 产业结构优化
- D. 企业合并重组

山谷风环流因山地平原地形的差异而产生,对冬季静稳天气(近地面风速较小,大气稳定)下京津冀地区空气质量的影响很大,而海陆风的影响则相对较弱。静稳天气下,图 2 中山前地区的偏南风与偏北风以日为周期的消长与进退影响着北京及其以南地区大气污染物浓度的变化。据此完成 6~8 题。

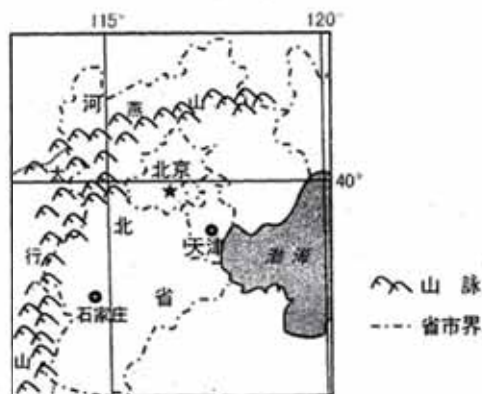


图 2





6. 冬季海陆风环流对京津冀地区的影响较弱,其主要原因是

- A. 植被覆盖率较低
B. 海平面略有下降
C. 热岛效应较明显
D. 海面被海冰覆盖

7. 图3所示的山谷风环流中,能将南部大气污染物汇聚至北京的气流是

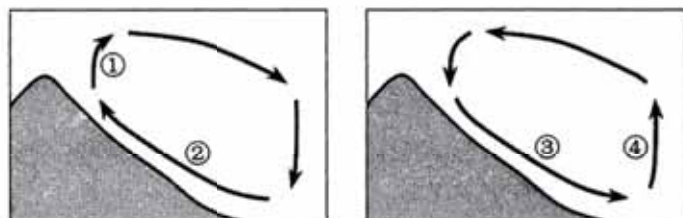


图3

- A. ①
B. ②
C. ③
D. ④

8. 在静稳天气条件下,北京市冬季凌晨至清晨大气污染物浓度明显降低的地区是

- A. 北部地区
B. 南部地区
C. 东部地区
D. 西部地区

红层(图4)由红色的砂岩、粉砂岩和页岩等岩石组成的地层出露地表而形成。目前我国已知的红层出露面积超过80万平方千米,南北方都有大面积分布,且南方出露面积大于北方地区。小明同学利用节假日赴新疆在飞机上从高空观赏红层地貌景观,积累了丰富的观赏经验。图5示意新疆红层的分布及乌喀航线。据此完成9~11题。




图4



图5

9. 小明发现与南方地区相比,在新疆航拍、观赏红层的效果较理想,其主要原因是新疆

- A. 开发较晚,大气洁净
B. 地势崎岖,峰岭众多
C. 干旱少雨,植被稀疏
D. 面积辽阔,红层广布

10. 小明建议,若乘飞机在南疆观赏红层,应尽可能避开

- A. 12~2月
B. 3~5月
C. 6~8月
D. 9~11月

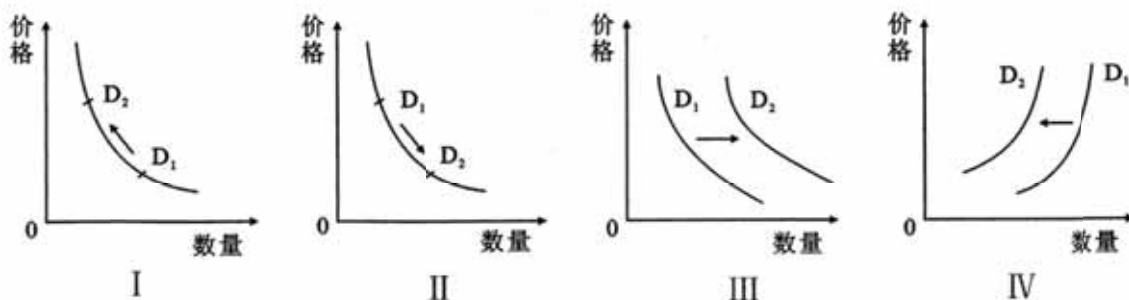
11. 小明乘坐从乌鲁木齐飞往喀什的航班,为了获得最佳的红层观赏效果,应选择的座位和航班时间是

- A. 左侧靠窗 7:15—9:15
B. 右侧靠窗 7:15—9:15
C. 左侧靠窗 9:55—12:05
D. 右侧靠窗 9:55—12:05





12. “需求的变动”指由商品自身价格以外的其他因素所引起的商品需求量变化,可以图示为整个需求曲线的平移;而由商品自身价格变动引起的需求量变动称为“需求量的变动”,可以图示为同一条需求曲线上点的移动。下列经济现象与图示对应正确的是



- ①对超豪华车在零售环节加征 10% 消费税带来的超豪华车需求量的变动,可图示为 I
②农户购 200 马力以上拖拉机单机财政补贴不超 25 万元致该机需求量的变动,可图示为 II
③坚持绿色发展降低新能源汽车购置税引起的新能源汽车需求的变动,可图示为 III
④通过“互联网+”推广形式扩大农产品的影响力引起的农产品需求的变动,可图示为 IV
- A. ①② B. ①③ C. ②④ D. ③④

13. 2019 年《政府工作报告》指出,下大力气优化民营经济发展环境,把市场主体的活跃度保持住。下列有利于支持民营经济发展的正确路径是

- ①坚持竞争性原则→平等使用生产要素→公平参与市场竞争→巩固民营经济的主体地位
②实施稳健货币政策→定向下调准备金率→增强信贷供给能力→缓解民营经济融资难问题
③收紧小微企业认定标准→扩大税收优惠范围→降低企业经营成本→提高民营经济效益
④着力保护企业产权→稳定投资预期→激发民营企业信心和活力→推动民营经济发展
- A. ①② B. ①③ C. ②④ D. ③④

14. 2019 年 1 月 1 日开始实施的新《中华人民共和国个人所得税法》的亮点主要有:较大幅度地提高了“起征点”,幅度约 43%;大幅扩大 1—3 级应税所得额的级距;增加子女教育、继续教育等专项附加扣除项目。个税法调整有利于

- ①扩大中等收入群体,增强消费对经济发展的基础性作用 ②优化税率结构,拓宽财政收入的新来源 ③鼓励教育消费,通过提高劳动者素质推动现代化经济体系建设 ④增加居民保障性收入,缩小收入分配差距
- A. ①② B. ①③ C. ②④ D. ③④





15. 2018 年 12 月,中央经济工作会议提出,我国经济运行必须坚持以供给侧结构性改革为主线不动摇,更多采取改革的办法,更多运用市场化、法治化手段,在“巩固、增强、提升、畅通”八个字上下功夫。下列对八字方针理解正确的是
- ①巩固:巩固“三去一降一补”成果,加快出清新兴产业产能,降低制度性交易成本
②增强:建立公平开放透明的市场规则,优化企业营商环境,增强微观主体的活力
③提升:大力提升产业链水平,推动技术密集型产业向劳动、资金密集型产业发展
④畅通:加快建设统一开放、竞争有序的现代市场体系,助力实体经济可持续发展
- A. ①② B. ①③ C. ②④ D. ③④
16. 2018 年 12 月,全国政协在北京召开第二次网络议政远程协商会,15 位委员在全国政协机关和北京、江苏、四川等五个会场以及通过手机或计算机连线方式发了言,200 多位委员通过委员移动履职平台就如何推动快递行业由高速增长转向高质量绿色发展踊跃发表意见。网络议政远程协商会
- ①创新了参政议政的方法和途径 ②发挥了人民政协在国家社会治理中积极作用
③保障了公民行使民主监督权利 ④提高了参政议政实效,更好地管理国家事务
- A. ①② B. ①④ C. ②③ D. ③④
17. 物换星移一甲子,雪域高原展新颜。2019 年是西藏民主改革 60 周年,也是“西藏百万农奴解放纪念日”设立 10 周年。2018 年,西藏自治区地区生产总值达到 1477.6 亿元,比 1959 年增长了 191 倍;2018 年城乡居民人均可支配收入分别达到 33797 元和 11450 元,比 1965 年分别增长 73 倍和 105 倍。西藏之所以发生翻天覆地的历史巨变,原因在于
- ①在区、州、县三级自治地方设立自治机关,自主管理本民族自治地方事务
②保障了少数民族在国家政治生活中的特殊地位,调动了少数民族的积极性
③在国家统一领导下各民族聚居地方实行区域自治,推动了西藏大发展
④坚持民族平等、民族团结和各民族共同繁荣原则,发展了新型民族关系
- A. ①② B. ②③ C. ①④ D. ③④
18. 纵观 2018 年中国四大主场外交活动:博鳌亚洲论坛坚持开放共赢,共创美好未来;上合峰会倡“五观”,共绘“合”的蓝图;中非合作论坛峰会携手逐梦,为世界谋大同;中国国际进口博览会开放市场,与世界共享机遇。“人类命运共同体”这一重要理念贯穿其中,为世界发展贡献了中国智慧和方案。这说明中国的主场外交
- ①其宗旨是打造展示中国国际影响力的重要平台 ②成为阐释中国外交理念和国际问题主张的平台 ③彰显的中国智慧有利于改革完善全球治理体系 ④展现的中国方案成为世界各国共同的具体遵循
- A. ①③ B. ②③ C. ①④ D. ②④





19. “2018 感知中国—中国西部文化行”的中外文化交流活动中,中国西部民族歌舞演出、西部图片展和电影展映走进了捷克、俄罗斯、美国等国,受到当地民众欢迎。这次中外文化交流活动有利于
- ①扩大中国西部文化的世界影响 ②增强外国公民对中国文化的广泛认同
③吸收借鉴和继承各国文化成果 ④促进中外文化之间交流互鉴和共通共荣
- A. ①② B. ①④ C. ②③ D. ③④
20. 习近平总书记在文章、讲话、著作中,常常引用古代典籍中的经典名句。用中国经典讲“中国经验”,以中国道理说“中国道路”,生动传神,寓意深邃。这些经典名句
- ①根植于中华优秀传统文化,是文化长河中沉淀的智慧结晶 ②形成于中国特色社会主义实践,是中华文化的重要基因
③彰显了文化自信,体现中华文化的博大精深 ④立足于传统文化,有利于实现文化创新
- A. ①③ B. ①④ C. ②③ D. ②④
21. “行之力则知愈进,知之深则行愈达”。改革开放 40 年积累的宝贵经验,是党和人民弥足珍贵的精神财富,对新时代坚持和发展中国特色社会主义有着极为重要的指导意义,必须倍加珍惜、长期坚持。这说明,在中国特色社会主义伟大实践中,我们要
- ①把知行统一作为事业前进的方向 ②善于把宝贵经验变为科学理论
③综合思维,知行统一,不断前进 ④立足实际,追求真理,博学笃行
- A. ①② B. ①④ C. ②③ D. ③④
22. 基因编辑技术能够让人类对目标基因进行“编辑”,实现对特定 DNA 片段的敲除、加入等。基因的变化会传给后代并最终有可能影响整个基因库,基因编辑可能会衍生出一系列棘手的伦理、法律和安全难题,因此许多国家对基因编辑技术制定了相应的伦理、法律规范。人类严控基因编辑行为是因为
- ①基因编辑技术的社会历史性值得怀疑 ②科学技术的运用对人类影响具有双重性
③人类实践活动要遵循一定的价值标准 ④基因编辑技术是从个性中寻找共性
- A. ①③ B. ①④ C. ②③ D. ②④
23. 习近平主席 2019 年的新年贺词,体现着大国情怀、大同理想,在祝福中国、祝福世界的问候声中,散发出人类命运共同体的时代光芒。其中“我们都在努力奔跑,我们都是追梦人,每一个人的梦,必将汇聚成伟大的中国梦”这一贺词给我们的哲学启示是
- ①坚持事物发展前进性和曲折性的统一 ②梦想作为一种价值取向决定社会发展前途和命运
③要用局部的发展推动整体最优目标实现 ④社会的发展是渐进性和飞跃性的统一
- A. ①② B. ①③ C. ②④ D. ③④





24. 韶乐与武乐是流行于春秋时期各诸侯国的宫廷雅乐。韶乐是虞舜太平之乐,侧重于安泰祥和、礼仪教化;武乐是武王伐纣一统天下之乐,侧重于大乱大治、述功正名。孔子认为“武乐尽美而不尽善,韶乐则尽善尽美”。此后各代,皆将韶乐定为国家大典音乐,无出其右。这反映的古代政治理念是

- A. 注重等级 B. 礼法并施 C. 崇尚和谐 D. 凸显皇权

25. 汉武帝设刺史,职权为“奉诏六条察州”。西汉中期后,京房(人名)曾经向皇帝奏报新的对官吏考核的方法,皇帝“召见诸刺史,令房晓以课事(考核官吏政绩的事宜),刺史复以为不可”。由此可见,在汉代中后期

- A. 刺史制度渐趋完善 B. 刺史地位显著提高
C. 刺史监察范围扩大 D. 刺史职权有所异化

26. 唐安史之乱至唐末,“天下户口,流亡过半”。宋太祖下令,“察民有父母在而子孙别籍异财者,其罪死”。“召集逃散,令着旧业”成为北宋初期地方政府的主要政务。宋初这一政策

- A. 旨在压制工商业发展 B. 有利于稳定小农经济
C. 意在强化学理价值观 D. 抑制了土地兼并现象

27. 图6为清代国子监(太学)大门外的下马石,石刻汉、满两种文字“官民人等至此下马”。此处文物古迹

- A. 缺少史料印证无法判断内涵
B. 体现了满清政府的民族传统
C. 用以严明宫禁之地出入秩序
D. 彰显了儒学文化的特殊地位



图6

28. 删书衙是太平天国建都南京后下设的一个机构,其主要职责是删改《论语》、《孟子》、《中庸》、《诗经》、《礼记》、《春秋左传》等古籍中与太平天国教义不一致的内容,但依旧保留三纲五常等儒家伦理观念。其主要目的是

- A. 反对清王朝统治的思想基础 B. 构建与政权相适应的意识形态
C. 消除民众对儒学的盲目崇拜 D. 扩大基督教义在中国的影响力

29. 古之四民,士农工商,士为首,商为末。清末新政时期,大量士子从事其他行业,“弃儒就贾成为一个普遍性的社会运动”。导致当时这一变化的主要原因是

- A. 读书人价值观的改变
B. 个人创业的障碍消除
C. 制度变革的进程加快
D. 实业救国思潮的出现





30. 图 7 为人民英雄纪念碑八块浮雕之一。浮雕采用了立体层次构图,背景为天安门、华表、五色旗。该浮雕所纪念的历史事件



图 7

- A. 促进了中华民族的觉醒
- B. 掀起了抗日救亡运动高潮
- C. 推动国共两党走向联合
- D. 宣告新民主主义革命胜利

31. 1984 年,我国提出建立“有计划的商品经济”,各类商品实行计划内与计划外两种价格,即价格双轨制。80 年代中期,国民经济先后出现两轮通货膨胀。这表明当时

- A. 经济体制改革亟待深化
- B. 传统经济体制仍具优势
- C. 国有企业制度根深蒂固
- D. 市场经济体制弊端显现

32. 图 8 为古希腊城邦制度下公民大会的会场遗址。公民大会召开时,各区公民位于四周的圆形看台上,城邦官员位于会场居下的场地中央。该会场的设计反映出古希腊



图 8

- A. 民众向往中央集权体制
- B. 崇尚圆满和谐的政治生活
- C. 平民紧密拥护政治领袖
- D. 集体参政议政的民主意识

33. “雇佣劳动完全是建立在工人的自相竞争之上的。资产阶级无意中造成而又无力抵抗的工业进步,使工人通过结社而达到的革命联合代替了他们由于竞争而造成的分散状态。”

《共产党宣言》中这段话

- A. 说明雇佣劳动是工业化的产物
- B. 肯定了资本主义社会的进步性
- C. 揭示了无产阶级斗争的新特点
- D. 批判了工人阶级的分散落后性

34. 1933 年,美国图书馆协会估计,自 1929 年以来新增的借书人大约在 200 万到 300 万之间,总的图书流通增长了将近 50%;每 20 个成年人当中大约有 19 个人是报纸的读者。这一现象反映出美国当时

- A. 民众精神世界渴望慰藉
- B. 文化产业拉动了经济增长
- C. 国民素质得到大幅提升
- D. 科技革命推动出版业发展

35. 不结盟运动自成立以来以支持各国人民维护民族独立、捍卫国家主权及发展民族经济和文化为任务;进入 21 世纪,则着重强调维护世界和平与安全,推行平等、互不侵犯、多边主义等原则,并为来自不发达地区的成员国在国际谈判中争取权益。这一变化表明当今世界

- A. 霸权主义威胁已解除
- B. 发展中国家影响力增强
- C. 政治一体化进程加快
- D. 经济全球化是发展趋势





二、非选择题:共 160 分。第 36~42 题为必考题,每个试题考生都必须作答。第 43~47 题为选考题,考生根据要求作答。

(一)必考题,共 135 分

36. 阅读图文资料,完成下列要求。(24 分)

红松是珍稀树种,其耐寒性强,怕干旱,忌积水,在温寒多雨地区及深厚肥沃的森林土中生长良好。野生红松生长 40 年后开始在树顶端(常超过 20 米)结塔,其种子红松子包裹在松塔里,挂果时间长达 18 个月,需人工采摘,种子需晾晒方可储藏。天然林松塔出种率约 13%,人工林松塔出种率约 30%。

红松子是我国最常见的食用松子,价格昂贵。梅河口人自 20 世纪 70 年代开始在长白山野生红松林打塔、收子,经过手工脱壳、烘干加工成松仁出口国外。随着加工机械设备的应用,该市开始到国内外松子产地大量收购其它品种的可食用松子。目前,梅河口市已拥有松子加工企业 300 余家,并建成了集金融、仓储、物流、电子商务、加工和销售为一体的集群式发展果仁园区,成为世界最大的松子集散地和松子商业信息汇聚中心。图 9 示意梅河口市的位置及东北三省的一月气温和降水状况。



图 9

- (1)说明长白山林区适宜红松生长的自然条件。(6 分)
- (2)分析红松子价格高的原因。(8 分)
- (3)分析梅河口市松子加工产业集群式发展对提高松子出口竞争力的作用。(6 分)
- (4)请为梅河口市松子加工产业的可持续发展提出合理建议。(4 分)





37. 阅读图文资料,完成下列要求。(22分)

佛罗里达大沼泽地是世界上独特的湿地生态系统,其长约160千米、宽约80千米,一条被草覆盖的河流从其腹地缓缓流向海洋,沿途沼泽广袤、河道纵横、水生植物茂密、小岛上万,动植物资源丰富,曾面临灭绝危机的美洲短吻鳄如今在这里繁衍生息。

美洲短吻鳄是一种大型两栖爬行动物,主要生活在亚热带湿地的淡水或海水环境中,最适宜温度 $29\sim 32^{\circ}\text{C}$,温度降至 16°C 以下捕食量下降, 10°C 开始冬眠, 5°C 以下会冻死。雏鳄需多晒太阳以增强抗病能力。美洲短吻鳄是不挑食的肉食类动物,小鳄鱼捕食昆虫、甲壳类、小鱼,成年鳄捕食鱼、鸟、小型脊椎动物。美洲短吻鳄体大肉多、皮质优良,养殖效益十分可观。有人建议我国引进美洲短吻鳄养殖。图10示意大沼泽地地理位置。

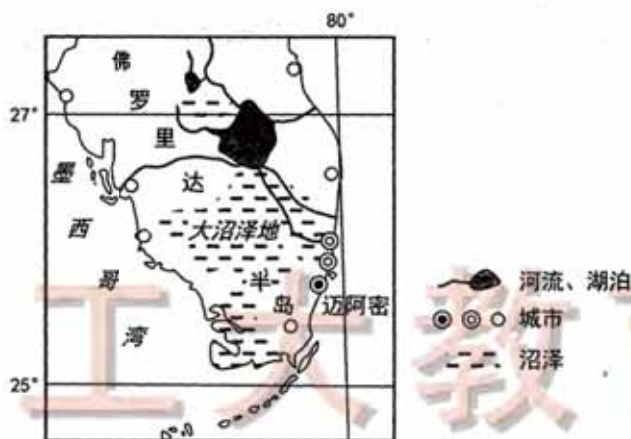


图10

(1)说明佛罗里达大沼泽地的形成原因。(8分)

(2)分析大沼泽地适合短吻鳄生存的条件。(10分)

(3)从提高成活率的角度,推测我国长江中下游地区引进美洲短吻鳄进行养殖时需注意的主要问题,并说明理由。(4分)





38. 阅读材料,完成下列要求。(14 分)

作为国家发展战略,正在建设中的粤港澳大湾区将香港、澳门和广州、深圳等 11 个城市联通在一起,紧密合作,共同参与“一带一路”建设,将把整个泛珠江三角洲地区经济发展推向一个新的高度,建成集知识创新、高新科技、高级制造、世界工厂再升级的全球创新发展基地。目前,粤港澳大湾区发展也面临诸多挑战:大湾区内靠近珠江口的粤西地区交通落后,珠江口两岸交通不畅问题明显;大湾区经济运行仍存在产能过剩、供给与需求结构不平衡不匹配等突出矛盾和问题;大湾区内部发展差距依然较大,部分地区和领域还存在同质化竞争和资源错配现象;大湾区内部的经济体制,形成了自由港、经济特区、自由贸易试验区和不同关税区等多重经济体的体制叠加局面。

结合材料,运用经济生活知识,分析说明粤港澳大湾区建设的意义及如何推动大湾区进一步发展。



工大教育

做最感动客户的专业教育组织

39. 阅读材料,完成下列要求。(12 分)

为打造共建共治共享的社会治理格局,某市紧扣超大城市特点和规律,构建了城市基层党建四级联动体系,城市基层党建引领作用更加彰显;探索 AI 赋能的社区管理平台,把街道、公安、城管等力量整合起来,第一时间通过人工智能发现问题,并推送给相关部门及时处置;社区发挥党委和政府联系群众、服务群众的神经末梢作用,及时感知社区居民的操心事、烦心事、揪心事,一件一件加以解决;发挥居民自治功能,把社区居民积极性、主动性调动起来,做到人人参与、人人负责、人人奉献、人人共享;推进“法律服务进社区”,大到“村规民约”“社区公约”审核,小到楼道整治方案起草,都由聘请的律师把关,形成“政府出资、律师服务、居村受益”三方共赢的良好格局。该市的城市治理实践证明,只要坚持为了人民、依靠人民、服务人民,城市治理就能交出让人民满意的答卷。

结合材料,运用政治生活知识,分析该市是如何打造共建共治共享的社会治理格局的。





40. 阅读材料,完成下列要求。(26分)

40年来,在我国波澜壮阔的改革开放伟大进程中,涌现出一大批勇立时代潮头、锐意改革创新、敢于实践探索的先锋模范。他们来自各行各业。有装备强国、产业报国的轨道交通装备技术创新和产品升级换代的主要组织者孙永才;有作为首席科学家主持研发世界首颗量子实验卫星“墨子号”于2016年飞向太空的潘建伟;有“大包干”带头人之一、当年的生产队队长严俊昌;有敢为人先、冲破思想观念束缚、创办新疆第一所民办国家通用语言小学,用教育改变贫穷落后面貌、改变学生人生命运的库尔班尼亚孜……他们是改革开放伟大奇迹的实践者、创造者和推动者,为推动改革开放做出了杰出贡献。中国特色社会主义进入新时代,需要广大青年向先锋模范学习,在全面深化改革开放中放飞梦想,激扬青春,书写无愧于时代的壮丽篇章。

(1)先锋模范是改革开放伟大奇迹的实践者、创造者和推动者。请运用社会历史主体的知识加以说明。(10分)



工大教育

(2)结合材料,运用文化生活的有关知识,分析中国特色社会主义新时代需要广大青年学习先锋模范的原因。(10分)

(3)推进“改革开放精神进学校、进课堂、进学生头脑”的“三进”活动是践行社会主义核心价值观的重要落脚点。请就如何推动“三进”活动提出三条建议。(6分)





41. 阅读材料,完成下列要求。(25分)

材料一 棉花种植,最早出现在公元前5-4千年的印度河流域文明中。在棉花传入中国之前,中国只有可供充填枕褥的木棉,没有可以织布的棉花。一般认为棉花是从南北两路向中原传布的。南路最早出现棉花的地区是海南和澜沧江流域,之后传到闽、粤、川等地区;北路始于西北地区。宋元之际,棉花从南北两路传布到长江和黄河流域广大地区。到13世纪,北路棉花已传到陕西渭水流域。唐宋以后,人们越来越看出棉花作为絮衬和纺织原料的优越性。《农书》说棉花是“比之桑蚕,无采养之劳,有必收之效。免绩缉之功,得御寒之益,可谓不麻而布,不茧而絮”,“又兼代毡毯之用,以补衣褐之费”。元以后的历代统治者都极力征收棉花棉布,出版植棉技术书籍,劝民植棉。到了明代,棉花已超过丝、麻、毛,成为主要的纺织原料,“棉布寸土皆有”,“织机十室必有”。

——摘编自于峻极《棉花加工工业发展历史》等

材料二 鸦片战争前,中国的棉花和棉布不仅自给,还输出到欧洲、美洲、日本和东南亚地区。美国商人到中国来贩运货物,以土布为主,不仅销到美国,还转销到中、南美洲乃至西欧。19世纪初30年间,从广州运出的土布平均每年在100万匹以上,最多的一年(1819年)曾经达到330多万匹。英国也曾经大量销用中国土布。而两次鸦片战争后,“中国进口洋布每年约1500万匹,值银3000万两,岁进口之纱,至值银1350万两”。1871~1873年洋纱进口3.7万公担,到1909~1911年增长到132万公担。从1894年至1913年的20年中,土布生产中使用洋纱的比重已经高达73%(包括国内生产的机纱)。“民间之买洋布洋棉者,十室而九。由是江浙之棉布,不复畅销,商人多不贩运;而闽产之土布土棉,遂因之壅滞,不能出口。”

——做最感动客户的专业教育组织
——据方显廷《中国之棉纺织业》等整理

(1)根据材料一并结合所学知识,概括我国历史上种植利用棉花的特点。(8分)

(2)根据材料二并结合所学知识,评述鸦片战争前后中国棉纺织业的变化。(12分)

(3)根据以上材料并结合所学知识,说明从古代到近代棉花利用的共同价值。(5分)





42. 阅读材料,完成下列要求。(12分)

材料 如果说文艺复兴时期的艺术家和人文主义者们开创了一种趋势的话,那么启蒙思想便是这种趋势的最高峰。启蒙思想家们力图运用理性来分析自然界、政府、宗教、法律、经济和教育,而不愿借鉴任何基督教教义,彻底摒弃了宗教界拥有圣贤的论说。他们强调个人的潜在价值,将好的现世生活视为生命的真正目的,坚信个人能够通过理性之光完善自身和社会。代表人物洛克、孟德斯鸠、卢梭等人提出了建立在全新的国家与个人关系概念之上的政治哲学,认为国家的存在不应只是聚敛权力,也应该增加人类的幸福。基于这一观点,毫无建树的君主制甚至寡头政治,都越来越显得难以适应。在孟德斯鸠看来,只有划分国家的权力,才能保障人民的自由,才能避免暴君政体的出现。在卢梭看来,人民彼此都以平等身份共同签订契约,毫无保留地把自己和自己的一切权力都转让给整个集体而非任何个人。故“人民作为整体来说就是主权者”拥有“至高无上的权威”。

——摘编自马文·佩里《西方文明史》

上述材料隐含了许多历史概念,从中提取一个相关概念,并结合世界史所学知识进行阐述。(要求:提取的历史概念与材料所述内容相关,并能从概念内涵及其形成发展和影响等方面阐述。)

(二)选考题:共25分。请考生从2道地理选考题、3道历史选考题中每科任选一题作答。如果多做,则每科按所做的第一题计分。

43.【地理——选修3:旅游地理】(10分)

潜水旅游是指在潜水教练引导下,以水下休闲观光和娱乐(观赏海洋生物、水下摄影、种植珊瑚等)为目的的潜水活动。休闲潜水有自身的魅力,但也有一定的专业性,必须经过专业的培训方可进行。马来西亚刁曼岛是顶级的潜水天堂,该国政府规定刁曼岛方圆25千米以内不得从事任何捕捞活动,岛上建有完善的潜水旅游设施,拥有自己的机场、多个码头和医院,有稳定的淡水供应、电力保障和网络服务,目前有21家专业潜水中心。图11示意刁曼岛及其地理位置。

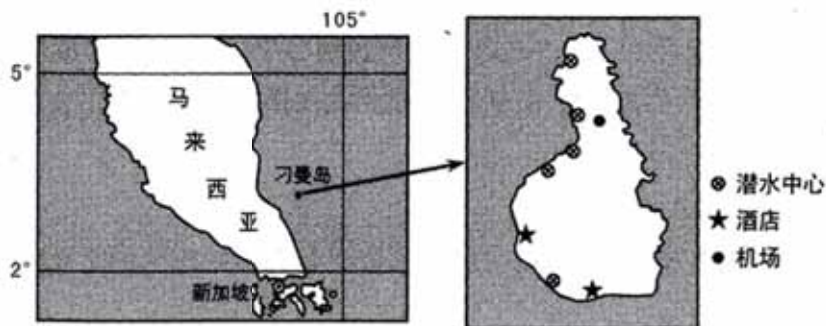


图 11

分析刁曼岛成为潜水天堂的优势条件。





44.【地理——选修 6:环境保护】(10 分)

微塑料是指直径小于 5 微米、污水处理厂无法过滤、由高分子聚合物构成的颗粒或者纤维。塑料垃圾、洗涤化纤纺织品、行驶中的车辆轮胎、皮肤去角质产品等是产生微塑料的主要来源。2017~2018 年美国亚利桑纳州大学地球生态环境研究所分别对全球 14 个国家的自来水和全球 11 个品牌瓶装水进行了抽样检查测试,发现 83%自来水样品和 92%瓶装水出现微塑料污染现象。这意味着人类赖以生存的自来水的水源基本都被微塑料侵袭。国内外也有报道在食盐、海盐、啤酒和蜂蜜等产品中检出了微塑料。

说明微塑料对地理环境产生的危害并提出可行性治理措施。

45.【历史——选修 1:历史上重大改革回眸】(15 分)

材料 随着新中国的成立,各项建设事业掀开了崭新一页。《共同纲领》发出号召:“人民政府应有计划、有步骤地改革旧的教育制度。”1951 年 10 月 1 日,政务院命令颁布了《关于学制改革的决定》。主要包括:幼儿教育,幼儿园招收 3~7 岁的幼儿;初等教育,包括儿童和成人的初等教育,儿童初等教育 7 岁入学,年限 5 年,施以全面的基础教育;中等教育,包括中学、业余工农速成中学、业余学校、中等专业学校;高等教育,包括大学、专门学院、专科学校、各种政治学校 and 政治训练班。新学制明确规定工农速成教育和各级各类业余教育与其他各种教育占同样重要的地位。同时,还规定设立各级各类补习学校和函授学校,设立聋、哑、盲等特种学校;各种为培养国家建设人才所必需的技术学校被列入了正规的教育系统,并建立了必要的制度;各种学校教育在整个教育系统中都能够互相衔接,从初等教育到高等教育形成了人民教育的一条康庄大道。……新学制从 1952 年起,在全国各地按照具体情况有计划、有重点地逐步推行。

——摘编自李建平《新中国成立初期的学制改革》

(1)根据材料并结合所学知识,概括新中国成立初期学制改革的主要特点。(8 分)

(2)根据材料并结合所学知识,说明新中国成立初期学制改革的重要意义。(7 分)





46.【历史——选修3:20世纪的战争与和平】(15分)

材料 1939年4月至8月,苏联就三国保障中欧和东欧国家的安全、缔结三国相互援助的具体协议向英法提出一些建议,但谈判无果,英、法同意了德国在东欧和中南欧自由行动。5月到8月间,希特勒一再通过外长向苏联表示德国无意侵略苏联,并希望改善彼此关系。1939年5月,日本在远东地区挑起“诺门坎事件”,向苏联发动进攻,而德、日又在谈判结成军事同盟。8月2日,希特勒直接电告斯大林,要求苏德会谈签约。同时,德国外长里宾特洛甫带着希特勒亲笔签字的全权证书,动身前往莫斯科,他称:“从波罗的海到黑海没有一个问题不能通过协商解决并使双方都感到满意。”23日正午,两架“秃鹫”运输机载着德国代表团到达莫斯科。斯大林、莫洛托夫和里宾特洛甫通过两次会谈,当晚,双方正式签订《苏德互不侵犯条约》。条约规定,缔约双方彼此互不使用武力,任何一方将不参加直接或间接反对他方的国家集团;当一方受到第三国进攻时,另一方不给予第三国任何支持;就彼此有关问题,密切接触,交换情报;和平解决相互间的一切争端;有效期10年。

——摘编自高明振《关于苏德互不侵犯条约的几点看法》等

(1)根据材料并结合所学知识,分析苏联同德国签订《苏德互不侵犯条约》的原因。(7分)

(2)根据材料并结合所学知识,说明《苏德互不侵犯条约》的影响。(8分)

47.【历史——选修4:中外历史人物评说】(15分)

材料 颜真卿,唐代著名政治家、书法家,为历代书法界所推崇。安禄山起兵范阳时,河北各郡皆降服,唯有任平原太守的颜真卿固守平原城,为义军盟主,为唐朝尽力。最后奉德宗之命,前往叛将李希烈处劝降,不幸遇害。其字如其人,自始至终均用正铎,书法雄秀端庄,结字由初唐的瘦长变为方形,方中见圆,具有向心力。用笔浑厚强劲,大气磅礴,多力筋骨,彻底摆脱了初唐的风范,创造了新的时代书风。面对中唐以后,藩镇割据,兵连祸结,旧有制度已呈现瓦解之势,颜真卿起而建立楷书新典范是渴望重建新秩序的一种反映。

——据《旧唐书》等整理

(1)根据材料并结合所学知识,简析颜真卿书法艺术风格形成的背景。(8分)

(2)根据材料并结合所学知识,说明颜真卿备受历代书法家推崇的原因。(7分)

