



2019~2020 学年第一学期八年级阶段性测评

地理 试卷

(考试时间:上午 10:00—11:30)

说明:本试卷为闭卷笔答,答题时间 90 分钟,满分 100 分。

题号	一	二				总分
		21	22	23	24	
得分						

一、选择题(本题共 20 个小题,每小题 2 分,共 40 分。下列各题的选项中,只有一项符合题意,请将正确选项的序号填入下表相应位置。)

题号	1	2	3	4	5	6	7	8	9	10
答案										
题号	11	12	13	14	15	16	17	18	19	20
答案										

中华人民共和国第二届青年运动会开幕式于 2019 年 8 月 8 日在山西体育中心隆重举行。会徽“山河”造型显示连绵起伏的山峦,分别代表太行山和吕梁山,两山中间线条是穿流而过的汾河。据此完成 1、2 题。

1. 山西省的简称是

- A. 冀 B. 晋 C. 陕 D. 豫

2. 位于山西省东部、且属于我国地势二、三级阶梯分界线的山脉是

- A. 太行山 B. 吕梁山 C. 天山 D. 昆仑山

3. 地处山西的五台山是我国夏季著名的避暑胜地之一,主要影响因素是

- A. 纬度位置 B. 季风 C. 海陆分布 D. 地形

4. 我国年降水量最多的地方是

- A. 山东青岛 B. 海南海口 C. 台湾火烧寮 D. 福建福州

2019 年 7 月 6 日,位于浙江省的“良渚古城遗址”获准列入世界遗产名录。至此,中国拥有的世界遗产项目数已达到 55 项,与意大利并列世界第一。据此完成 5、6 题。

5. 浙江省的行政中心是

- A. 南京 B. 福州 C. 合肥 D. 杭州

6. 我国的行政区域划分为三级,其中省级行政区域共包括

- A. 23 个 B. 4 个 C. 34 个 D. 5 个

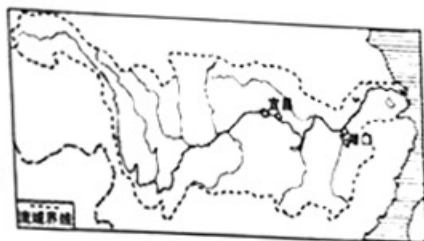




随着分享经济市场的到来,智能化和简单化已成为一种生活方式,继“共享单车”之后,一些城市推出了“共享雨伞”“共享充电器”等,让您不再为出行发愁。据此完成7、8题。

7. 如果只考虑降水因素,下列城市使用“共享雨伞”频率最高的可能是
A. 北京 B. 太原 C. 海口 D. 拉萨
8. 下列关于“共享单车”的影响,叙述正确的是
A. 符合低碳出行,利于节约资源 B. 市民出行方便,应无限量投放
C. 增加管理难度,坚决全部取缔 D. 加剧道路拥堵,导致出行不便

改革开放40年来,长江干线年货运量连续多年稳居内河航运世界第一。目前,亿吨大港14个、万吨级生产性泊位587个,形成了三大航运中心。据此完成9~11题。



9. 歌曲《长江之歌》“你从雪山走来,春潮是你的丰采,你向东海奔去……”中的“雪山”指的是
A. 昆仑山 B. 冈底斯山 C. 唐古拉山 D. 喜马拉雅山
10. 下列关于长江各河段的生态环境问题,叙述正确的是
A. 上游水污染严重 B. 中游易发生洪涝
C. 下游土地荒漠化 D. 发源地沙漠广布

11. 长江被誉为我国的“黄金水道”,主要原因是
A. 河流流程最长 B. 流域面积最大 C. 水能资源丰富 D. 航运价值最高

《舌尖上的中国》有这样的描述:中国拥有世界上最富戏剧性的自然景观……有助于物种的形成和保存,任何一个国家都没有这么多潜在的食物原材料。据此完成12~14题。

12. 我国有丰富的食物原材料,最主要原因是
A. 海陆兼备,国土面积小 B. 河湖众多,水资源丰富
C. 地形多样,以平原为主 D. 气候复杂,类型多样

13. 下列温度带所分布的地区,耕作制度一年三熟的是
A. 中温带 B. 暖温带 C. 亚热带 D. 热带

14. 我国有四个干湿地区,年降水量在800mm以上的是
A. 湿润地区 B. 半湿润地区 C. 干旱地区 D. 半干旱地区

15. 塔里木河是我国流程最长的内流河,其水源补给主要依靠
A. 大气降水和冰雪融水 B. 山地降水和冰雪融水
C. 大气降水和地下水 D. 山地降水和地下水

16. 我国最大的淡水湖是
A. 洞庭湖 B. 鄱阳湖 C. 太湖 D. 晋阳湖

17. 下列少数民族与传统节日搭配正确的是
A. 回族——那达慕大会 B. 彝族——歌墟节
C. 傣族——泼水节 D. 壮族——火把节





读“2015~2018年中国人口统计图表”，完成18~20题。

18. 2015年至2018年期间，我国人口变化的特点是

- A. 自然增长率先变小后变大 B. 总数先减少后增加
C. 自然增长率先变大后变小 D. 总数先增加后减少

19. 我国计划生育成效显著，但每年新增人口还很多，主要原因是

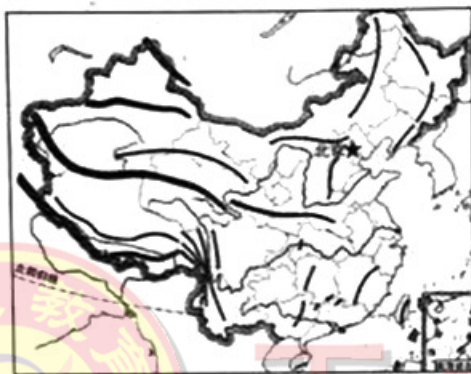

- A. 人口增长过快 B. 人口基数大 C. 国家政策支持 D. 人口老龄化

20. 我国全面放开二孩政策可能带来的影响主要有

- A. 缩小城乡差距 B. 缓解人口老龄化 C. 减少人口总数 D. 提高经济效益

二、非选择题(本题共4个小题，每小题15分，共60分。)

21. (15分)读“我国主要山脉分布、大型水电站分布示意图”，完成下列要求。



(1)在左图中用2B铅笔或碳素笔描出我国地势三级阶梯的分界线。(2分)

(2)按要求完成下列表格。(6分)

主要山脉		两侧的地形区	
		北 侧	南 侧
东西走向	天山		塔里木盆地
	昆仑山	塔里木盆地	
		西 侧	东 侧
东北—西南走向	大兴安岭		东北平原
	太行山	黄土高原	
	巫山		长江中下游平原
	雪峰山	云贵高原	

(3)说出我国山区面积广大对人们生产生活的有利、不利影响。(4分)

(4)说出我国大型水电站的分布特征及其主要原因。(3分)





22. (15分)【案例分析】我国复杂多样的气候

材料一 中华人民共和国成立70周年之际,国内外优秀摄影作品凝聚成一部惊爆眼球、全程爆燃的4K巨制——《韵动中国2019》,从百米高空俯瞰都市,在古城墙下品茶小憩,去戈壁深处仰望星空,到广袤草原策马奔腾,一个个镜头讲述了祖国日新月异的发展变化,也体现了我国广袤国土上不同地区的气候差异。

材料二 部分摄影作品



吐鲁番



杭州西湖

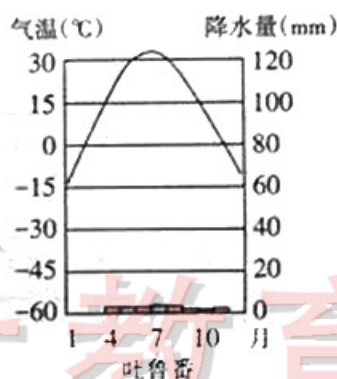
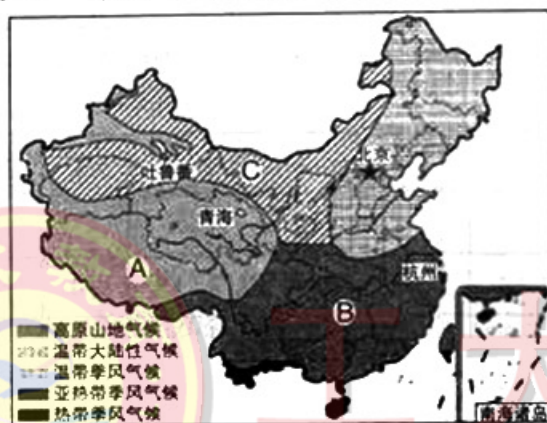


青海湖



北京故宫

材料三 “中国气候类型分布示意图”



案例思考:

(1)写出图中字母所代表的气候类型名称。(3分)

A. _____ B. _____ C. _____

(2)亚热带季风气候和温带季风气候的分界线大致与_____—_____一线吻合,该线是我国一月_____℃等温线通过的地方。摄影作品的拍摄地不同,其中一月平均气温大于0℃的是_____。(4分)

(3)说出吐鲁番降水的特征及其主要原因。(3分)

(4)描述我国气候的主要特征。(2分)

(5)简单评价我国季风气候对农业生产的影响。(3分)

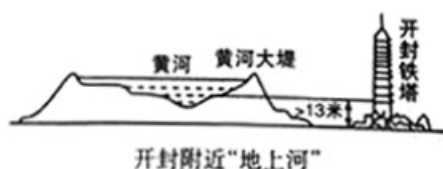




23. (15分)【案例分析】“母亲河”——黄河

资料一 黄河是中华文明最主要的发源地,中国人称其为“母亲河”。黄河每年的输沙量高达16亿吨,形成世界闻名的“地上河”。一直以来“母亲河”体弱多病,曾经水患频繁。2019年9月18日上午,习近平主席在郑州主持召开黄河流域生态保护和高质量发展座谈会时强调,“治理黄河,重在保护,要在治理。要充分考虑上中下游的差异;完善水沙调控机制,解决九龙治水、分头管理问题;坚持以水定城、以水定地、以水定人、以水定产……让黄河成为造福人民的幸福河。”

资料二 “黄河水系示意图”



案例思考:

(1)在左图中用2B铅笔或碳素笔描出黄河的“干流”。(1分)

(2)写出图中字母所代表的地理事物名称。(4分)

上、中、下游分界点:A _____ B _____

两大支流:C _____ D _____

(3)黄河发源于青藏高原上的 _____ 北麓,注入渤海,流域面积75万平方千米,全长5464千米,是我国的第 _____ 长河。(2分)

(4)说出你对黄河“体弱多病”的理解。(2分)

(5)说出黄河“地上河”所分布的河段及其主要原因。(3分)

(6)9月18日,习主席在座谈会上强调,“治理黄河,重在保护,要在治理……”请你为保护“母亲河”献计献策。(3分)






24. (15分)【生活调查】从地理视角看中国

材料一 2019年10月1日,在热烈庆祝新中国成立70周年之际,中国邮政发行《中华人民共和国成立七十周年》纪念邮票,展示了祖国在经济、政治、文化、社会、生态文明等方面取得的巨大成就。其中,小型张邮票图案是以牡丹花为衬的数字“70”及扬帆起航的巨轮,边饰则以各族人民载歌载舞的欢庆画面,表现“祝福祖国”70华诞的寓意。

材料二 “中国的疆域示意图”



《中华人民共和国成立七十周年》
纪念邮票小型张

调查思考:

(1)在图中用2B铅笔或碳素笔描出山西省的轮廓。(1分)

(2)写出图中字母所代表的地理事物名称。(3分)

大洋:A _____ 海域:B _____ 国家:C _____

(3)我国地域辽阔,陆地面积约 _____ 平方千米,居世界第三位。邮票中各族人民载歌载舞,一片欢庆场面,显示出我国是一个团结统一的多民族国家,共有 _____ 个民族,其中 _____ 族人口最多。(3分)

(4)2019年10月1日,当我国东边乌苏里江洒满金色阳光的时候,西边帕米尔高原还是满天星斗,造成这种差异的主要原因是() (2分)

A. 南北跨纬度广 B. 地形差异大 C. 东西跨经度广 D. 气候差异大

(5)小小邮票,方寸世界。说出纪念邮票小型张中的数字“70”所代表的含义。(2分)

(6)从纬度、海陆位置描述我国地理位置的优越性。(4分)

