



太原市 2018-2019 学年第二学期八年级期末考试

历史试卷

(考试时间: 下午 5: 00-6: 30)

说明: 本试卷为闭卷笔答, 做题时间 90 分钟, 满分 100 分。

题 号	一	二	三	四	总 分
得 分					

一、单项选择题 (每小题 2 分, 共 30 分)

题号	1	2	3	4	5	6	7	8	9	10	11	12	13	14	15
选项															

1. 20 世纪 90 年代初, 中国共产党召开了一次重要的会议。会议召开后不久, 有外电评论道: “这是一次加速和外国接轨的会议, 中国必然会进一步影响世界。” 外电评论的是

- A. 中共十一届三中全会
- B. 中共十二大
- C. 中共十四大
- D. 中共十五大

【答案】C

【解析】由题中给出的时间信息“20 世纪 90 年代初”可知为中共十四大, 1992 年召开, 会议确立了社会主义市场经济体制的改革目标。1978 年 12 月 18 日-22 日, 中国共产党第十一届中央委员会第三次全体会议在北京举行。全会的中心议题是根据邓小平同志的指示讨论把全党的工作重点转移到经济建设上来。中共十二大是在 80 年代。中共十五大在 1997 年。

2. 学习历史, 需要分清哪些是史实, 哪些是观点。下列表述属于观点的是

- A. 20 世纪末, 中央决定进行西部大开发
- B. 2006 年 7 月 1 日, 青藏铁路全线通车
- C. 2017 年“构建人类命运共同体”理念首次被写入联合国决议
- D. 邓小平是中国改革开放和社会主义现代化建设的总设计师

【答案】D

【解析】区分史实和观点, 所谓的事实就是客观存在的事物, 比如: 姓名、地点、日期等; 观点具有主观性, 常用来表达个人看法、情感体验和主观判断等。四个选项当中只有 D 项没有明确的时间, 是一个评论性的语句。

3. 下图是新中国成立后发行的第四套人民币部分票样, 这些货币上除了汉字还印有一些少数民族的文字, 部分面值主图案采用了身穿民族服饰的人物形象。这些设计理念体现了





- ①民族团结原则 ②民族平等原则 ③尊重民族文化 ④我国是统一的多民族国家

- A. ①②③④
B. ①②③
C. ①②④
D. ②③④

【答案】A

【解析】根据题意，人民币上有少数民族的文字和人物，体现了我国是统一的多民族国家，民族团结、平等以及尊重民族文化。

4. 邮票承载历史记忆，在方寸之间，忠实镌刻时代的烙印。下面是一组关于“西藏重大历史事件的纪念邮票，对于这组邮票中的历史信息解读正确的是



- ①都建成于社会主义现代化建设新时期 ②都体现了党和政府重视少数民族地区发展
③都加强了边疆地区与祖国内地的联系 ④都反映了西藏地区交通运输事业的进步

- A. ①②③
B. ①②④
C. ①③④
D. ②③④

【答案】D

【解析】“青藏公路”是在一五计划期间建成的，不是在社会主义现代化建设新时期，故排除第一个。

5. 1987年中葡两国领导人在北京签订了《中葡联合声明》，1988年两国正式批准生效，标志着澳门回归祖国迈出了决定性的一步。今年（2019年）是澳门回归祖国

- A. 32周年
B. 31周年
C. 20周年
D. 25周年

【答案】C

【解析】由所学知识可知澳门回归在1999年，故今年是回归20周年。

6. “新形势下，团结、友谊、合作的万隆精神仍然具有强大生命力。”1955年，为了推动万隆会议的成功召开，周恩来总理在会上提出了

- A. “求同存异”的方针
B. 独立自主的和平外交政策



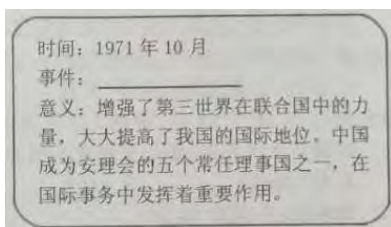


- C. 和平共处五项原则
D. 和平与发展是时代的主题

【答案】A

【解析】由所学知识可知，1955 年，万隆会议上，周恩来提出“求同存异”的方针。易混的是和平共处五项原则，它是在 1953 年 12 月，周恩来总理在会见印度代表团时第一次提出和平共处五项原则。

7. 制作知识卡片是学习历史的一种重要方法。右图是小蕊同学制作的一张知识卡片，卡片中的事件应填写



- A. 中国提出和平共处五项原则
B. 中国恢复联合国合法席位
C. 中美正式建立外交关系
D. 中国加入世界贸易组织

【答案】B

【解析】解析：由“1971 年”、“联合国”、“安理会常任理事国”，可知事件为中国恢复联合国合法席位。

8. 2019 年是我国第一颗原子弹爆炸成功 55 周年。早在 1958 年中央军委的一次扩大会议上，毛泽东说：“原子弹就是这么大的东西。没有那个东西，人家说你不算数，那么好吧，我们就搞一点吧，搞一点原子弹、氢弹，我看有 10 年功夫完全可能。”从毛泽东的表述中可以得出中国研制原子弹的直接目的是

- A. 充当世界霸主
B. 增强国防力量
C. 促进经济发展
D. 改善人民生活

【答案】B

【解析】解析：A 项可以排除，C、D 项题中未提及。“没有那个东西，人家说你不算数”，原子弹属于国防建设内容，所以选择 B 项。

9. 习近平称赞我国许多科学家都是“干惊天动地事，做隐姓埋名人”的民族英雄。右图人物是其中的杰出代表，34 岁的他告别妻儿隐姓埋名，在戈壁沙漠为中国核武器的研制工作整整奋斗 28 个春秋，最后因核辐射过量而去世，为祖国国防事业的发展做出了巨大的贡献。他是



- A. 邓稼先
B. 王进喜
C. 袁隆平





D. 焦裕禄

【答案】A

【解析】“核武器”、“国防事业”可知材料指的是邓稼先，著名核物理学家；B项王进喜是石油工人，被称为“铁人”；C项袁隆平，中国杂交水稻育种专家，被誉为“世界杂交水稻之父”；D项焦裕禄，兰考县委书记。

10. 2016年10月17日，一位山西籍航天员和同伴驾乘神舟十一号载人飞船完成与天宫二号空间实验室交会对接，11月18号完成任务后，顺利返回地面。这是他第三次执行航天飞行任务。为我国载人航天事业作出重大贡献。这位山西籍的航天员是

- A. 杨利伟
- B. 刘旺
- C. 费俊龙
- D. 景海鹏

【答案】D

【解析】杨利伟和费俊龙分别为辽宁省人和江苏人；B项，2012年6月16日，山西省平遥县人刘旺乘神舟九号飞船和景海鹏、刘洋执行天宫一号与神舟九号载人交会对接任务。D项景海鹏山西运城人，2012年6月，与刘旺，刘洋一起乘坐神舟九号飞船执行天宫一号与神舟九号载人交会对接任务。2016年10月，与陈冬执行神舟十一号飞行任务。

11. “在20世纪五六十年代的中国，不同地方的人们之间的通信主要靠信件传递。那时一封信要走几天甚至几个星期才能到达。21世纪的中国，人们可以随时随地通过手机和互联网与千里之外的亲友联系，方便快捷。”材料描述的是新中国成立以来

- A. 信件传递方式的变化
- B. 通信方式的变迁
- C. 手机和互联网的使用
- D. 交通方式的变迁

【答案】B

【解析】由材料之前“靠信件传递”到后来“通过手机和互联网联系”可知，两者都属于通信方式，所以选择B。

12. 改革开放三十多年来，中国经济实力和综合国力大幅增强，人民生活水平得到了普遍提高，社会生活的各个方面发生了翻天覆地的变化。下列生活景象出现在改革开放后的有

- ①衣着千篇一律，“蓝灰色的海洋”
 - ②城镇居民凭票购买食物与生活用品
 - ③服饰追求时尚个性，丰富多彩
 - ④开私家车出行旅游的人越来越多
 - ⑤休闲娱乐成为人们日常生活的一部分
- A. ①②③
 - B. ②③④
 - C. ①③⑤
 - D. ③④⑤

【答案】D

【解析】结合所学知识可知1、2都在改革开放前，故排除。





13. 2008 年, 中国北京成功举办奥运会; 2014 年, 中国南京成功举办青奥会; 2015 年, 中国北京申办 2022 年冬奥会成功。这一切说明了

- ①中国综合国力的增强
- ②中国的体育项目均是世界强项
- ③党和政府对体育运动的重视
- ④中国举办国际体育盛会的经验日益丰富

- A. ①②③
- B. ①③④
- C. ②③④
- D. ①②④

【答案】B

【解析】第二项说法太绝对, 故排除。

14. 2015 年 10 月, 中共十八届五中全会通过了《中共中央关于制定国民经济和社会发展第十三个五年规划的建议》, 提出要用新发展理念为“十三五”谋篇布局。这里的“新发展理念”指的是

- A. 富强、民主、文明、和谐、创新
- B. 自由、平等、公正、法治、绿色
- C. 爱国、敬业、诚信、友善、开放
- D. 创新、协调、绿色、开放、共享

【答案】D

【解析】ABC 项是社会主义核心价值观的内容。“新发展理念”指创新、协调、绿色、开放、共享, 故选 D。

15. 2012 年 10 月 11 日, 瑞典文学院宣布将诺贝尔文学奖授予莫言, 以表彰其“作品中充满魔幻现实主义色彩, 是历史和现实的并存”。莫言获得诺贝尔文学奖的代表作是

- A. 《红高粱》
- B. 《蛙》
- C. 《春夜雨菲菲》
- D. 《百年孤独》


【答案】B

【解析】ABC 项均为莫言作品, 由史实可知莫言获得诺贝尔文学奖代表作是《蛙》。D 项《百年孤独》是哥伦比亚作家加西亚·马尔克斯创作的长篇小说。

二、简答题 (本题共 14 分)


16. 中国特色社会主义道路是中国人民的历史选择, 是实现中国梦的必由之路。回答下列相关问题。

(1) 根据下面年代尺上的信息, 分别写出①所对应的会议名称和②③会议所确立的指导思想。(3 分)





(2) 下面图片所反映的历史史实有何相同点? (4分)



(3) 列举十八大以来我国加快构建开放型经济新体制的具体举措。(4分)

(4) 2013年,习近平在十二届全国人大一次会议上,阐述了中国梦的宏伟蓝图,写出其基本内涵。(3分)

【答案及解析】

(1)

①中共十三大(1分);

②确立了邓小平理论为党的指导思想(1分);

③习近平新时代中国特色社会主义思想确立为党的指导思想(1分)

(2) 都在社会急剧变化的背景下提出;都是一场深刻的思想解放运动;都解放了思想,推动了改革开放的进程。

评分说明: 答出任意一点得2分,共4分。

(3) 深入实施“一带一路”战略;筹建和成立亚洲基础设施投资银行;加快自由贸易试验区建设;推进人民币国际化进程等。

评分说明: 答出任意一点2分,共4分。

(4) 基本内涵: 实现国家富强(1分)、民族振兴(1分)、人民幸福(1分)

三、材料解析题(本大题共两个小题,每小题16分,共32分)

17. 外交,就是处理国与国之间关系的政治活动。外交活动,既要靠外交智慧更要靠国家实力。阅读下列材料,回答相关问题。(16分)

材料一 新中国在建国初期所遇到的国际环境,一方面是社会主义国家和各国人民的友好和善意,一方面是美国为首的反动势力的敌视和侵略。……新中国……作为一个新型的国家,要为抛弃旧中国的外交传统,建立新中国独立、自主、平等的对外关系而努力。

——《中国外交史》

(1) 根据材料一,概括建国初期国际环境的突出特点及新中国的外交方针(政策)。(4分)

材料二 世界各国不分大小强弱,不论其社会制度如何,是可以和平共处的。各国人民的民族独立的自主权利是必须得到尊重的。各国人民都应该的选择其国家制度和生活方式的权利,不应受到其他国家的干涉。……如果这些原则能为一切国家所遵守,则社会制度不同的国家和平共处就有了保证,而侵略和干涉内政的威胁和对于侵略和干涉内政的恐惧就将为安全感和互信所代替。

——摘自《中华人民共和国对各国关系文件集》第3集

(2) 材料二中所说的“这些原则”指什么? 这些原则的提出有什么历史意义?(4分)





材料三 以“小球转动大球”而作为“破冰之旅”载入新中国外交史册的“乒乓外交”曾经备受瞩目。对此事件周恩来总理引用《论语·学而篇》中“有朋自远方来，不亦乐乎”表达中国政府的心情，并开心地说“现在，门打开了”。

——《环球时报》

(3) 材料三中“门打开了”指的是我国外交领域中的哪一重大历史事件？并简述其出现的历史背景（4分）

材料四 改革开放以后，中国积极发展全球伙伴关系，秉持共商共建共享的全球治理观，顺应和平、发展、合作、共赢的时代潮流，积极参与全球治理体系改革和建设，推动构建人类命运共同体。中国积极拓展多边外交，……为解决区域性争端，维护世界和平和建立一个公正合理的世界新秩序而努力。

——摘自人教版八下教材

(4) 根据材料四，简述中国“积极拓展多边外交”的具体表现。（4分）

【答案及解析】

(1) 突出特点：一方面是社会主义国家和各国人民的友好和善意，一方面是美国为首的反动势力的敌视和侵略或美、苏为首的资本主义和社会主义两大阵营对峙。（2分）

方针（政策）：独立自主的和平外交方针。（2分）

(2) 和平共处五项原则（2分）；意义：在国际上产生越来越广泛的影响，成为解决国与国之间问题的基本准则。（2分）

(3) 事件：中美关系正常化或尼克松访华（2分）；背景：20世纪70年代国际形势的变化和中国国际地位的提高，改善中美关系成为两国共同需要。（2分）

(4) 举办“一带一路”国际合作高峰论坛；召开亚太经合组织领导人非正式会议(APEC)；承办二十国集团领导人峰会(G20)；举行金砖国家领导人会晤(BRICS)等。

评分说明：答出任意一点2分，共4分。

18. 完成祖国统一大业，是中华民族的根本利益所在，是炎黄子孙的共同心愿。阅读下列材料，结合所学知识，回答问题。（16分）

材料一 对上级国家机关的决议、决定、命令和指示，有不适合民族地方实际情况的，可在报经上级机关批准后变通执行。……各自治地方都是中华人民共和国不可分离的部分。

材料二 1979年以后，台湾同胞来大陆探亲的明显增多。1987年底，台湾当局放宽居民赴大陆探亲的限制，当年就有3万多名台湾同胞来大陆探亲。第二年，两岸人员往来就达到40余万人次。1992以后，每年来祖国大陆的台湾同胞超过百万人次。2008年7月，台湾开放大陆居民赴台旅游，大陆赴台旅游民众日益增多。2011年6月8日，大陆居民赴台个人旅游正式启动，两岸民众交往更加密切。

——摘自部编版《中国历史》八年级下册

材料三 香港问题为什么能够谈成呢？并不是我们参加谈判的人有特殊的本领，主要是我们这个国家这几年发展起来了，是个兴旺发达的国家，有力量的国家，而且是个值得信任的国家……当然，香港问题能够解决好，还是由于“一国两制”的根本方针或者说战略搞对了，也是中英双方共同努力的结果。

——邓小平《在中央顾问委员会第三次全体会议上的讲话》

(1) 材料一反映的是我国在少数民族地区实行的哪一项基本国策？其被确立为我国一项基本政治制度的最早法律依据是什么？（4分）

【答案】民族区域自治制度；（2分）《中国人民政治协商会议共同纲领》或《共同纲领》（2分）

【解析】本题考查新中国成立后，我国在少数民族地区实行的基本国策及其被确立为我国一项基本政治制度的最早法律依据。本题为知识性考查，结合所学知识回答即可。

(2) 根据材料二及所学知识，简述两岸关系缓和与发展的进程。（4分）





【答案】1979年,中国人民解放军奉命停止对金门和马祖的炮击,中央人民政府倡议海峡两岸直接实行通邮通航通商,海峡两岸局势逐步走向缓和;1987年台湾当局调整“三不”政策,开放台湾居民赴大陆探亲,海峡近40年的隔绝状态被打破;1992年,海基会、海协会达成“九二共识”,海峡两岸关系迈出历史性重要一步;2008年,两岸达成空运直航、海运直航、邮政合作等协议,随后,两岸同时举行“三通”启动仪式,两岸关系取得重大进展等。

【解析】本题材料中已经给出明确的时间线索,如1979、1987、1992及2008等,根据所给时间并结合所学知识,将两岸关系缓和与发展进程的历史史实正确表述出来即可。答出任意一点2分,共4分。

(3) 根据材料三,概括香港能够顺利回归祖国的原因。(4分)

【答案】香港自古以来就是中国的领土;改革开放以来综合国力的显著增强;“一国两制”伟大构想的推动;全国人民的支持;

【解析】本题是原因类试题,在回答这类试题时,既要考虑历史原因又要考虑现实原因,综合分析即可得出答案。答出任意一点2分,共4分。

(4) 试比较材料一、三所反映的两项政治制度的相同点和不同点。(4分)

【答案】相同:都以国家统一为前提(服从中央政府统一领导);都有利于维护国家的统一;都是地方行政管理体制;地方都享有一定的自治权。不同:社会制度不同;适用地区不同;设置目的不同(一个是解决民族问题,一个解决历史遗留问题)。

【解析】本题是要比较民族区域自治制度和“一国两制”的相同点和不同点,比较类试题首先要明确从哪些方面进行比较,抓住比较点进行有效的比较,对于政治制度比较题一般从目的、作用、影响等几方面比较即可。相同和不同各答出任意一点得2分,共4分。

四、探究题(本大题共24分)

19. “科技强国”“科技强军”“科教兴国”“科学技术是第一生产力”这些都说明了科技在经济和国防等领域的重要地位。请围绕“科技强国兴军”这一主题完成下面探究任务。

探究一【列表归纳——梳理科技成就】(8分)

(1) 新中国成立后,科技领域取得了举世瞩目的成就。请结合所学知识协助第一小组的同学完成下面的表格。

领域	主要成就
原子能	1964年,第一颗 ① 爆炸成功; 1967年,我国第一颗氢弹爆炸成功
航天技术	1970年,第一颗 ② 发射成功; 2008年神舟七号航天员 ③ 实现了太空行走;嫦娥一号等
生物工程	2015年获得诺贝尔生理学或医学奖的中国药学家屠呦呦领导的科研团队在70年代初发现了能够有效抵抗疟疾的 ④ 。
科技成就取得原因	

【答案】①原子弹(1分);②人造地球卫星(1分);③翟志刚(1分);④青蒿素(1分)


原因:党和政府的高度重视;社会主义集中力量办大事的制度优势;科学家们的努力;自主创新和艰苦奋斗的精神;一定经济基础的支撑等。(答出任意一点原因得2分,共4分)

【解析】本题第一问属于基础知识考查题,结合所学回答即可。第二问则结合我国科技发展的实际情况,从国家的经济、政治及科学家自身的精神及贡献等方面回答即可。

探究二【解读材料——探究国防建设】(12分)

(2) 第二小组的同学围绕“国防建设”进行了下列研究性学习,请你参与完成。





①2009年国庆阅兵与1949年开国大典阅兵相比，我国的武器装备发生了哪些变化？（4分）



②依据图一、二，简述新时代下我国国防和军队改革取得了哪些历史性突破？并将图二中的臂章名称按其产生的先后顺序进行排序。（4分）

国防建设——「综合因素」

③结合近代中国“有海无防”到新中国成立以来逐步实现“钢铁长城”的发展历程，你认为一个强大的国防除了科技以外，还需要哪些因素的推动？（4分）

【答案】

①武器装备现代化水平大大提高；武器装备种类日益增多；武器装备的科技含量显著提升；武器装备获取渠道发生改变；武器装备自主研发与生产能力越来越强等。

（评分说明：答出符合上述题意的一点得2分，共4分）

②突破：成立了（东西南北中）五大战区；（2分）组建（海陆空火箭支援）五大军种；（2分）

排序：陆军——海军——空军——火箭军——战略支援部队（2分）

③党对军队的坚强领导；反抗侵略、不畏强敌的民族精神；团结合作、牺牲奉献的爱国思想；纪律严明、作战勇敢的革命传统；坚定忠诚的政治信念；密切联系、依靠人民群众的政治路线等。

【解析】本题第一问结合图片所给信息，用专业术语对武器装备的现代化水平、种类、科技含量、获取渠道、自主研发与生产能力等方面产生的变化表述即可。第二问结合图片所给信息及所学知识，分析新时代下国防和军队改革取得的历史性突破即可，并对五大兵种进行排序。第三问结合所学知识，分析推动国防发展的因素即可。

探究三【总结感悟——阐述内在联系】（4分）

（3）通过以上探究活动，阐述科技与国防、经济的相互关系。

【答案】科学技术是强军之路；国防现代化的需求促进了科学技术发展；经济发展是国防现代化的物质基础；强大的国防是经济建设的重要保障等。

【解析】分别答出科技与国防，科技与经济的关系，符合上述题意的任一点得2分，共4分。

