



## 2019~2020 学年第一学期八年级期末考试

### 地理试卷

(考试时间:下午2:30—4:00)

说明:本试卷为闭卷笔答,答题时间90分钟,满分100分。

题号	一	二				总分
		21	22	23	24	
得分						

一、选择题(本题共20个小题,每小题2分,共40分。下列各题的选项中,只有一项符合题意,请将正确选项的序号填入下表相应位置。)

题号	1	2	3	4	5	6	7	8	9	10
答案										
题号	11	12	13	14	15	16	17	18	19	20
答案										

智能垃圾分类回收机已亮相太原多个社区,利用互联网和人工智能等技术,以有偿方式回收旧衣物、塑料、金属、废纸等,可以提高资源再利用率,减少环境破坏。据此完成1、2题。

1. 垃圾分类可以减少自然资源的消耗量。下列属于非可再生资源的是

- A. 土地资源 B. 森林资源 C. 水资源 D. 矿产资源

2. 以有偿方式回收垃圾的主要目的是

- A. 分析垃圾特点 B. 提高分类意识  
C. 获取回收信息 D. 出口落后国家

右图为“我国主要土地利用类型分布图”。据此完成3-5题。

3. 图中甲地区的土地利用类型属于

- A. 林地 B. 草地 C. 水田 D. 旱地

4. 图中乙地区的主要农业生产部门是

- A. 种植业 B. 林业 C. 畜牧业 D. 渔业

5. 我国难利用土地主要分布的地区是

- A. 西北 B. 东北 C. 华北 D. 东南



壮阔七十载,奋进新时代。2019年10月1日,庆祝中华人民共和国成立70周年大会在北京天安门广场隆重举行。据此完成6-8题。

6. 下列关于我国地理位置的叙述,正确的是

- A. 位于亚洲东部,太平洋西岸 B. 海陆兼备的半岛国家  
C. 地跨热带、北温带和北寒带 D. 四面环太平洋的岛国

7. 我国地域辽阔,陆地面积居世界

- A. 第一位 B. 第二位 C. 第三位 D. 第四位

8. 每年国庆节期间,我国大部分地区的天气是

- A. 春意盎然 B. 盛夏酷暑 C. 秋高气爽 D. 寒冬腊月





山脉是地形的骨架。下图示意“我国四省区轮廓及主要山脉”。据此完成9~11题。



9. 成语“秦晋之好”中的“秦”、“晋”分别是图中的  
A. 甲和乙 B. 丁和丙 C. 乙和丙 D. 丁和甲
10. 图中山脉属于我国地势第一、二级阶梯分界线的是  
A. 秦岭 B. 太行山 C. 大兴安岭 D. 祁连山
11. 哈尔滨所属的省区是  
A. 黑龙江省 B. 山西省 C. 甘肃省 D. 陕西省

气象台发布大风蓝色预警,2019年11月17日夜间至18日,受强冷空气影响,我国中东部地区将出现4~6级西北风,气温纷纷“跳水”,下降6~10℃,局部可降12℃以上。据此完成12、13题。

12. 导致我国中东部地区气温纷纷“跳水”的特殊天气是  
A. 台风 B. 寒潮 C. 沙尘暴 D. 梅雨
13. 此次,我国南部沿海地区的气温没有明显“跳水”,其主要原因是  
A. 海拔高 B. 距冷空气远 C. 距海近 D. 人类活动少

长江素有“黄金水道”之称,干流横贯我国东西,沟通了沿海和内陆地区,与南北向的铁路干线相互交织,形成立体化交通网络。据此完成14~16题。

14. 长江沿岸港口众多,其中能实现江海联运的是  
A. 重庆 B. 武汉 C. 上海 D. 南京
15. 长江干流与京广铁路干线交会的枢纽城市是  
A. 上海 B. 南昌 C. 北京 D. 武汉
16. 家住上海的小明,网购10斤苏州阳澄湖大闸蟹,最恰当的运输方式是  
A. 铁路 B. 公路 C. 航空 D. 海运


北京-乌鲁木齐高速公路G7全长2500多千米,沿途能邂逅林海绿、草原青、沙漠黄、戈壁灰、胡杨金……有“最美高速公路”之称。下图示意“京新高速公路”。据此完成17、18题。

17. G7高速公路沿途植被差异明显,主要影响因素是

A. 纬度 B. 气温 C. 降水 D. 海拔

18. 下列关于高速公路的叙述,正确的是

A. 十字路口要减速 B. 行人可以自由穿行  
C. 不易受天气影响 D. 禁止非机动车驶入



2018年9月4日,山西中欧班列货运列车首次抵达德国杜伊斯堡,主要货物为山西当地企业供应德国客户的工业零部件产品,铁路运输比海运节省约一半时间。据此完成19、20题。

19. 此次,山西中欧班列运往德国的主要货物是  
A. 电子电器 B. 食品百货 C. 工业零部件 D. 农矿产品
20. 与海运相比,中欧货运班列的主要优势有  
①单次运量更大 ②受天气影响小 ③运距短 ④方便快捷  
A. ①②③ B. ①②④ C. ①③④ D. ②③④








## 二、非选择题(本题共4个小题,每小题15分,共60分。)

### 21. (15分)【案例分析】南水北调利千秋

材料一 2019年11月18日,李克强总理主持召开南水北调后续工程工作会议,强调指出南水北调东、中线一期工程建成以来,工程质量和水质都经受住了检验,实现了供水安全,对支撑沿线地区生产生活和生态用水发挥了重大作用,直接受益人口超过1亿,经济、社会、生态效益显著。同时要看到,水资源短缺且时空分布不均是我国社会经济发展的主要瓶颈之一,华北、西北尤为突出。华北地下水严重超采和亏空,水生态修复任务很重,随着人口承载量增加,水资源供需矛盾将进一步加剧。

材料二 “南水北调工程示意图”和“南、北方地区水资源和耕地资源占全国的比重图”



案例思考:

- (1)在图中用2B铅笔或碳素笔描出南水北调工程的东线路径。(1分)
- (2)水资源短缺且时空分布\_\_\_\_\_是我国社会经济发展的主要瓶颈之一,从时间分布看,我国大部分地区\_\_\_\_\_季节降水丰沛,水资源较为丰富;从空间分布看,我国水资源由\_\_\_\_\_向西北内陆逐渐减少。(3分)
- (3)解决我国水资源季节分配不均的工程措施是\_\_\_\_\_;缓解我国部分地区水资源短缺的工程措施是\_\_\_\_\_。(2分)
- (4)请你谈谈我国南、北方地区水资源和耕地资源的组合状况。(2分)
- (5)简析我国北方地区水资源短缺的主要原因。(4分)
- (6)面对华北、西北水资源短缺问题,请你提出合理化建议。(3分)





## 22. (15分)【社会调查】天下大命是粮仓

材料一 自古以来粮食就被看作“政之本务”，粮食储备被认为是“天下之大命”。新中国成立特别是改革开放以来，中国农业发展取得了举世瞩目的历史性成就。目前中国人均粮食占有量达到470公斤左右，比1949年新中国成立时的209公斤增长了126%，高于世界平均水平；稻谷和小麦产需有余，完全能够自给；中国用全球9%的耕地、6%的淡水资源，养活了近20%的人口，依靠自身力量端牢自己的饭碗，实现了由“吃不饱”到“吃得饱”，并且“吃得好”的历史性转变，同时也为全球粮食安全、贫困治理和农业可持续发展做出了巨大贡献。

材料二 “中国农业地区分布示意图”



### 调查思考：

- (1)在图中用2B铅笔或碳素笔描出400毫米年等降水量线。(1分)
- (2)写出图中字母所代表的四大牧区名称。(4分)  
A. \_\_\_\_\_ B. \_\_\_\_\_ C. \_\_\_\_\_ D. \_\_\_\_\_
- (3)我国农业生产的地区分布大致以400毫米年等降水量为界，西部地区天然草场广布，以\_\_\_\_\_业为主；东部地区是主要的农业区，分布着种植业、\_\_\_\_\_业和\_\_\_\_\_业。(3分)
- (4)说出小麦、水稻的集中产区，并简析东部地区发展农业优越的自然条件。(4分)
- (5)说出改革开放以来，我国农业发展取得的成就。(3分)






## 23. (15分)【案例分析】“母亲河”——黄河

**资料一** 黄河是中华文明最主要的发源地,中国人称其为“**母亲河**”。黄河每年的输沙量高达16亿吨,形成世界闻名的“**地上河**”。一直以来“**母亲河**”体弱多病,曾经水患频繁。2019年9月18日上午,习近平主席在郑州主持召开黄河流域生态保护和高质量发展座谈会时强调,“治理黄河,重在保护,要在治理。要充分考虑上中下游的差异;完善水沙调控机制,解决九龙治水、分头管理问题;坚持以水定城、以水定地、以水定人、以水定产……让黄河成为造福人民的幸福河。”

### 资料二 “黄河水系示意图”



### 案例思考:

(1)在左图中用2B铅笔或碳素笔描出黄河的“干流”。(1分)

(2)写出图中字母所代表的地理事物名称。(4分)

上、中、下游分界点:A \_\_\_\_\_ B \_\_\_\_\_

两大支流:C \_\_\_\_\_ D \_\_\_\_\_

(3)黄河发源于青藏高原上的 \_\_\_\_\_ 北麓,注入渤海,流域面积75万平方千米,全长5464千米,是我国的第 \_\_\_\_\_ 长河。(2分)

(4)说出你对黄河“体弱多病”的理解。(2分)

(5)说出黄河“地上河”所分布的河段及其主要原因。(3分)

(6)9月18日,习主席在座谈会上强调,“治理黄河,重在保护,要在治理……”请你为保护“母亲河”献计献策。(3分)



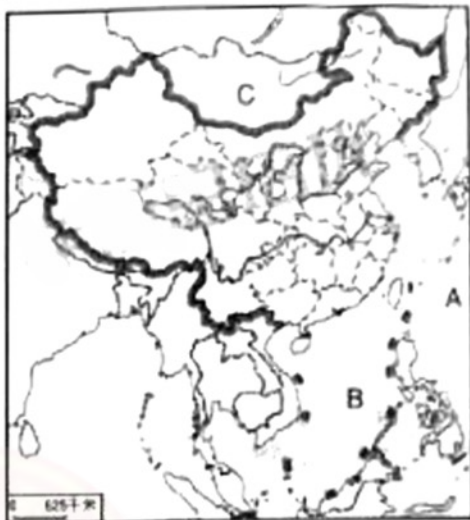




## 24. (15分)【生活调查】从地理视角看中国

**材料一** 2019年10月1日,在热烈庆祝新中国成立70周年之际,中国邮政发行《中华人民共和国成立七十周年》纪念邮票,展示了祖国在经济、政治、文化、社会、生态文明等方面取得的巨大成就。其中,小型张邮票图案是以牡丹花为衬的数字“70”及扬帆起航的巨轮,边饰则以各族人民载歌载舞的欢庆画面,表现“祝福祖国”70华诞的寓意。

**材料二** “中国的疆域示意图”



(中华人民共和国成立七十周年)  
纪念邮票小型张

调查思考:

(1)在图中用2B铅笔或碳素笔描出山西省的轮廓。(1分)

(2)写出图中字母所代表的地理事物名称。(3分)

大洋:A \_\_\_\_\_ 海域:B \_\_\_\_\_ 国家:C \_\_\_\_\_

(3)我国地域辽阔,陆地面积约 \_\_\_\_\_ 平方千米,居世界第三位。邮票中各族人民载歌载舞,一片欢庆场面,显示出我国是一个团结统一的多民族国家,共有 \_\_\_\_\_ 个民族,其中 \_\_\_\_\_ 族人口最多。(3分)

(4)2019年10月1日,当我国东边乌苏里江洒满金色阳光的时候,西边帕米尔高原还是满天星斗,造成这种差异的主要原因是( ) (2分)

A. 南北跨纬度广 B. 地形差异大 C. 东西跨经度广 D. 气候差异大

(5)小小邮票,方寸世界。说出纪念邮票小型张中的数字“70”所代表的含义。(2分)

(6)从纬度、海陆位置描述我国地理位置的优越性。(4分)

