



2019~2020 学年第一学期七年级期末考试

信息技术试卷

(考试时间:下午4:15—5:15)

说明:本试卷为闭卷笔答,答题时间60分钟,满分100分。

题号	一	二	三	四	总分
得分					

一、单项选择题(本题共20小题,每小题2分,共40分)将正确选项对应字母填在下表相应位置。

题号	1	2	3	4	5	6	7	8	9	10	11	12	13	14	15	16	17	18	19	20
答案																				

2019年10月1日上午,庆祝中华人民共和国成立70周年大会在北京天安门广场隆重举行。中共中央总书记、国家主席、中央军委主席习近平发表重要讲话,随后举行盛大的阅兵式和群众游行。结合以上内容,完成1-4题。

- 2019年10月1日上午,很多人通过电视或网络直播观看了建国70周年大阅兵,这主要体现了信息的
 - 真伪性
 - 多样性
 - 共享性
 - 相对性
- 十堰籍军人范坤是受阅方阵中的一员,利用人脸识别技术可以帮助范坤的家人在身材相仿、着装统一、动作一致的队伍中很快找到他。人脸识别技术体现的信息技术应用领域是
 - 人工智能
 - 云计算
 - 3D打印
 - 虚拟现实
- 国庆阅兵吸引了全世界的目光,而小明的姐姐正在回家的旅途中,不便及时观看。小明将大阅兵的精彩瞬间拍照,通过微信发给她。这体现了因特网的
 - 数据通信功能
 - 远程控制功能
 - 邮件管理功能
 - 网络购物功能
- 为了让姐姐回来可以看到精彩的视频,小明将阅兵视频下载到电脑中。这属于信息处理过程中
 - 信息的加工
 - 信息的鉴别
 - 信息的处理
 - 信息的存储

2019年9月16日至22日是国家网络安全宣传周,活动在全国范围内统一开展,主题是“网络安全为人民,网络安全靠人民”。期间同学们在信息技术课上对有关“信息安全”的知识进行学习与讨论。结合以上内容,完成5-7题。





5. 网络是计算机病毒传播的主要途径,计算机病毒的实质是

- A. 和生物病毒一样,是有生命的
- B. 人为编写的有破坏作用的程序或代码指令
- C. 保持计算机的清洁,可以预防计算机病毒
- D. 经过高温杀菌,可以清除计算机病毒

6. 下列表述与《青少年网络文明公约》的内容不一致的是

- A. 要善于网上学习,不浏览不良信息。
- B. 要维护网络安全,不破坏网络秩序。
- C. 要结交各类网友,不轻易怀疑他人。
- D. 要有益身心健康,不沉溺虚拟时空。

7. 张女士接到一个陌生号码打来的电话,称“不需要抵押,仅凭身份证就可以为她提供贷款。”

张女士与对方相互加了微信后,安装了对方提供的网贷小程序,并按提示填写个人信息、银行卡号等,然后申请贷款5万元,这时系统上突然显示“贷款资金被冻结”。对方解释,应该是张女士操作失误,让张女士汇15000元过去,他可以帮忙解冻,到时再和贷款一并返还,然后发来一个银行账号。面对这种情况,你给张女士的建议是

- A. 马上按要求将钱汇过去
- B. 和对方协商,降低汇款金额
- C. 立即停止操作,必要时报警
- D. 用报警威胁对方,让他给自己汇款

完成“网淘电脑”这一学习项目后,小明学以致用,对自家电脑进行诊断分析,并进行了升级改造。

结合以上内容,完成8-10题。

8. 小明家里的电脑运行多个软件后速度就会很慢,小明把内存容量由4GB扩充为8GB后问题得以解决。电脑存储器分外存和内存,下列关于内外存特点的表述正确的是

- A. 内存容量小、存取速度快
- B. 内存容量大、存取速度慢
- C. 外存容量小、存取速度慢
- D. 外存容量大、存取速度快

9. 小明电脑的硬盘是500GB,为存放更多的视频文件,他想装一块东芝(TOSHIBA) 3TB 7200转64M SATA3的台式机硬盘(DT01ACA300)。这里GB、TB都是存储容量单位,下列容量单位关系正确的是

- A. 1MB大于1GB
- B. 1TB大于1GB
- C. 1GB大于1TB
- D. 1KB大于1MB

10. 更换内存条和硬盘之后,小明为电脑安装了如下软件,其中能起安全防护作用的软件是

- A. WPS
- B. Office2016
- C. Photoshop
- D. 360安全卫士

学习图文混排技术时,老师给同学们布置的任务是制作主题为“庆祝祖国70华诞”的电子海报,要求图文并茂。

结合以上内容,完成11-16题。







11. 同学们在网页浏览器的地址栏中输入 www.baidu.com, 搜集有关电子海报的素材, 该网址是网站的
- A. IP地址 B. 电子邮箱 C. 域名 D. 网络协议
12. 下列软件中适合制作电子海报的是
- A. Word B. 腾讯QQ C. 记事本 D. 爱奇艺
13. 在电子海报中插入图片后不能移动, 其原因可能是
- A. 图片本身有问题 B. 图片类型有问题
C. 图片的版式为“环绕型” D. 图片版式为“嵌入型”
14. 同学们收集的部分图片有瑕疵, 对图片进行处理时应选用的软件是
- A. Word B. Photoshop C. Excel D. 卡巴斯基
15. 同学们完成图片的初步修改后, 为了保存图层信息方便以后修改, 图像文件保存时应选择的格式是
- A. JPEG B. BMP C. PSD D. GIF
16. 如果要将海报页面方向由纵向改为横向, 应该选择“文件”菜单中的
- A. 保存 B. 打开 C. 新建 D. 页面设置
- 小华与小青准备筹办一个创客社团, 在进行招新宣传前他们要为社团制订社团章程, 现在初稿已经完成, 还需要进行必要的编辑, 以形成正式文稿。请帮助他们解决以下问题。
17. 初稿由小华与小青分工完成, 并形成了两个文件, 在 Word 软件中打开第一个文件后, 要将另一个文件的内容全部添加到当前文件中, 应选择的操作是
- A. 文件|打开 B. 文件|新建 C. 插入|文件 D. 插入|超级链接
18. 要将社团章程中多处出现的“机器人”一词全部换成“人工智能”, 快捷的操作方法是
- A. 粘贴 B. 替换 C. 清除 D. 复制
19. 在进行文本编辑时, 如果光标插入点定位在“STEPAM”的“E”和“P”之间, 要删除字母“P”, 应单击
- A. Insert 键 B. Delete 键 C. Backspace 键 D. Esc 键
20. 如果为段落设置符合中文排版规范的首行缩进, 则缩进的度量值应设为
- A. 2 字符 B. 4 字符 C. 0.8 厘米 D. 1.5 字符





二、判断题(本题共10小题,每小题2分,共20分)将判断结果填在下表相应位置,正确的打“√”,错误的打“×”。

题号	21	22	23	24	25	26	27	28	29	30
答案										

21. 所有的信息都可以通过人的感觉器官直接感受到。
22. 信息技术的应用,对人类社会的发展起着巨大的推动作用。
23. 在Word中,选中不连续文本的方法是:先选定不连续文本的一个部分,然后按住Shift键,再拖动鼠标选定不连续文本的其它部分。
24. WPS Office 是国产办公软件,可以满足日常办公需求。
25. 为保证计算机系统安全稳定,防止病毒传播,需要经常对电脑进行“体检”并及时给系统打“补丁”。
26. 用Word软件进行分栏操作时,各栏的宽度只能是相等的。
27. 手机启用便携式WLAN热点,可以搭建一个无线局域网,让周围的手机、平板电脑等共享网络。
28. 因为计算机软件可以复制,所以不用花钱购买。
29. 用“表格和边框”工具栏中的  (绘制表格)和  (擦除)工具相配合可以实现手工制表。
30. 用Photoshop设计徽标时,如果把不同的部分制作在不同的图层中,这样通过调整图层的顺序可以调整不同部分内容的前后位置。

三、连线题(本题共3小题,每小题5分,共15分)

31. 将下列软硬件与其所属类别或名称连线

- | | |
|---------|-------|
| U盘 | 输出设备 |
| 显示器 | 存储器 |
| 鼠标 | 操作系统 |
| CPU | 中央处理器 |
| Windows | 输入设备 |

32. 将下列图标与对应的名称连线

- | | |
|--|-------|
|  | 钢笔工具 |
|  | 油漆桶工具 |
|  | 保存图标 |
|  | 打印预览 |
|  | 格式刷 |





33. 将下列软件与对应的功能连线

微信	购物网站
手机淘宝	即时通信
暴风影音	音视频播放
美图秀秀	云存储
百度网盘	图像处理

四、实践与探究:(本题共5个小题,共25分)

为弘扬中华优秀传统文化,学校将举办“山西文化节”。为了宣传山西文化,同时反映同学们的信息技术课程学习成果,信息学社团组织了电子报制作大赛,同学们都积极投入到大赛准备中。

做为一名参赛选手,请你解答以下问题。

34. (5分)完成这份电子报作品应该经过哪些流程?

35. (4分)通过哪些途径可以收集到具有权威性和可靠性的资料?

36. (4分)为突出主题、美化版面,除了使用图片外,还可以使用哪些图形对象?





37. (6分)对一份电子报可以从主题、内容、版面布局、技术应用等多个方面进行评价。

下图为某小组电子报的一个版面,请仔细观察后给出评价与建议

(1)列出此版电子报的两点优点。

太原头脑

太原头脑,这是当地特有的一种风味小吃,已有一百多年的历史,为南来北往、从北方到南方,从春到秋,太原各饭店都争相推出头脑。

太原头脑的由来,据说是一种巧合。太原晋商,人们从北方来到太原,把北方饮食习惯带到了太原,他们到太原后,做的“头脑”汤,香气四溢,热气腾腾,西里上热气腾腾的头脑,是“头脑”的雏形。


傅山与头脑

头脑,是太原傅山先生发明的一碗汤,字音主,山西阳曲(今太原市)人。据说,傅山中年丧妻之后,未婚,一直隐居在家乡的静养。母亲体弱多病,傅山十分心疼,便研制出了以羊肉、莲藕、山药、黄芪、桂圆、形肉(炒过的鹿筋)、黄酒、酒糟八种药材和食物为原料的“八珍汤”,让母亲冬令早上吃,滋养身体。那个冬天过后,母亲精神焕发,恢复如初。至此,许多人慕名而来,傅山“八珍汤”,时值清兵入主中原,傅山意愤之极,特把这“八珍汤”改名为“头脑”,意思是提醒晋商要用头脑。

头脑的功效

傅山在头脑中配了两种草药——黄芪和良姜,这是头脑比别的美食被大众认可的原因。傅山加这两种草药,是为了预防和治疗脾胃寒。

头脑不只是一碗汤,营养十分丰富,羊肉味甘性热,补虚、开胃,配以清热化痰的藕和补脾健胃的山药,就成了一剂温补而不腻,清郁而可口的药膳。吃的时候,就点几滴的韭菜,味道好极了。傅山开了这样的小店,一天到晚,顾客络绎不绝。



(2)指出此版电子报的两点不足,并提出改进建议。

38. (6分)为了提供参赛作品的相关信息,某同学在纸上设计了如下图所示的作品登记表。现在要用Word软件制作此表,应如何制作和调整表格?

电子报作品登记表

作品名称		作品大小	MB
作者姓名		班级	
作品简介			

