



2019-2020 学年第二学期八年级期中考试

地 理 试 卷

注意事项:

1.本试卷为闭卷笔答,共7页,考试时间:4月19日9:30—10:30,共60分钟,满分100分。

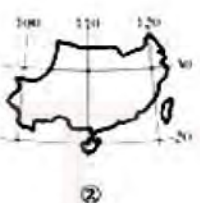

2.除选择题外,答案全部在答题纸上完成,一定要写清题号,条理清晰地写在白纸或A4纸上,答完之后拍照上传,照片一定要清晰。

3.请考生把握好答题时间(1-20题在9:30—9:50期间20分钟内完成,21-22题在9:50—10:10期间20分钟内完成,23-24题在10:10—10:30期间20分钟内完成)。

第 I 卷 选择题(共40分)

一、选择题(在每小题给出的四个选项中,只有一项符合题目要求。每小题2分,共40分)

读我国四大地理区域图,完成1-4题。



1. 下列四大区域与当地人文景观搭配正确的是 ()

A. ①——



冲浪运动

B. ②——



主食为米饭

C. ③——



藏袍

D. ④——



蒙古包

2. 我国高新技术产业密集区主要分布的地区是 ()

A. ①②

B. ③④

C. ②③

D. ①④

3. 在四大地理区域中,青藏地区之所以独立成一个地区的主导因素是 ()

A. 地形

B. 气候

C. 河流

D. 降水

4. 下列搭配错误的是 ()

A. 青藏地区高寒

B. 西北地区干旱

C. 北方地区白色荒漠

D. 南方地区湿热



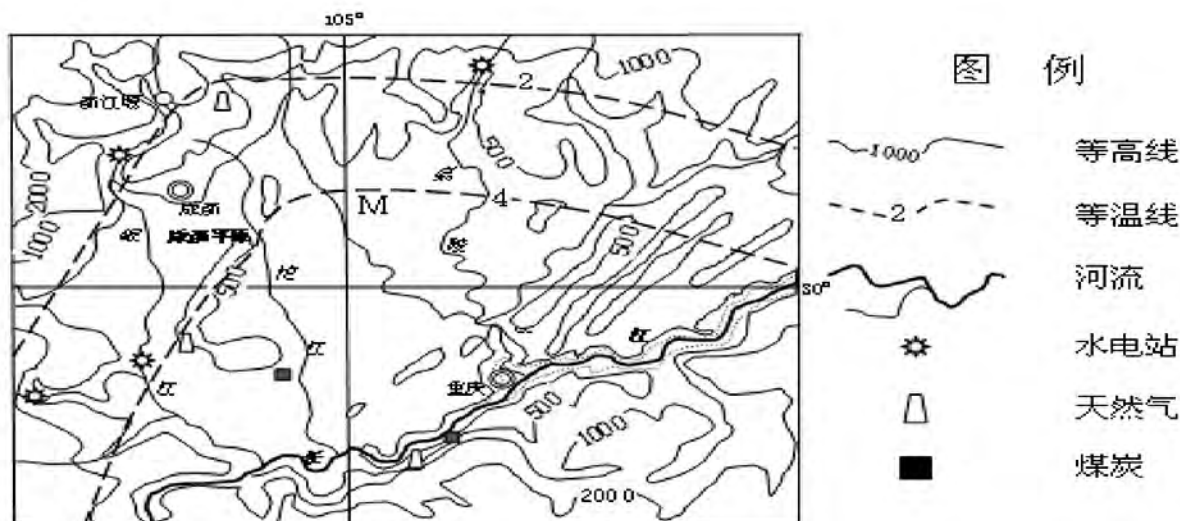


5. 黄土高原的地表形态特征是: ()
- A. 石灰岩地貌广布 B. 连绵起伏, 沟谷密布, 千沟万壑
- C. 一望无际的原野 D. 雪山连绵, 冰川广布
6. 我国的地形复杂多样、山区面积广大, 尤其是纵横交错的山脉, 构成了地形的骨架, 高原、平原、盆地和丘陵镶嵌其间。下面图中表示黄土高原的是 ()
- A. B. C. D.



7. 黄土高原的南北界线分别是 ()
- A. 秦岭、长城 B. 黄河、秦岭
- C. 太行山、乌鞘岭 D. 黄河、南岭
8. 以下是某同学赞美家乡的散文诗: “挽黄河臂膀, 依太行身躯, 踏千里黄土, 踩万年‘乌金’, 揽五台佛光……”, 他赞美的是 ()
- A 陕西省 B 山西省 C 甘肃省 D 内蒙古自治区
9. 自古以来就是我国著名的“鱼米之乡”的地区是 ()
- A. 长江三角洲 B. 成都平原
- C. 珠江三角洲 D. 四川盆地
10. “窗户纸糊窗外”, “不吃鲜菜吃酸菜”, “吉祥喜庆粘豆包”的民俗说明东北地区的气候 ()
- A. 温暖 B 四季如春 C. 寒冷 D 炎热多雨
11. 歌曲《坐上火车去拉萨》中唱到“山有多高, 水有多长, 通往天堂的路太难……”反映了青藏地区 ()
- A 气温高, 降水少 B 河流多, 流程短
- C 海拔高, 地势险 D 矿产资源丰富

成渝地区的城市群是西部大开发的重要平台, 是长江经济带的战略支撑, 读成渝地区图, 完成 12-14 题





12. 我国最早、最著名的井盐基地是 ()
A. 重庆 B. 绵阳 C. 成都 D. 自贡
13. 2018 年暑假, 明明去重庆旅游, 午餐时发现餐桌上基本上是辣味的, 这种饮食文化特征与当地何种自然环境的特征关系密切 ()
A. 资源丰富, 人称“天府之国”
B. 光照少, 气候潮湿, 可用辛辣食物去除体内的湿气
C. 四川盆地的紫色土壤富含磷、钾
D. 山地气候显著, 变化多端
14. 成语“蜀犬吠日”指的是: 那里的狗不常见太阳, 看到太阳后就觉得奇怪, 这与成渝地区的以下哪些自然地理环境有关 ()
A. 以山地、平原为主
B. 气候为亚热带季风气候, 加上盆地地形, 阴雨天多, 晴天少
C. 以山地、盆地为主
D. 气候为亚热带季风气候, 气候适宜
15. 我国“吃小米, 住窑洞, 唱信天游”的地区是 ()
A. 东北地区 B. 华北地区
C. 黄土高原 D. 东南丘陵
16. 我国经济发展水平最高的工业基地是 ()
A. 辽中南工业基地 B. 京津唐工业基地
C. 长江三角洲工业基地 D. 珠江三角洲工业基地
17. 世界上地势最高的内陆湖是 ()
A. 青海湖 B. 纳木错
C. 洞庭湖 D. 鄱阳湖
18. 我国北方地区的主要地形区包括 ()
A. 东北平原、华北平原、黄土高原
B. 青藏高原、柴达木盆地、云贵高原
C. 四川盆地、云贵高原、长江中下游平原
D. 塔里木盆地、准噶尔盆地、黄土高原
19. 位于青藏高原的三江源自然保护区被称为“中华水塔”, 三江是指 ()
A. 长江、汾河、黑龙江 B. 珠江、黑龙江、松花江
C. 长江、黄河、澜沧江 D. 珠江、嘉陵江、澜沧江
20. 关于长江三角洲地区叙述正确的是: ()
①这里有著名的古都——南京、杭州、西安等
②是我国城市分布最密集、经济发展水平最高的地区。
③这里得天独厚的江海之利, 为该地区的发展提供了优越条件。
④有很多旅游景点, 如西湖、都江堰、苏州园林等。
A. ①② B. ③④ C. ②③ D. ①④





第 II 卷 综合探究题 (共 60 分)

21. 读“东北地区主要山脉和河流分布示意图”，完成下列问题：(15 分)



(1) 写出图中字母和文字代表的地理事物的名称。(5 分)

山脉：A _____ C _____

省区：D _____ F _____

平原：甲 _____

(2) 伊春市位于黑龙江省东北部的小兴安岭，是我国重要的家具生产基地，目前已成为全国资源枯竭城市转型试点。最适宜该市转型发展的产业是 () (2 分)

- A. IT 等高新科技产业
- B. 森林观光等生态旅游业
- C. 服装加工等劳动密集型产业
- D. 以风力发电为主的能源工业

(3) 我国东北地区的中学生寒假时间很长，主要原因是 () (2 分)

- A. 学生喜欢放长假
- B. 寒假时间长是为了充分休息，有利于身体健康
- C. 东北地区纬度较高，冬季寒冷而漫长
- D. 当地政府规定的，为了让学生好好过年

(4) 被誉为“地球之肾”的是 () (2 分)

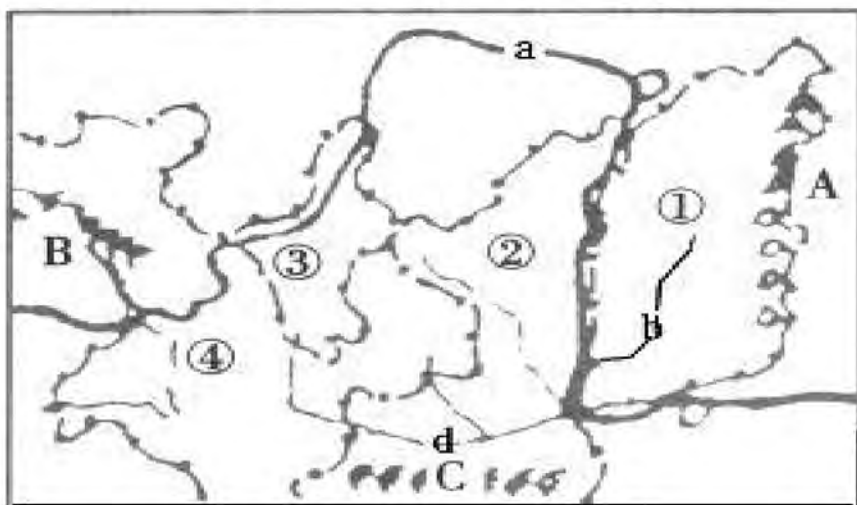
- A. 海洋
- B. 湿地
- C. 沙漠
- D. 森林

(5) 简析东北三省农业发展的有利的自然条件。说出东北三省的主要农作物有哪些？(4 分)





22. 读“黄土高原示意图”，完成下列问题。（15分）



(1). 写出图中序号及字母所代表的地理事物名称。（5分）

山脉：A _____ B _____ C _____

河流：a _____ b _____

(2). 晋、陕与内蒙古交界处的煤田，储量极为丰富，被誉为（ ）（2分）

A 煤海 B 金三角 C 乌金三角 D 塞上江南

(3). 下列关于煤炭能源保护和利用的叙述，不正确的是（ ）（2分）

- A. 保护国营大矿，关闭小型煤矿，严禁滥采滥挖等破坏资源的行为
- B. 山西煤炭多，挖的多挣钱多，人民生活就改善了
- C. 研究煤层及地质结构，科学开采，提倡综合利用资源
- D. 煤炭资源属于不可再生资源，要有计划的开发利用

(4). 黄土高原的作物熟制是（ ）（2分）

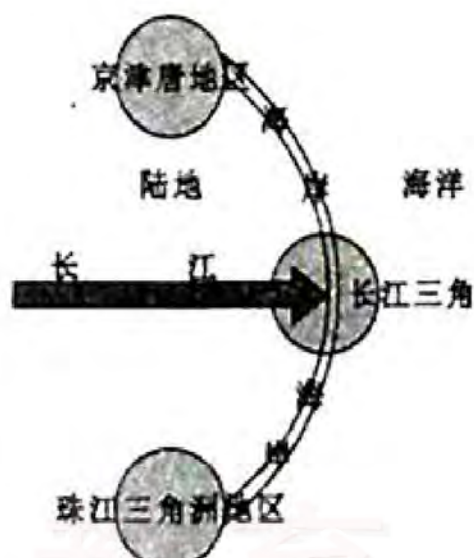
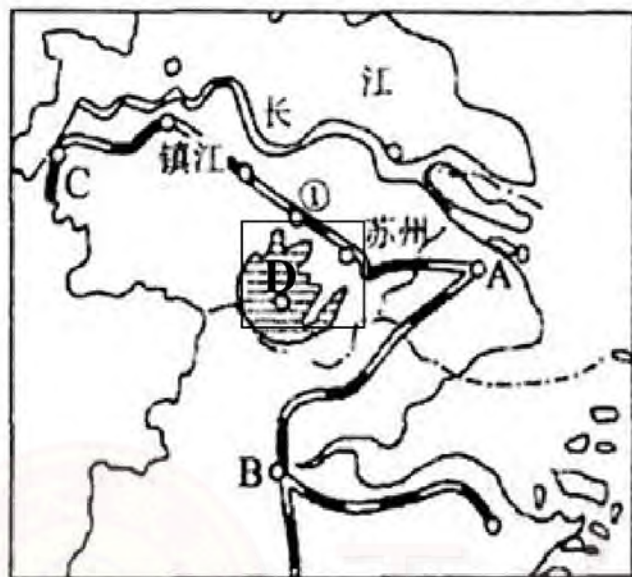
- A. 一年一熟 B. 一年一熟或两年三熟
- C. 一年两熟 D. 一年三熟

(5). 黄土高原蕴藏着极为丰富的能源资源，煤炭储量尤其丰富。咱们山西省是煤炭大省，现在面临环境污染严重，资源枯竭等问题，目前，山西省正在积极转型跨越，请你为家乡的经济发展献计献策。（2分）请为咱们山西的产品代言，请举出几个山西的知名产品（2分）





23. 读“长江三角洲示意图”和“我国沿海和沿江经济带示意简图”，回答下列问题（15分）



(1). 写出左图中字母和序号所代表的地理事物名称(5分)。

城市: A _____ B _____ C _____

铁路: ① _____ 湖泊: D _____

(2). 下列关于长江三角洲地区自然环境的描述, 正确的是: () (2分)

- A. 地形以平原为主 B. 河流含沙量大
C. 属于温带季风气候 D. 矿产资源丰富

(3). 在实施西部大开发战略中, 国家倡导长江三角洲等经济发达地区支援西部地区, 从全局上看, 主要是为了 () (2分)

- A. 利用西部的大量富余劳动力 B. 提供西部所需的大量建设资金
C. 向西部提供人才、技术支持 D. 保持东西部地区经济协调发展

(4). 下列传统文化在长江三角洲地区比较典型的是 () (2分)

①面塑文化 ②游牧文化 ③茶香文化 ④丝绸文化

- A. ①② B. ③④ C. ②③ D. ②④

(5). 简析长江三角洲经济发展的有利条件和不利条件(提示: 从地理位置、市场、交通、资源、科技水平、劳动力、工农业基础及国家政策等方面思考) (4分)

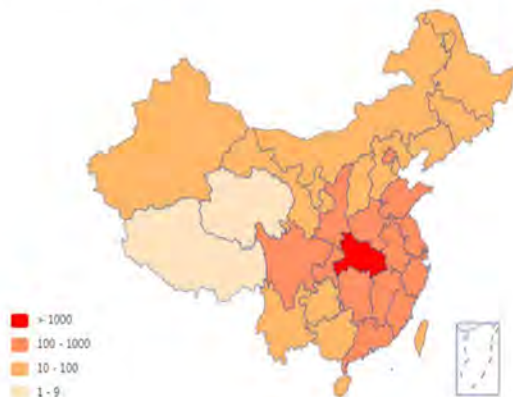
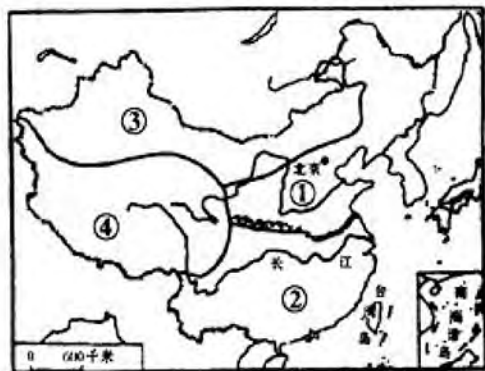




24. 综合分析题 (15 分)

2020 年, 新型冠状病毒疫情全球爆发。4 月 8 日, 武汉从“暂停”到有序重启, 这 76 天, 全国各界人士涓流成海, 爱心汇聚湖北, 举国上下众志成城, 一起抗击疫情。党和国家最高领导人习近平统揽全局, 省时度势, 根据国内外疫情最新形势, 对疫情防控和社会经济发展作出了一系列重大决策部署。

下面为我国四大地理区域图和 2 月 1 日全国疫情图, 请同学们完成以下内容;



(1). 写出左图序号代表的地理区域的名称 (4 分)

① _____ ② _____ ③ _____ ④ _____

(2). 下列叙述正确的是 () (2 分)

- A. ①区域耕地以水田为主
- B. ②区域气候温度湿润, 黑土广布
- C. ③区域种植业发达
- D. ④区域许许多多的江大河的发源地

(3). 在③区, 从东往西走, 沿途看到的植被依次是 () (2 分)

- A 草原—森林—荒漠草原—绿洲
- B 森林草原—草原—荒漠草原—荒漠
- C 森林草原—荒漠—绿洲—草原
- D 森林—森林草原—草原—森林

(4). 运用所学知识说出这次疫情重灾区湖北武汉的自然环境特征 (提示从所属区域、位置、地形、气候、主要河流、植被类型等方面去分析) (3 分)

(5). 请说出①区和②区的地理分界线, 简述其地理意义, 至少 3 点 (4 分)

