



太原市 2017-2018 学年七年级年级期末考试

地 理

注意事项:

1. 本试卷分第 I 卷（选择题）和第 II 卷（非选择题）两部分。
2. 回答第 I 卷前，考生务必将自己的姓名、学校、年级和联系方式涂写在答题卡上。
3. 回答第 I 卷时，选出每小题答案后，用 2B 铅笔把对应题目的答案标号涂黑。如需改动，用橡皮擦干净后，再选涂其他答案标号。写在本试卷上无效。
4. 回答第 II 卷时，将答案写在答题卡相应位置上。写在本试卷上无效。
5. 考试结束后，将本试卷和答题卡一并交回。

第 I 卷（选择题共 30 分）


注意事项:

1. 答第 I 卷前，考生务必用 0.5 毫米黑色字迹的中性笔将所需填写的内容填在答题卡上。
2. 每小题选出答案后，请将答案填涂在答题卡上，答案写在试题卷上无效。

一、选择题（本题共 15 小题，每小题 2 分，共 30 分。下列各题的选项中，只有一项符合题意，将每小题的正确选项填入下表中）

题号	1	2	3	4	5	6	7	8	9	10	11	12	13	14	15
答案	C	B	D	A	D	A	B	C	C	B	D	A	C	D	B

1. 泰姬陵是印度穆斯林艺术最完美的瑰宝，已列入世界文化遗产。下图表示泰姬陵的是



【答案】C

【分析】A 为俄罗斯红场，B 为美国白宫，C 为泰姬陵，D 为山东曲阜孔庙

2. 印度第一大河，又被称为“圣河”的是

- A. 印度河 B. 恒河 C. 澜沧江 D. 莱茵河

【答案】B

【分析】恒河是印度第一大河，又被称为是“圣河”，也是印度人心中的母亲河。





3. 印度中部有北回归线穿过, 该国最主要的气候类型是

- A. 热带雨林气候 B. 热带草原气候 C. 热带沙漠气候 D. 热带季风气候

【答案】D

【分析】印度中部为热带地区, 且受季风气候影响明显, 所以是热带季风气候。

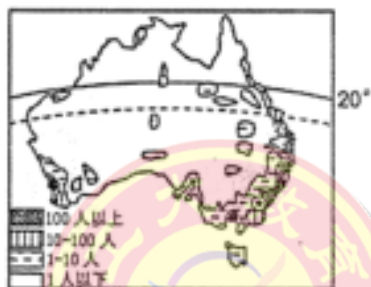
4. 印度的信息技术中心是

- A. 班加罗尔 B. 孟买 C. 加尔各答 D. 新德里

【答案】A

【分析】印度的信息技术中心为班加罗尔, 而加尔各答是印度的首府。

右图为“澳大利亚人口城市分布示意图。据此完成 5~7 题。



5. 横穿澳大利亚中部的重要纬线是

- A. 北极圈 B. 北回归线 C. 南极圈 D. 南回归线

【答案】D

【分析】澳大利亚整个陆地面积关于南回归线对称。

6. 下列关于澳大利亚的叙述正确的是

- A. 独占一个大陆的国家 B. 动物有普遍性和古老性
C. 北半球唯一的发达国家 D. 悉尼为全国的政治中心

【答案】A

【分析】澳大利亚是独占一个大陆的国家, 动物古老且为澳大利亚特有, 是南半球唯一的发达国家, 悉尼是全国的首府。

7. 澳大利亚人口城市主要分布在

- A. 东北沿海地区 B. 东南沿海地区 C. 广大内陆地区 D. 西南沿海地区

【答案】B

【分析】受到气候影响, 澳大利亚人口城市主要分布在东南沿海地区。





8. “河那边草原呈现白色一片,好像是白云从天空飘临。你看那周围雪堆像冬天,这是我们在剪羊毛剪羊毛……”
这首澳大利亚民歌反映了澳大利亚是

- A. 坐在矿车上的国家 B. 农牧业为主的国家 C. 骑在羊背上的国家 D. 出口羊肉最多的国家

【答案】C

【分析】材料中信息体现了澳大利亚是“骑在羊背上的国家”。

9. 下列关于撒哈拉以南非洲的叙述正确的是

- A. 以制造业为主 B. 黄色人种为主 C. 经济结构单一 D. 发达国家集中

【答案】C

【分析】撒哈拉以南非洲以工业采矿为主,制造业落后,是“黑种人的故乡”,经济结构单一,多“不发达国家”。

10. 欧洲西部温带海洋性气候区适合发展的农业主要有

- A. 种植业和渔业 B. 畜牧业和养殖业 C. 种植业和林业 D. 畜牧业和林业

【答案】B

【分析】欧洲西部温带海洋性气候区多发展畜牧业和养殖业,由于气候原因,种植业和林业难以发展。

11. 位于东南亚两洲两洋“十字路口”的是

- A. 苏伊士运河 B. 霍尔木兹海峡 C. 巴拿马运河 D. 马六甲海峡

【答案】D

【分析】马六甲海峡被称为是东南亚两洲两洋的“十字路口”。

12. 下列关于南极洲地理环境的叙述正确的是

- A. 纬度最高,终年酷寒 B. 地势低平,烈风较多
C. 四周临海,气候湿润 D. 冰雪覆盖,没有生物

【答案】A

【分析】南极洲纬度较高,终年酷寒,多山地高原,多烈风,降水稀少,生物种类稀少,以磷虾为主。

右图为“尼日利亚示意图”。据此完成 13~15 题。





13. 尼日利亚位于非洲中西部, 紧邻的海湾是

- A. 墨西哥湾 B. 波斯湾 C. 几内亚湾 D. 亚丁湾

【答案】C

【分析】由图可知, 尼日利亚紧邻的海湾为几内亚湾。

14. 被称为尼日利亚“经济首都”的是

- A. 哈科特港 B. 阿布贾 C. 迈杜古里 D. 拉各斯

【答案】D

【分析】尼日利亚的经济首都是拉各斯, 哈科特港是尼日利亚第二大港, 阿布贾是尼日利亚首都。

15. 尼日利亚盛产热带经济作物, 其中制作巧克力所需的主要原料是

- A. 油棕 B. 可可 C. 茶叶 D. 椰子

【答案】B

【分析】制作巧克力的主要原料为可可。——做最感动客户的专业教育组织

第II卷 (非选择题共 70 分)

二、非选择题 (共 5 小题, 共 70 分)

16. (10 分) 将下列国家与相应的叙述及其首都分别用直线连接起来。

- | | | |
|---------|-------------|---------|
| A. 印度 | ①经济高度发达的国家 | a. 新德里 |
| B. 澳大利亚 | ②南美洲面积最大的国家 | b. 堪培拉 |
| C. 尼日利亚 | ③世界第二人口大国 | c. 阿布贾 |
| D. 美国 | ④大洋洲面积最大的国家 | d. 华盛顿 |
| E. 巴西 | ⑤非洲人口最多的国家 | e. 巴西利亚 |

A——③——a

B——④——b

C——⑤——c

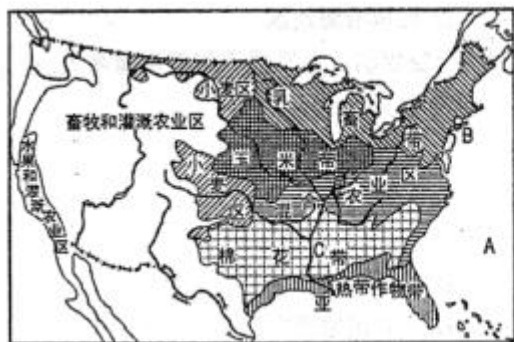
D——①——d

E——②——e

17. (15 分) 阅读图文材料, 完成下列各题。

材料一 “美国本土农业带分布示意图”





材料二 美国地域辽阔,资源丰富,气候适宜,土地、森林、草原等资源的拥有量居世界列,发展农业具有得天独厚的自然条件。美国农业实行规模化、产业化和区域化的经营模式,形成了乳畜带、玉米带、棉花带、小麦区等农作物带。美国农业现代化、机械化程度,是世界上最大的农产品出口国。

- (1) 在图中相应位置标注墨西哥湾。(1分)
- (2) 写出图中字母所代表的地理事物的名称。(3分)

大洋:A_____ 海港:B_____ 河流:C_____

【答案】大西洋 纽约 密西西比河

- (3) 美国全称“美利坚合众国”,面积居世界第_____位。全国共划分为 50 个州和 1 个特区,其中面积最大、人口最少的是_____州;位于北回归线附近,以旅游著称的是_____州。(3分)

【答案】四 阿拉斯加 夏威夷

- (4) 美国的畜牧和灌溉农业区主要分布在西部地区,该地区地形多_____气候_____多天然牧场,适宜发展_____业,在有水源的地方主要发展_____农业。(4分)

【答案】高原山地 干旱少雨 畜牧 灌溉

- (5) 请从自然条件和市场需求入手,简析美国乳畜带分布在东北地区的原因。(2分)

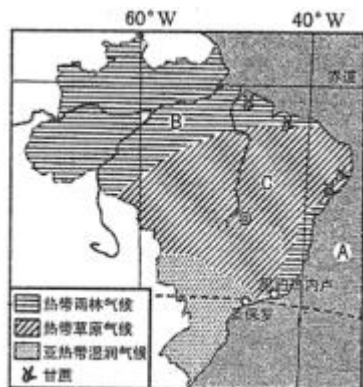
【答案】位置偏北,气候湿冷,适宜牧草生长;(1分) 经济发达,城市和人口分布密集,奶制品的需求量大等。(1分)

- (6) 请说出美国农业生产的主要特点。(2分)

【答案】实行规模化,产业化,机械化,专门化,生产效率高;产量大,商品率高,现代化程度高,最大的农产品出口国等。(任答两点给得两分)

18. (15分)读“巴西主要气候类型分布示意图”,完成下列各题。





(1) 在图中用 2B 铅笔或者碳素笔描出南回归线。(1 分)

(2) 写出图中字母所代表的地理事物的名称。(3 分)


大洋: A _____ 平原: B _____ 高原: C _____

【答案】 大西洋 亚马逊平原 巴西高原

(3) 巴西国土主要位于赤道与南回归线之间, 热带经济作物品种繁多, 咖啡、____柑橘的产量居世界第一位, 素有“_____”的美称。(2 分)

【答案】 甘蔗 咖啡王国

(4) 下列节日巴西人最为喜爱的是 () (2 分)



【答案】 B

(5) 热带雨林主要分布在赤道附近, 有地球上抵抗力、稳定性最高的生物群落。热带雨林地区终年高温多雨, 季节差异极不明显, 生物群落演绎速度极快, 动植物物种极为丰富。

请说出森林的生态环境作用, 并为如何保护森资源献计献策。(4 分)

【答案】 作用: 吸收二氧化碳, 制造氧气; 净化空气, 调节气候; 涵养水源; 防风固沙; 保持水土; 防止水土流失; 维护生物多样性; 美化环境等。(任答两点即得 2 分)

计策: 禁止乱砍伐; 少用一次性物品; 双面打印; 采伐与更新相结合; 合理开发, 时刻注意保护; 适度发展生态旅游; 加大宣传, 提高环保意识; 制定相关的法律法; 加大监管力度等。(任答两点即得 2 分)

(6) 简析巴西人口城市主要分布在东南沿海地区的原因。(3 分)

【答案】 地理位置优越; 地形平坦; 气候温和湿润; 矿产资源丰富; 沿海, 交通便利; 开发早; 历史悠久等。(任答三点即得 3 分)





19. (15 分) 读“日本主要工业分布示意图”，完成下列各题。



(1) 在图中相应位置标注日本海。(1 分)

(2) 写出图中字母所代表的地理事物的名称。(3 分)

大洋: A _____ 岛屿: B _____ 首都: C _____

【答案】太平洋 北海道岛 东京

(3) 日本地形以 _____ 为主，平原狭小。境内多火山、地震，原因是地处 _____ 板块和 _____ 板块的交界处，地壳不稳定，被称为“地震之邦”。

【答案】山地丘陵 太平洋 亚欧

(4) 樱花是日本的“国花”，每年的 3 月 15 日到 4 月 15 日是樱花节。日本四大岛屿中樱花盛开时间最早的是 ()
(2 分)

A. 北海道岛 B 本州岛 C 九州岛 D 四国岛

【答案】C

(5) 日本是个森林资源丰富的国家，但还要大量进口木材，请简析其主要原因。(2 分)

【答案】保护森林资源意识强;木材需求量大等。

(6) 说出日本工业分布特点，并简析其主要原因。(4 分)

【答案】分布:集中分布在太平洋沿岸;濑户内海沿岸的狭长地带。(2 分)原因:群岛国家,海岸线曲折,多优良港口;海交通便利;矿产贫乏,利于原料,燃料输入;便于工业产品输出;地形平坦;劳动力资源丰富;科技发达;扩大海外市场,提高经济效益等。(任答两点即得 2 分)

20. (15 分) 阅读表文资料,完成下列各题。

材料一 “俄罗斯主要矿产、工业区、铁路分布示意图”





■ 煤炭 ▲ 铁矿 石油 铁路 主要工业区 城市

材料二 2018年5月4日,满载着100吨高等级不锈钢材料的中欧班列“太钢专列”从太原缓缓驶出,发往俄罗斯首都莫斯科。这是太钢主动对接“一带一路”,首次借助中欧班列与欧洲市场连通。“太钢专列”经中欧班列东线从满洲里出境抵达莫斯科,全程8800里。据了解,自去年2月山西首趟中班列开行以来,目前已开辟了7个欧洲城市的班列线路,将进一步推进中欧班列开行常态化,服务“一带一路”建设,助推山西建设开放型经济,为“山西制造”走向世界开辟了广阔的通道。

(1) 在图中用2B铅笔或碳素笔描出北极圈。(1分)

(2) 写出图中字母所代表的地理事物的名称。(3分)

大洋:A _____ 湖泊:B _____ 邻国:C _____

【答案】北冰洋 里海 中国

(3) 俄罗斯国土辽阔,在各种交通运输方式中 _____ 运输起着主导作用。此次“太钢专列”经中欧班列东线抵达的终点是 _____ 该城市是俄罗斯的首都,是最大的城市和最大的 _____ 中心,也是全国的 _____、文化和交通中心。(4分)

【答案】铁路 莫斯科 综合性工业 政治

(4) 俄罗斯矿产资源丰富,基础工业雄厚, _____ 工业和 _____ 工业居世界领先水平,而 _____ 工业比较落后。(3分)

【答案】核 航天 民用

(5) 说出俄罗斯北冰洋沿岸著名的不冻港,并简析其原因。(2分)

【答案】摩尔曼斯克(1分)
原因:(北大西洋)暖流影响。

(6) 探究:俄罗斯经济建设逐步向东发展的原因。(2分)





工大教育

——做最感动客户的专业教育组织

查考试成绩、答案 | 查备课笔记
下载学习资料 | 及时获取最新教育信息

太原工大教育 官方微信号: tygdedu
官方网址: www.tygdedu.cn



【答案】东部地区自然资源丰富;人烟稀少,发展空间大,缩小国内地区经济差异;与东亚等国家进行贸易往来;开拓国际市场等。(任答两点即得 2 分)

附:奖励题(3分)

21. 读“印度季风分布示意图”,完成下列各题。



(1) 印度地处南亚次大陆,每年的 10 月到次年的 5 月,盛行_____季风,降水稀少,为旱季;每年的 6 月到 9 月,盛行_____季风,降水很多,为雨季。(2 分)

【答案】东北 西南

(2) 说出造成印度旱涝灾害频发的主要原因。(1 分)

【答案】西南季风的不稳定

工大教育

——做最感动客户的专业教育组织

手机扫一扫 立即在线预约 专业名师一对一 **试卷分析**

