



太原市 2016~2017 学年第二学期七年级期末考试

历史试卷

(考试时间:下午 5:00—6:30)

说明:本试卷为闭卷笔答,答题时间 90 分钟,满分 100 分。

题号	一	二	三	四	总分
得分					

一、单项选择题(本大题含 15 小题,每小题 2 分,共 30 分)

题号	1	2	3	4	5	6	7	8	9	10	11	12	13	14	15
选项															

1. 在北宋的开封城内有许多娱乐兼营商业的场所,叫做“瓦子”。大的瓦子,可容几千人。瓦子中圈出许多专供演出的圈子,称为“勾栏”。勾栏内商业广告琳琅满目,有各种艺人在这里卖艺谋生,如说书的、唱曲的、演杂剧的、耍杂技的、表演蹴鞠的,令人眼花缭乱。这一现象说明了开封城
 - A. 城市规模大
 - B. 市民生活丰富
 - C. 贸易往来频繁
 - D. 文学艺术繁荣
2. 《元史·地理志》记载:“元有天下,薄海内外,人迹所及,皆置驿传,使驿往来,如行国中。”对这种现象的理解,不正确的是
 - A. 元朝建立了遍布全国的驿站
 - B. 中外交通发达
 - C. 造船技术和航海技术有了较大发展
 - D. 元朝统治严厉
3. 明末清初的思想家顾炎武在抨击明朝的一项统治政策时,认为它束缚思想、扼杀创造力称其危害“等于焚书”。他抨击的是
 - A. 设宣政院
 - B. 废除丞相
 - C. 八股取士
 - D. 设军机处
4. 中国是瓷器的故乡,瓷器的发明是中国对世界文明的伟大贡献。下列属于明朝瓷器典型代表的是



A. 三彩陶瓷



B. 青花海水行龙纹扁瓶



C. 冰裂纹



D. 白瓷

5. 我国的中医源远流长,独具特色,历年出土的商代甲骨文辞中同医学有关的就有三百多片。下列书籍中,能体现我国明朝中医药文化成就的有
 - A. 《农政全书》
 - B. 《天工开物》
 - C. 《资治通鉴》
 - D. 《本草纲目》
6. 下列对明朝北京城的描述,不正确的是
 - A. 明太祖朱元璋建都于此
 - B. 以木结构为主呈现出中轴对称的建筑特点
 - C. 紫禁城是北京城的核心
 - D. 紫禁城是当时世界上最辉煌的皇家建筑群



7. 下列作品与其在中国文学艺术领域的地位描述相符的是

作品	相关内容
A. 张择端的《清明上河图》	描绘了元大都商业的繁华景象
B. 罗贯中《三国演义》	是我国章回体小说的开山之作
C. 吴承恩的《西游记》	批判了吃人的封建礼教, 达到了最高艺术水准
D. 施耐庵的《水浒传》	是一部富于浪漫主义色彩的神话小说

8. 某纪念币收藏网站计划推出“中外交往中的杰出人物”专题展览。下列纪念币中能入选的是



A. 赵匡胤



B. 成吉思汗



C. 马可·波罗



D. 朱元璋

9. 山西人擅长经商。有人说, 凡有麻雀的地方, 就有山西商人的足迹, 晋商的足迹遍及长城内外, 大江南北, 甚至远到外蒙、俄国、日本。对此理解正确的是

- A. 晋商形成于明清时期
B. 晋商资本雄厚, 经营物品齐全
C. 晋商经营的范围广泛, 远至海外
D. “晋商精神”是开拓创业, 讲究诚信
10. 李自成领导的农民起义军所到之处, 得到广大人民的热烈欢迎和拥护。其根本原因是
- A. 明末土地兼并严重, 赋税沉重
B. 农民觉悟高, 拥护起义军
C. 陕西西北部一带连年自然灾害
D. “均田免赋”口号的提出
11. 明朝鼎盛时期, 全国人口达到 1 亿多。到康熙时, 全国人口总数已达到 1.5 亿。乾隆末年, 全国人口发展到 3 亿, 占当时世界总人口的 1/3。清前期人口增加的原因是
- ①耕地面积不断扩大 ②粮食产量大幅提高 ③社会秩序安定 ④城镇商品经济发展
- A. ①②③④
B. ①②③
C. ②③④
D. ①②④
12. 据史料记载, 凡有紧急事务, 雍正则命(张)廷玉立刻入宫, 自己口授大意, 张廷玉则于御前伏地书写, 或是隔着门帘在案几书写, 文稿书写完毕即呈雍正预览, 随即颁行。……军机大臣“只供传述缮撰, 而不能稍有赞画于其间。”上述材料反映出军机处实质上
- A. 是处理政务最重要的中枢机构
B. 军机大臣的主要工作是撰写文稿
C. 军机大臣与皇帝关系十分密切
D. 标志着我国君主专制进一步强化
13. 康熙时有人修《明史》, 对南明的史事使用了明朝纪年, 结果朝廷下令把参与编写、印刷、销售的 70 多人全部处死, 总共处罚了 200 多人。清朝统治者这样做的根本目的是
- A. 打击知识分子
B. 维护集权统治
C. 提倡尊孔读经
D. 严禁文化交流
14. 清朝时, 社会上流传有“三年清知府, 十万雪花银”的民谣, 这反映出清朝
- A. 官员清正廉洁
B. 官吏贪污现象严重
C. 国家财政富裕
D. 政府控制经济收入



15. 中国古代戏曲艺术发展到清代进入一个更为繁荣的时期, 剧种不断增多, 内容丰富, 雅俗共赏。被誉为中国文化“国粹”的是



A. 昆剧



B. 《牡丹亭》



C. 《桃花扇》

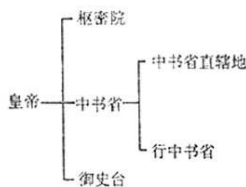


D. 京剧

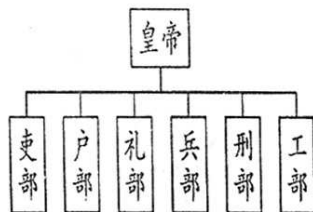
二、简答题(本题共两小题, 每小题 8 分, 共 16 分)

16. 中国古代专制主义中央集权制度在中国延续了 2000 多年。识读下列图表, 回答相关问题。(8 分)

(1) 从图一到图二, 明朝的中央机构发生了什么变化? 明朝对地方官制还进行了哪些改革? (4 分)

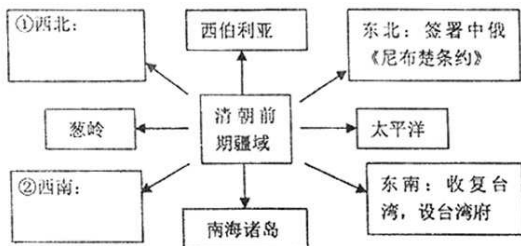


图一 元朝行政机构示意图



图二 明朝中央机构示意图

- (2) 根据下面图示, 写出图中①、②处清朝巩固统一多民族国家的具体措施。(4 分)



图三 清朝疆域示意图



17. 中国古代不同时期的文学形式见证了中华文化的博大精深。下面是夏华同学根据中国古代的文学形式制作的学习卡片, 请你回答横线上的问题。(8分)

体裁:(1) _____
 名句:“君不见黄河之水天上来, 奔流到海不复回。”
 ——李白《将进酒》
 特点:歌颂祖国山河壮美, 诗歌飘逸洒脱、具有浓郁的浪漫情怀。

体裁:宋词
 名句:“醉里挑灯看剑, 梦回吹角连营。”
 ——辛弃疾《破阵子》
 (2)宋词特点:

体裁:元曲
 名句:血溅白练、六月飞雪、三年大旱
 (3)代表作品:

体裁:明清小说
 名句:“开谈不说《红楼梦》, 纵读诗书也枉然。”
 (4)红楼梦的社会历史意义:

三、材料解析题(本大题共两小题, 其中18题18分, 19题16分, 共34分)

18. 从宋元到明清, 中国古代的对外关系呈现了不一样的特点。阅读下列材料, 结合所学知识回答问题。(18分)

材料一 海上丝绸之路最早可追溯到汉代。唐中后期, 陆上丝绸之路因战乱受阻, 加之同时期中国经济重心已向南方转移, 而海路又远比陆路运量大、成本低、安全度高, 海路便取代陆路成为中外贸易的主通道。海上丝绸之路在宋朝达到空前繁盛。

——摘编自《海上丝绸之路》

材料二 郑和七次下西洋, 海上丝绸之路盛极一时。他每到一地, 都以中国的丝绸和瓷器换取当地的特产或馈赠当地的国王, 与当地居民公平交易, 互通有无, 不占别国一寸土地, 未掠夺他人一分财富。

——《郑和下西洋——伟大的和平使者》

材料三 “一年三百六十日, 多是横戈马上行”、“一片担心风浪里, 心怀击楫敢忘忧”、“遥知百国微茫外, 未敢望负岁华”、“封侯非我意, 但愿海波平”。

——戚继光

材料四 台湾者, 中国之土地也, 久为贵国所据, 今余即来索, 则地当归我……

——连横《台湾通史》

- (1) 根据材料一并结合所学知识, 简述“海上丝绸之路在宋朝达到空前繁盛”的原因。(4分)
- (2) 根据材料二并结合所学知识, 写出郑和下西洋最远到达的地区。郑和的远航具有怎样的历史意义?(4分)
- (3) 材料三的诗句抒发了戚继光怎样的情怀和抱负? 为什么说领导抗倭战争是反侵略战争?(4分)



(4)材料四中的“贵国”指的是哪个国家?为什么郑成功确认台湾是中国的土地?(4分)

(5)综合上述材料,明朝中期以后,我国古代的对外关系出现了怎样的变化?(2分)

19. 中国古代经济发展经历了漫长曲折的历程。阅读下列材料,结合所学知识,回答问题。(16分)

材料一 大城市瓦子勾栏里的文娱活动是适应中下阶层百姓的需要而产生发展的,基本上能满足这一阶层人们的趣味和爱好,以至有“勾栏不闹,终日团圆”的说法。

——中华书局

材料二

1661~1766年耕地面积

年代	耕地面积(顷)
1661年(顺治十八年)	5 493 576
1685年(康熙二十四年)	6 078 430
1724年(雍正二年)	6 837 914
1766年(乾隆三十一年)	7 414 495

材料三 18世纪时,西方国家进行了工业革命,轰鸣的机器把西方社会带入了工业化时代。随着英国资本主义的发展,开辟新的更大的市场成了英国资产阶级的迫切需求。英国殖民者在控制了印度等地以后,更加垂涎富饶的中国,因此他们积极要求开放中国的市场,加强对中国的侵略活动。而当时的中国,仍处在封闭的状态中,以农业为主的传统自然经济占主导地位。在东西文明的冲撞中,此消彼长,中国开始落后于西方。

——材料二、三摘自于七年级下册部编教材

(1)材料一反映了勾栏瓦子出现的原因是什么?它的出现与经济的繁荣和城市的发展有何关系?(4分)

——做最感动客户的专业教育组织

(2)材料二中1661年~1766年耕地面积发生了什么变化?出现这种变化的因素有哪些?(6分)

(3)材料三中“中国开始落后于西方”的主要原因有哪些?(4分)

(4)综上所述,归纳影响古代经济发展的主要因素。(2分)

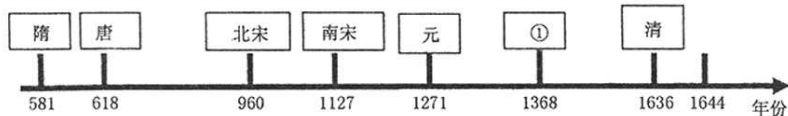
四、探究题(本题共20分)

20. 学习历史的方法多种多样,同学们能从不同的学史方法中汲取智慧,丰富知识。请你运用所掌握的历史方法与技能,完成下面学习任务。



任务一 【运用年代尺——构建时空观】(6分)

(1)下面历史朝代年代尺上①处的朝代是_____,该朝代是怎样建立的?(4分)



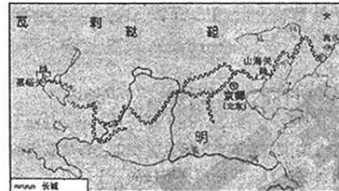
(2)写出上面朝代中结束长期分裂局面,完成全国统一的王朝。(2分)

任务二 【对比历史地图——感悟时代精神】(4分)

(3)秦朝大规模修筑长城,明朝重新修筑,现在我们见到的长城,大部分是明朝修筑的。观察下图,秦、明两朝修筑长城的共同目的是什么?今天依然提倡“爱我长城”有何现实意义?



秦长城示意图



明长城示意图

任务三 【进行史论结合——评述历史贡献】(6分)

(4)根据培根的评述,说明中国古代的印刷术、火药、指南针等对世界文明做出的重要贡献。

17世纪英国著名的哲学家培根在他的著作中写到:“举世皆知的印刷术、火药和磁石,人类的世界因为这三种发明为之改观。首先在学术上,其次在战争中,最后是在航行方面,而因此又引出了不计其数的变化。由此,人类的文明也得到了极大地发展。”

任务四 【通过史料描述——体验传统文化】(4分)

(5)下面的两则材料分别描述了哪两个传统节日?谈谈你对传统节日的看法。

材料一 用面造枣锢飞燕,……凡新坟皆用此日祭扫,都城人出郊。

材料二 诸店皆卖新酒,……贵族结饰台榭(富贵之家搭建装饰台榭),民间争占酒楼玩月。

——材料选自孟元老《东京梦华录》