



测评编号

姓名

班级

学校

题 答 不 内 线 封 弥

太原市 2016~2017 学年第一学期八年级期末考试

地理试卷

(考试时间:下午 2:30—4:00)


说明:本试卷为闭卷笔答,答题时间 90 分钟,满分 100 分。

题号	一	二	三	四	总分
得分					


一、选择题(每小题 2 分,共 30 分。下列各题的选项中,只有一项符合题目要求,请将正确选项的字母填入下表相应位置。)

题号	1	2	3	4	5	6	7	8	9	10	11	12	13	14	15
选项															

1. 根据因地制宜发展农业的原则,下列地区能够形成黄土高原“米粮川”的是




A. 低山区



B. 河谷区



C. 山地



D. 沟壑区

2. 下列工业部门属于轻工业的是

A. 化学工业

B. 冶金工业

C. 造船工业

D. 食品工业

3. 我国是一个海陆兼备的国家,东侧濒临的大洋是

A. 太平洋

B. 大西洋

C. 印度洋

D. 北冰洋

4. 世界上人数最多的民族是

A. 壮族

B. 汉族

C. 满族

D. 回族

5. 位于我国地势第一级阶梯的盆地是

A. 准噶尔盆地

B. 塔里木盆地

C. 柴达木盆地

D. 四川盆地

6. 人们通常把降温地区广、降温幅度大、持续时间长的强冷空气称为

A. 霜冻

B. 台风

C. 梅雨

D. 寒潮

7. 下列属于可再生资源的是

A. 煤炭、石油、天然气

B. 煤炭、铁矿、生物

C. 风能、水能、太阳能

D. 土地、风能、石油



8. 下列行为符合低碳生活、绿色出行的是

- A. 节日期间同学互赠纸质贺卡
B. 经常骑自行车出行
C. 就餐时喜欢使用一次性物品
D. 每天以私家车代步

9. 我们通常所说的水资源主要是指

- A. 江河水、湖泊水、浅层地下水
B. 江河水、湖泊水、海洋水
C. 江河水、湖泊水、深层地下水
D. 江河水、湖泊水、大陆冰川

10. 解决水资源季节分配不均的主要办法是

- A. 兴修水库
B. 发展节水农业
C. 一水多用
D. 防治水污染

11. 缓解部分地区水资源短缺问题的主要办法是

- A. 海水淡化
B. 城市优先供水
C. 提高水价
D. 跨区域调水

12. 右图漫画反映的问题主要是

- A. 乱砍滥伐引发水土流失
B. 过度放牧导致土地荒漠化
C. 不合理开发和破坏森林资源
D. 大水漫灌导致水资源浪费



13. 南水北调的水资源主要来自于

- A. 黄河及其支流
B. 长江及其支流
C. 珠江及其支流
D. 淮河及其支流

14. 具有机动灵活的特点, 可以满足“门对门”服务的运输方式是

- A. 公路运输
B. 铁路运输
C. 航空运输
D. 水路运输

15. 既是我国重要的航运中心, 又是重要的国际航空港的有

- A. 太原、北京、天津
B. 北京、大连、上海
C. 上海、广州、香港
D. 成都、杭州、海口

二、表格题(共10分)

16. (6分) 按要求完成表格内容。

货 物	起止点	运输方式	选择的理由
30 万吨煤炭	秦皇岛——上海		
50 箱急救药品	北京——乌鲁木齐		
5000 斤苹果	太原阳曲——太原市区		

17. (4分) 按要求完成表格内容。

名 称	特 色
辽中南工业基地	我国_____工业基地
京津唐工业基地	我国_____工业基地
沪宁杭工业基地	我国_____工业基地
珠江三角洲工业基地	我国_____工业基地



三、读图分析题(共 45 分)

18. (15 分)读“中国主要土地利用类型分布图”,完成下列各题。



(1)图中所示的农业用地主要包括以水田为主的耕地、_____、_____和_____。(3分)

(2)从地形类型上看,我国的草地主要分布在西部的_____和_____;从干湿地区上看,我国的草地主要分布在中西部的_____地区和_____地区。(4分)

(3)下列关于我国土地资源基本特点的叙述,正确的是() (2分)

- A. 资源总量丰富,且人均量也多
C. 类型多种多样,区域差异显著

- B. 难以开发利用的比例小
D. 耕地后备资源十分充足

(4)我国坚守的耕地红线是() (2分)

- A. 10 亿亩
C. 20 亿亩

- B. 18 亿亩
D. 28 亿亩

(5)下图属于破坏和浪费土地资源现象的是() (2分)



A. 大水漫灌



B. 浪费水资源



C. 过度放牧

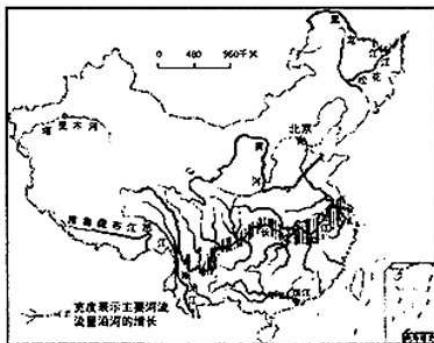


D. 滥吃野生动物

(6)请你为合理利用和保护土地资源献计献策。(2分)



19. (15分) 读“中国主要河流流量示意图”，完成下列各题。



- (1) 在图中用 2B 铅笔或碳素笔描出黄河干流。(1分)
- (2) 我国有许多大江大河，其中流量最大的是_____；长度居第二位的是_____；最长的内流河是_____；汛期最长的是_____。(4分)
- (3) 我国水资源总量_____，但人均占有量_____。我国水资源从空间分布看，东部_____，西部_____；南方_____，北方_____。(6分)
- (4) 结合下表，完成要求。(4分)

地区 项目	南方地区			北方地区			
	合计	西南	东南	合计	东北	华北	西北
人口	57.6	19.6	38.0	42.4	8.8	26.6	7.0
耕地	39.8	14.4	25.4	60.2	17	31.2	12
水资源	80.2	46.5	33.7	19.8	5.6	6.1	8.1

你认为南方地区人口、耕地和水资源的组合状况是：

你认为北方地区人口、耕地和水资源的组合状况是：



20. (15分)读“中国农业地区分布图”,完成下列各题。



(1)在图中用 2B 铅笔或碳素笔描出新疆牧区的范围。(1分)

(2)写出图中字母所代表的牧区的名称。(3分)

A. _____ B. _____ C. _____

(3)农业是国民经济的基础,主要生产部门包括 _____ 业、_____ 业、_____ 业和 _____ 业。(4分)

(4)我国三大林区主要分布在() (2分)

A. 西北、西南、东南

B. 东北、西北、华北

C. 西北、青藏、华南

D. 东北、西南、东南

(5)下列属于我国新疆地区传统饮食的是() (2分)



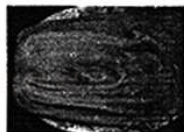
A. 羊肉串



B. 红烧大虾



C. 火锅



D. 酸白菜

(6)请举例说出科学技术在农业发展中的具体运用。(3分)



四、材料分析题(共 15 分)

21. (15 分) 阅读图文材料, 完成下列各题。

材料一 “神舟十一号飞船与天宫二号组合体飞行模拟图”



景海鹏和陈冬

材料二 2016 年 10 月 17 日, 我国神舟十一号载人飞船在酒泉卫星发射中心成功发射, 飞船入轨后经过两天独立飞行完成与天宫二号空间实验室自动交会对接。航天员景海鹏和陈冬进驻天宫二号期间, 开展了空间科学实验与应用技术试验及科普活动。11 月 18 日, 神舟十一号与天宫二号顺利分离, 成功返回祖国, 结束了 33 天的太空遨游。神舟十一号飞行是中国第 6 次载人飞行, 完成了中国迄今为止时间最长的一次载人飞行, 也创造了中国航天员太空驻留时间的新纪录。

- (1) 神舟十一号载人飞船在_____卫星发射中心成功发射, 其在太空遨游了_____天, 完成了中国迄今为止时间_____的一次载人飞行, 也创造了中国航天员太空_____的新纪录。(4 分)
- (2) 航天员景海鹏和陈冬在天宫二号实验室开展了_____实验与_____试验及_____活动。(3 分)
- (3) 下列工业部门属于高新技术领域的是() (2 分)

A. 煤炭、钢铁、冶金	B. 汽车制造、电子信息
C. 纺织、化学、机械	D. 航天航空、电子信息
- (4) 下列关于航天航空工业的叙述, 正确的是() (2 分)

A. 产品的科技含量相当高	B. 科技人员所占比例低
C. 布局受原料制约较大	D. 产品研发费用非常少
- (5) 高新技术产业的布局主要依赖于() (2 分)

A. 广阔的市场	B. 能源和原材料
C. 知识与技术	D. 丰富的劳动力
- (6) 未来, 我国还将发射神舟十二号、十三号等, 你希望航天员在太空实验室开展哪些方面的实验呢? (2 分)